

В.М. Колісніченко, В.І. Солод

ГЕОГРАФІЯ

Тренувальні тести

**Навчальний посібник для підготовки
до зовнішнього незалежного оцінювання**

*Рекомендовано Міністерством освіти і науки,
молоді та спорту України*

Київ
«Генеза»
2013

Навчально-методичне видання

**КОЛІСНІЧЕНКО Віра Михайлівна
СОЛОД Віра Іванівна**

ГЕОГРАФІЯ

Тренувальні тести

**Навчальний посібник для підготовки
до зовнішнього незалежного оцінювання**

*Рекомендовано Міністерством освіти і науки,
молоді та спорту України*

Головний редактор *Наталія Заблоцька*

Редактор *Світлана Андрющенко*

Обкладинка *Світлани Железняк*

Макет *Олени Мамаєвої*

Виготовлення ілюстрацій *Олександра Дружинського*

Комп'ютерна верстка *Клари Шалигіної, Тамари Скалиги,*

Світлани Лобунець

Коректор *Інна Іванюць*

Формат 60×84/8. Ум. друк. арк. 11,16. Обл.-вид. арк. 10,04.

Тираж 20 023 пр.

Вид. № 1223. Зам. №12-11-2704.


Видавництво «Гене́за», вул. Тимошенка, 2-л, м. Київ, 04212.

Свідоцтво суб'єкта видавничої справи серія ДК № 3966 від 01.02.2011.

Віддруковано з готових позитивів у

ТОВ «ПЕТ», вул. Ольмінського, 17, м. Харків, 61024.

Свідоцтво суб'єкта видавничої справи серія ДК № 3179 від 08.05.2008.



Любі друзі!

Зовнішнє тестування з географії спрямоване на виявлення рівня ваших навчальних досягнень. Щоб краще підготуватися до нього, прочитайте наведену нижче інструкцію (пам'ятку) і намагайтеся дотримуватися її. Спробуйте виконати всі запропоновані варіанти тестів. Слідкуйте за часом, який ви витрачаєте на виконання завдань, адже вміння хронометрувати свою роботу є важливою складовою вашого успіху під час виконання екзаменаційної тестової роботи.

Для розв'язання вам представлено тестові завдання різних типів, які складені на основі змісту всіх шкільних географічних курсів. Зокрема, є тестові завдання закритого типу з вибором однієї правильної відповіді, тестові завдання закритого типу з множинним вибором, на визначення відповідності частин і правильної послідовності; завдання відкритого типу, які передбачають коротку відповідь.

Тест, тобто один варіант, складається із 56 тестових завдань різного формату. Намагайтеся кожний варіант виконати не більше ніж за 150 хв, бо саме стільки часу вам буде відведено для розв'язання екзаменаційного тесту. Завдання з 1 по 42 мають по чотири варіанти відповідей. У кожному завданні лише **ОДНА ПРАВИЛЬНА** відповідь. Оберіть правильну відповідь та позначте її у відповідній клітинці. Завдання 43–48 мають на меті встановлення відповідності частин (логічної пари). До кожного рядка, позначеного **ЦИФРОЮ**, доберіть відповідник, позначений **БУКВОЮ**, і впишіть її у таблицю. Завдання 49–54 мають по сім варіантів відповідей. У кожному завданні правильних відповідей **ТРИ**. Завдання 55, 56 – відкриті. Це географічні задачі з фізичної та економічної географії, у результаті розв'язання яких необхідно вписати в клітинки правильну числову відповідь.

Відповідайте тільки після того, як уважно прочитали та зрозуміли завдання і правила його виконання. Відповіді вписуйте чітко, не допускаючи зайвих виправлень. Короткі відповіді на відкриті завдання записуйте в спеціально відведених для цього клітинках.

Намагайтеся відповісти на всі тестові завдання, незважаючи на невпевненість у правильності відповіді, а потім обов'язково перевірте себе. Відповіді на всі тестові завдання до кожного варіанта тесту наведено наприкінці посібника. Після виконання усіх завдань одного варіанта тесту підрахуйте самостійно отримані вами бали. За правильно виконані всі завдання тесту ви маєте отримати 88 балів, які за певною методикою перераховують на 200-бальну систему при вступі до вищого навчального закладу.

Зичимо вам успіху!

ВАРІАНТ 1

1. Вкажіть, які з названих гірських порід належать до метаморфічних:

- А. Фосфорити і графіт.
- Б. Гнейс і мрамур.
- В. Золото і боксити.
- Г. Пісок і торф.

А	Б	В	Г
<input type="checkbox"/>	<input type="checkbox"/>	<input type="checkbox"/>	<input type="checkbox"/>

2. Назвіть прізвище мандрівника, який вперше здійснив навколосвітню подорож:

- А. Америго Веспуччі.
- Б. Христофор Колумб.
- В. Васко да Гама.
- Г. Фернан Магеллан.

А	Б	В	Г
<input type="checkbox"/>	<input type="checkbox"/>	<input type="checkbox"/>	<input type="checkbox"/>

3. Виберіть джерело географічної інформації, яке дає наочне уявлення про розташування географічних об'єктів на Землі:

- А. Підручник.
- Б. Географічний словник.
- В. Географічна карта.
- Г. Енциклопедія.

А	Б	В	Г
<input type="checkbox"/>	<input type="checkbox"/>	<input type="checkbox"/>	<input type="checkbox"/>

4. Вкажіть, що є найголовнішим наслідком обертання Землі навколо Сонця:

- А. Зміна дня і ночі.
- Б. Зміна пір року.
- В. Сплюснення Землі біля полюсів.
- Г. Відсутність річної ритмічності.

А	Б	В	Г
<input type="checkbox"/>	<input type="checkbox"/>	<input type="checkbox"/>	<input type="checkbox"/>

5. Назвіть країну, у якій зберігається найстаріший глобус Землі:

- А. Росія.
- Б. Україна.
- В. США.
- Г. Німеччина.

А	Б	В	Г
<input type="checkbox"/>	<input type="checkbox"/>	<input type="checkbox"/>	<input type="checkbox"/>

6. Зазначте, як змінюється температура вологого повітря з висотою:

- А. Знижується на кожні 100 м висоти на 0,6 °С.
- Б. Підвищується на кожні 100 м висоти на 1 °С.
- В. Знижується на кожні 100 м висоти на 1 °С.
- Г. Залишається незмінною.

А	Б	В	Г
<input type="checkbox"/>	<input type="checkbox"/>	<input type="checkbox"/>	<input type="checkbox"/>

7. Оберіть природні процеси, що найсуттєвіше впливають на життя і діяльність людей в країнах Східної і Північно-Східної Азії:

- А. Поштовхи земної кори, повені, зсуви.
- Б. Коливальні рухи земної кори, вивітрювання, дефляція.
- В. Вулканізм, розвіювання пісків, цунамі.
- Г. Акумуляція гірських порід, землетруси, хвилювання.

А	Б	В	Г
<input type="checkbox"/>	<input type="checkbox"/>	<input type="checkbox"/>	<input type="checkbox"/>

8. Зазначте опади, що утворюються з хмар:

- А. Туман.
- Б. Іній.
- В. Роса.
- Г. Сніг.

А	Б	В	Г
<input type="checkbox"/>	<input type="checkbox"/>	<input type="checkbox"/>	<input type="checkbox"/>

9. Оберіть переважаючий тип клімату в середніх широтах земної кулі:

- А. Океанічний арктичний.
- Б. Помірно континентальний.
- В. Тропічний вологий.
- Г. Екваторіальний.

А	Б	В	Г
<input type="checkbox"/>	<input type="checkbox"/>	<input type="checkbox"/>	<input type="checkbox"/>

10. Позначте материк, на якому понад 2/3 населення живе в містах:

- А. Євразія.
- Б. Північна Америка.
- В. Африка.
- Г. Південна Америка.

А	Б	В	Г
<input type="checkbox"/>	<input type="checkbox"/>	<input type="checkbox"/>	<input type="checkbox"/>

11. Вкажіть головну причину утворення і сучасного розташування материків:

- А. Виверження вулканів.
- Б. Рух літосферних плит.
- В. Зміна клімату Землі.
- Г. Коливальні рухи земної кори.

А	Б	В	Г
<input type="checkbox"/>	<input type="checkbox"/>	<input type="checkbox"/>	<input type="checkbox"/>

12. Вкажіть океан, у якому зосереджено найбільше глибоководних жолобів:

- А. Північний Льодовитий.
- Б. Індійський.
- В. Атлантичний.
- Г. Тихий.

А	Б	В	Г
<input type="checkbox"/>	<input type="checkbox"/>	<input type="checkbox"/>	<input type="checkbox"/>

13. Зазначте найхарактернішу особливість режиму річок, розміщених на територіях з помірно континентальним кліматом:

- А. Повноводні упродовж року.
- Б. Переважають паводки.
- В. Мілководні протягом року.
- Г. Повноводні навесні.

А	Б	В	Г
<input type="checkbox"/>	<input type="checkbox"/>	<input type="checkbox"/>	<input type="checkbox"/>

14. Вкажіть океан, у якому трапляється найбільша за розмірами медуза:

- А. Північний Льодовитий.
- Б. Індійський.
- В. Атлантичний.
- Г. Тихий.

А	Б	В	Г
<input type="checkbox"/>	<input type="checkbox"/>	<input type="checkbox"/>	<input type="checkbox"/>

15. Зазначте форму рельєфу, що сформувалася на давній тектонічній структурі:

- А. Уральські гори.
- Б. Східноєвропейська рівнина.
- В. Карпати.
- Г. Верхоянський хребет.

А	Б	В	Г
<input type="checkbox"/>	<input type="checkbox"/>	<input type="checkbox"/>	<input type="checkbox"/>

16. Назвіть найдовшу річку на материк Євразія:

- А. Дунай.
- Б. Дніпро.
- В. Хуанхе.
- Г. Янцзи.

А	Б	В	Г
<input type="checkbox"/>	<input type="checkbox"/>	<input type="checkbox"/>	<input type="checkbox"/>

17. Вкажіть найбільші за розмірами географічний пояс і природну зону в межах Африки:

- А. Тропічний – напівпустелі і пустелі.
- Б. Екваторіальний – гілеї.
- В. Субтропічний – вічнозелені твердолисті ліси і чагарники.
- Г. Субекваторіальний – савани і рідколісся.

А	Б	В	Г
<input type="checkbox"/>	<input type="checkbox"/>	<input type="checkbox"/>	<input type="checkbox"/>

18. Зазначте основну причину дуже низької температури в Антарктиді:

- А. Значна кількість сонячного випромінювання в полярний день.
- Б. Високий рівень альbedo поверхні.
- В. Тривала полярна ніч.
- Г. Гірський рельєф.

А	Б	В	Г
<input type="checkbox"/>	<input type="checkbox"/>	<input type="checkbox"/>	<input type="checkbox"/>

19. Вкажіть міжнародну неурядову організацію, яка займається охороною дикої природи:

- А. ООН.
- Б. ЮНЕП.
- В. МСОП.
- Г. ЄС.

А	Б	В	Г
<input type="checkbox"/>	<input type="checkbox"/>	<input type="checkbox"/>	<input type="checkbox"/>

20. Вкажіть антропогенні комплекси, які зазнали цілеспрямованих змін унаслідок господарської діяльності людини:

- А. Культурні.
- Б. Природоохоронні.
- В. Бедленди.
- Г. Штучні.

А	Б	В	Г
<input type="checkbox"/>	<input type="checkbox"/>	<input type="checkbox"/>	<input type="checkbox"/>



21. Визначте форму рельєфу, позначену на карті цифрою:

- А. Приазовська височина.
- Б. Хотинська височина.
- В. Подільська височина.
- Г. Придніпровська низовина.

А	Б	В	Г

22. Вкажіть річку, що розміщена в басейні Дністра:

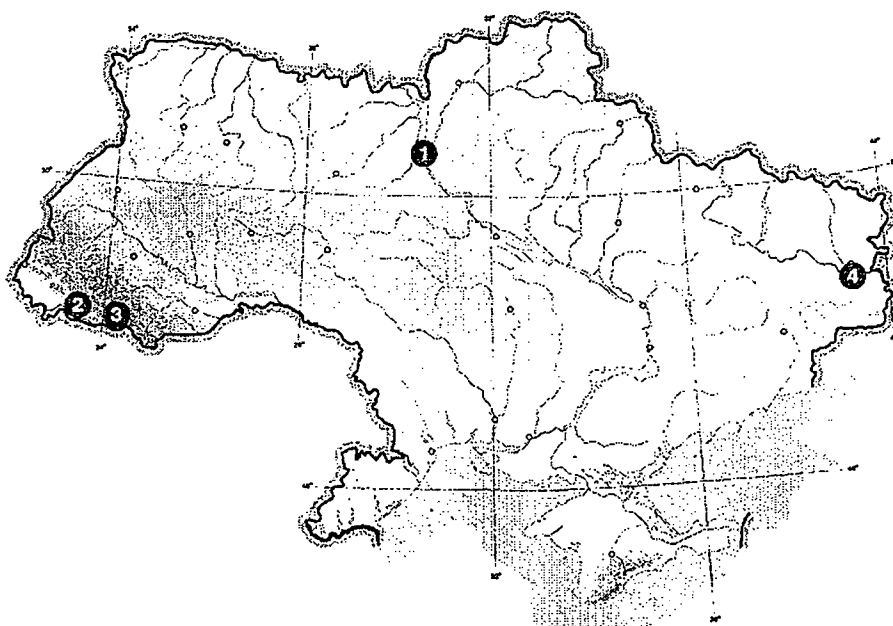
- А. Прут.
- Б. Ворскла.
- В. Тетерів.
- Г. Стрий.

А	Б	В	Г

23. Вкажіть, якою цифрою позначено на карті пункт, розташований в континентальній кліматичній області:

- А. 1.
- Б. 2.
- В. 3.
- Г. 4.

А	Б	В	Г



24. Визначте явище, яке часто повторюється в Україні і зумовлене тривалою нестачею атмосферних опадів за високої температури в теплу пору року:
- А. Пилова буря.
Б. Шквал.
В. Буревій.
Г. Засуха.
- А Б В Г
- | | | | |
|--|--|--|--|
| | | | |
|--|--|--|--|
25. Вкажіть чинник, який є визначальним у формуванні чорноземів у степовій зоні України:
- А. Рельєф.
Б. Наявність лесових порід.
В. Високе зволоження.
Г. Панівні вітри.
- А Б В Г
- | | | | |
|--|--|--|--|
| | | | |
|--|--|--|--|
26. Визначте поняття, зміст якого розкриває наведений нижче текст:
Відновлення земель, яким завдано шкоди внаслідок господарської діяльності людини.
- А. Меліорація.
Б. Рекультивація.
В. Пейонізація.
Г. Денудація.
- А Б В Г
- | | | | |
|--|--|--|--|
| | | | |
|--|--|--|--|
27. Назвіть область України, яка є найбільш однорідною за національним складом:
- А. Донецька.
Б. Закарпатська.
В. Одеська.
Г. Черкаська.
- А Б В Г
- | | | | |
|--|--|--|--|
| | | | |
|--|--|--|--|
28. Вкажіть галузь промисловості України, яка посідає провідне місце в експорті продукції:
- А. Машинобудування.
Б. Хімічна промисловість.
В. Деревообробна промисловість.
Г. Чорна металургія.
- А Б В Г
- | | | | |
|--|--|--|--|
| | | | |
|--|--|--|--|
29. Вкажіть галузі харчової промисловості України, що у своєму розміщенні орієнтуються переважно на сировину:
- А. Консервна, рибна, олійножирова.
Б. Маслоробна, кондитерська, молочна.
В. Макаронна, рибна, м'ясна.
Г. Рибна, хлібопекарська, цукрова.
- А Б В Г
- | | | | |
|--|--|--|--|
| | | | |
|--|--|--|--|
30. Визначте галузь господарства України, яка розвивається нині швидкими темпами і забезпечує передавання і приймання інформації, обслуговує всі галузі матеріального виробництва, управління та оборону держави, служить для задоволення побутових і культурних потреб населення.
- А. Транспорт.
Б. Зв'язок.
В. Банківська справа.
Г. Освіта.
- А Б В Г
- | | | | |
|--|--|--|--|
| | | | |
|--|--|--|--|
31. Зазначте економічний район України, у якому розташовано найбільше промислових агломерацій:
- А. Північно-Східний.
Б. Донецький.
В. Придніпровський.
Г. Карпатський.
- А Б В Г
- | | | | |
|--|--|--|--|
| | | | |
|--|--|--|--|
32. Вкажіть аграрно-індустріальний район України:
- А. Придніпровський.
Б. Донецький.
В. Центральний.
Г. Північно-Східний.
- А Б В Г
- | | | | |
|--|--|--|--|
| | | | |
|--|--|--|--|

33. Оберіть найбільші за площею держави світу:

- А. США, Канада, Бразилія.
- Б. Росія, Канада, Китай.
- В. Бразилія, Саудівська Аравія, Індія.
- Г. Росія, Україна, США.

А	Б	В	Г
<input type="checkbox"/>	<input type="checkbox"/>	<input type="checkbox"/>	<input type="checkbox"/>

34. Зазначте країну, якій належить перше місце в світі за запасами газу:

- А. Саудівська Аравія.
- Б. Іран.
- В. Росія.
- Г. Алжир.

А	Б	В	Г
<input type="checkbox"/>	<input type="checkbox"/>	<input type="checkbox"/>	<input type="checkbox"/>

35. Зазначте країну, яка посідає перше місце в Європі за показником ріллі на душу населення:

- А. Україна.
- Б. Франція.
- В. Росія.
- Г. Німеччина.

А	Б	В	Г
<input type="checkbox"/>	<input type="checkbox"/>	<input type="checkbox"/>	<input type="checkbox"/>

36. Зазначте галузь світового господарства, яка за показником експорту входить до першої трійки експортноорієнтованих галузей:

- А. Міжнародний туризм.
- Б. Текстильна промисловість.
- В. Вугільна промисловість.
- Г. Освіта.

А	Б	В	Г
<input type="checkbox"/>	<input type="checkbox"/>	<input type="checkbox"/>	<input type="checkbox"/>

37. Вкажіть країни, що входять до складу Західної Європи:

- А. Угорщина, Чехія, Німеччина.
- Б. Німеччина, Бельгія, Австрія.
- В. Швеція, Іспанія, Португалія.
- Г. Білорусь, Україна, Росія.

А	Б	В	Г
<input type="checkbox"/>	<input type="checkbox"/>	<input type="checkbox"/>	<input type="checkbox"/>

38. Визначте країну за наведеним нижче описом:

Це давня держава, розміщена на півострові. Є федеративною республікою, одним з лідерів країн, що розвиваються. За кількістю мусульманського населення є найбільшою країною у світі. Країна багата на різноманітні природні ресурси: вугілля, високоякісну залізну руду, руди кольорових металів, урану тощо. Є однією з найбільших залізничних держав світу.

- А. Саудівська Аравія.
- Б. Іран.
- В. Пакистан.
- Г. Індія.

А	Б	В	Г
<input type="checkbox"/>	<input type="checkbox"/>	<input type="checkbox"/>	<input type="checkbox"/>

39. Визначте країну за наведеним нижче описом:

Країна має найбільшу чисельність населення серед країн Центральної Європи. Населення однонаціональне. Серед національних меншин переважають німці і українці. Переважна більшість населення – католики.

- А. Угорщина.
- Б. Італія.
- В. Польща.
- Г. Словаччина.

А	Б	В	Г
<input type="checkbox"/>	<input type="checkbox"/>	<input type="checkbox"/>	<input type="checkbox"/>

40. Одним з основних шляхів здійснення регіональної політики в країнах Європейського Союзу є залучення інвестицій з більш розвинутих регіонів держави в менш розвинуті. Зазначте географічний напрямок інвестицій, що характерний для регіональної політики Італії.

- А. Захід → схід.
- Б. Схід → захід.
- В. Північ → південь.
- Г. Південь → північ.

А	Б	В	Г
<input type="checkbox"/>	<input type="checkbox"/>	<input type="checkbox"/>	<input type="checkbox"/>

41. Вкажіть, у якій країні на незначній території океанічного узбережжя зосереджено основну промислову базу, де підприємства металургійної, хімічної та інших галузей промисловості виробляють експортну продукцію, використовуючи імпортовану сировину та новітні технології.

- А. Австралія.
- Б. Росія.
- В. США.
- Г. Японія.

А	Б	В	Г

42. Обчисліть рівень безробіття в країні (у відсотках), якщо кількість трудових ресурсів становить 18 млн осіб, а кількість офіційно зареєстрованих безробітних – 0,5 млн осіб.


- А. 2,8.
- Б. 2,7.
- В. 2,0.
- Г. 3,7.

А	Б	В	Г

43. Знайдіть відповідність між назвою об'єкта і його умовним позначенням на топографічній карті:

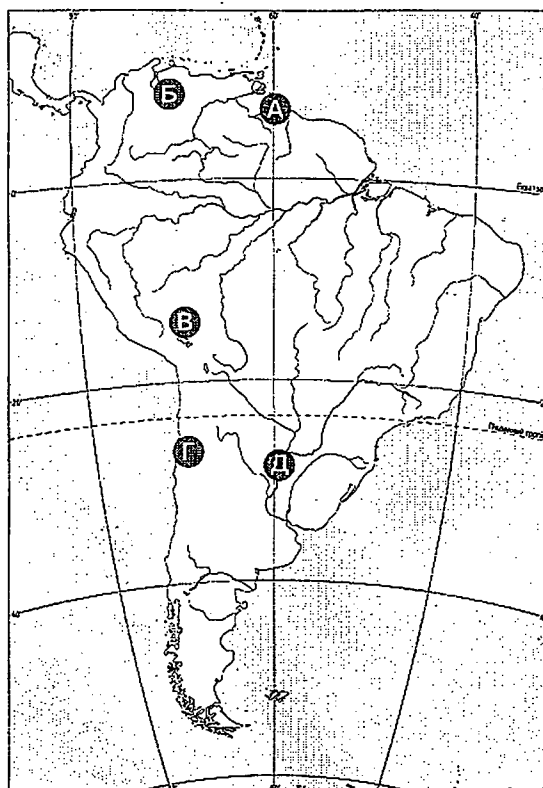
- 1. Фруктовий сад.
- 2. Болото.
- 3. Рідколісся.
- 4. Луки.

	А	Б	В	Г	Д
1					
2					
3					
4					



44. Знайдіть відповідність між об'єктами, позначеними на карті Південної Америки, і вказаними назвами:

- 1. Озеро Тітікака.
- 2. Пустеля Атакама.
- 3. Водоспад Анхель.
- 4. Озеро Маракайбо.



	А	Б	В	Г	Д
1					
2					
3					
4					

45. Знайдіть відповідність між тектонічною структурою і формою рельєфу України:

1. Український кристалічний щит.
 2. Скіфська плита.
 3. Причорноморська западина.
 4. Дніпровсько-Донецька западина.
- А. Північнокримська низовина.
 Б. Придніпровська височина.
 В. Середньоросійська височина.
 Г. Придніпровська низовина.
 Д. Причорноморська низовина.

	А	Б	В	Г	Д
1					
2					
3					
4					

46. Встановіть відповідність між країнами і рівнем їхнього соціально-економічного розвитку:

1. Україна, Грузія, Молдова.
 2. Франція, США, Японія.
 3. Куба, Китай, В'єтнам.
 4. Малайзія, Таїланд, Чилі.
- А. Країни із централізовано керованою економікою.
 Б. Нові індустріальні країни.
 В. Країни перехідного типу економіки.
 Г. Найменш розвинуті.
 Д. Високорозвинуті.

	А	Б	В	Г	Д
1					
2					
3					
4					

47. Установіть відповідність між океанами і морями:

1. Тихий.
 2. Атлантичний.
 3. Індійський.
 4. Північний Льодовитий.
- А. Середземне.
 Б. Аравійське.
 В. Охотське.
 Г. Київське.
 Д. Баренцове.

	А	Б	В	Г	Д
1					
2					
3					
4					

48. Установіть відповідність між природними краями і переважаючими на їхній території ландшафтами:

1. Українське Полісся.
 2. Західноукраїнський лісостеповий.
 3. Донецький північностеповий.
 4. Кримський степовий.
- А. Височинні з фрагментами лісостепів і байрачних лісів.
 Б. Полинно-злакові.
 В. Гірсько-лучно-лісові.
 Г. Моренно-зандрові.
 Д. Товтрові.

	А	Б	В	Г	Д
1					
2					
3					
4					

49. Зазначте висотні пояси Українських Карпат:

1. Буково-смерекові ліси.
2. Гірські степи.
3. Ялиново-смерекові ліси.
4. Вічнозелені ліси.
5. Дубові ліси.
6. Криволісся.
7. Субальпійські луки.

--	--	--	--

50. Зазначте сільськогосподарські культури, які належать до зернових і вирощуються в Україні:

1. Соя.
2. Жито.
3. Пшениця.
4. Гречка.
5. Ячмінь.
6. Сорго.
7. Арахіс.

--	--	--	--

51. Зазначте основні причини утворення боліт:

1. Наявність торфу.
2. Наявність безстічного озера.
3. Застій води над водозбором.
4. Обов'язкова наявність заглиблення в земній корі.
5. Наявність болотної рослинності.
6. Надмірна кількість підземних вод чи атмосферних опадів.
7. Наявність торфу.

--	--	--

52. Оберіть причини повноводності Амазонки:

1. Значна площа басейну і водозбору.
2. Має мішане живлення.
3. Протікає рівниною.
4. В річку впадає понад 500 приток.
5. Переважання у циркуляції циклонів.
6. Притоки розташовані в різних півкулях, де сезони дощів не збігаються.
7. Живляться переважно підземними водами.

--	--	--

53. Зазначте причини повсюдного розвитку хімічної промисловості в Україні:

1. Багатогалузевість.
2. Значна кількість природної сировини.
3. Наявність безпечних хімічних підприємств.
4. Наявність потрібних кваліфікованих трудових ресурсів.
5. Наявність відходів і побічних продуктів для виробництва хімічної продукції.
6. Наявність великої кількості ринків збуту продукції.
7. Безпечність виробництва.

--	--	--

54. Вкажіть риси, які характеризують сучасний стан розвитку світового господарства:

1. Орієнтація на природно-ресурсну базу.
2. Залежність від ТНК.
3. Концентрація виробництва в розвинутих країнах.
4. Розширення обміну послугами, інформацією, патентами, ліцензіями.
5. Переважання традиційних галузей матеріального виробництва.
6. Перехід до постіндустріального етапу розвитку.
7. Орієнтація на споживача.

--	--	--

55. Визначте, користуючись таблицею, показник природного приросту населення України за рік.

Рік	Кількість народжених, на тис. осіб	Кількість померлих, на тис. осіб	Зовнішня міграція населення (приріст, скорочення), тис. осіб	Кількість постійного населення, млн осіб
2007	10,2	16,4	16,8	46,06

--	--	--	--	--

56. Обчисліть абсолютну висоту гори, підніжжя якої розташоване на висоті 150 м, якщо горизонталі проведено через 50 м, а їх кількість становить 12.

--	--	--	--	--

ВАРІАНТ 2

1. Вкажіть, як називаються лінії, що з'єднують на картах точки з однаковою глибиною:

- А. Ізопаги.
- Б. Изобари.
- В. Изобати.
- Г. Изогалини.

А	Б	В	Г

2. Укажіть прізвище мандрівника, який був першим з європейців, що дістався Східної Азії:

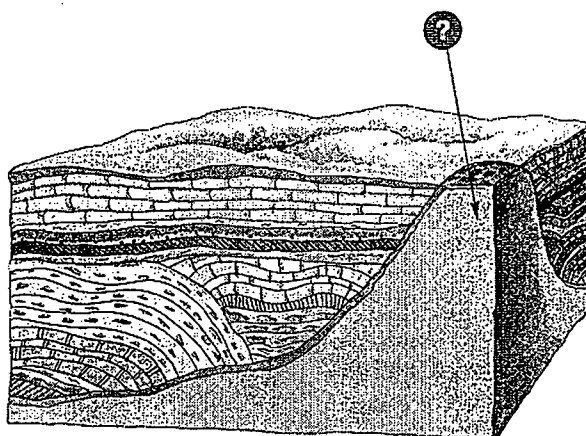
- А. Америго Веспуччі.
- Б. Марко Поло.
- В. Васко да Гама.
- Г. Ібн Батута.

А	Б	В	Г

3. Яку тектонічну структуру у межах платформи позначено на малюнку стрілкою?

- А. Щит.
- Б. Плита.
- В. Область складчастості.
- Г. Тектонічна западина.

А	Б	В	Г



4. Що є найголовнішим наслідком обертання Землі навколо своєї осі?

- А. Зміна дня і ночі.
- Б. Зміна пір року.
- В. Відсутність добової ритмічності.
- Г. Відсутність річної ритмічності.

А	Б	В	Г

5. Вкажіть один з головних наслідків нерівномірного розподілу атмосферного тиску на Землі:

- А. Нерівномірний розподіл температури повітря.
- Б. Циркуляція повітряних мас.
- В. Утворення опадів.
- Г. Зміна властивості повітря.

А	Б	В	Г

6. Який прилад призначений для вимірювання температури і вологості повітря?

- А. Анемометр.
- Б. Термометр.
- В. Гігрометр.
- Г. Психрометр.

А	Б	В	Г

7. Визначте, користуючись кліматодіаграмою, тип клімату вказаного пункту:

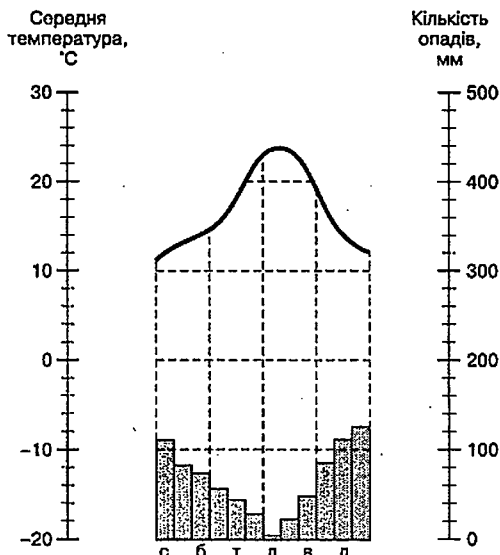
- А. Помірно континентальний.
- Б. Субтропічний середземноморський.

А Б В Г

--	--	--	--

В. Помірний морський.

Г. Тропічний континентальний (пустельний).



8. Якій стороні горизонту відповідає азимут 180°?

А. Північ.

Б. Схід.

В. Південь.

Г. Захід.

А Б В Г

--	--	--	--

9. Визначте похил річки, якщо її довжина становить 1000 км, висота витoku – 500 м, висота гирла – 100 м.

А. 1 м/км.

Б. 0,6 м/км.

В. 0,5 м/км.

Г. 0,4 м/км.

А Б В Г

--	--	--	--

10. Зазначте океан, у якому розташовано 80 % глибоководних жолобів:

А. Північний Льодовитий.

Б. Індійський.

В. Атлантичний.

Г. Тихий.

А Б В Г

--	--	--	--

11. Укажіть океан, що має найтепліші поверхневі води:

А. Північний Льодовитий.

Б. Індійський.

В. Атлантичний.

Г. Тихий.

А Б В Г

--	--	--	--

12. Зазначте океан, більша частина дна якого є шельфом:

А. Північний Льодовитий.

Б. Індійський.

В. Атлантичний.

Г. Тихий.

А Б В Г

--	--	--	--

13. Вкажіть океан, повністю розташований у Східній півкулі:

А. Північний Льодовитий.

Б. Атлантичний.

В. Індійський.

Г. Тихий.

А Б В Г

--	--	--	--

14. Укажіть найсухіший материк земної кулі:

- А. Південна Америка.
- Б. Північна Америка.
- В. Африка.
- Г. Австралія.

А	Б	В	Г
<input type="checkbox"/>	<input type="checkbox"/>	<input type="checkbox"/>	<input type="checkbox"/>

15. Зазначте найвищу гірську вершину Європи:

- А. Народна.
- Б. Ельбрус.
- В. Монблан.
- Г. Говерла.

А	Б	В	Г
<input type="checkbox"/>	<input type="checkbox"/>	<input type="checkbox"/>	<input type="checkbox"/>

16. Укажіть річку, у басейні якої розташований найвищий водоспад світу:

- А. Амазонка.
- Б. Парана.
- В. Міссісіпі.
- Г. Оріноко.

А	Б	В	Г
<input type="checkbox"/>	<input type="checkbox"/>	<input type="checkbox"/>	<input type="checkbox"/>

17. Зазначте основну причину відсутності тропічного кліматичного поясу на півдні та південному сході Євразії:

- А. Переважання екваторіальних повітряних мас.
- Б. Вплив мусонної циркуляції.
- В. Панування західних вітрів.
- Г. Значна кількість атмосферних опадів.

А	Б	В	Г
<input type="checkbox"/>	<input type="checkbox"/>	<input type="checkbox"/>	<input type="checkbox"/>

18. Вкажіть озеро України вулканічного походження:

- А. Синевир.
- Б. Ялпуг.
- В. Липовецьке.
- Г. Несамовите.

А	Б	В	Г
<input type="checkbox"/>	<input type="checkbox"/>	<input type="checkbox"/>	<input type="checkbox"/>

19. Зазначте зональний тип ґрунтів зони мішаних лісів України:

- А. Сірі лісові.
- Б. Бурі лісові.
- В. Каштанові.
- Г. Дерново-підзолисті.

А	Б	В	Г
<input type="checkbox"/>	<input type="checkbox"/>	<input type="checkbox"/>	<input type="checkbox"/>

20. Вкажіть область України, територія якої повністю розміщена в зоні лісостепу:

- А. Волинська.
- Б. Донецька.
- В. Черкаська.
- Г. Львівська.

А	Б	В	Г
<input type="checkbox"/>	<input type="checkbox"/>	<input type="checkbox"/>	<input type="checkbox"/>

21. Вкажіть край у межах Українського Полісся:

- А. Причорноморсько-Приазовський.
- Б. Донецький.
- В. Західноукраїнський.
- Г. Новгород-Сіверський.

А	Б	В	Г
<input type="checkbox"/>	<input type="checkbox"/>	<input type="checkbox"/>	<input type="checkbox"/>

22. Укажіть зональні особливості степу України:

- А. Височинний рельєф, лісова рослинність.
- Б. Засоленість ґрунту, значні площі ріллі.
- В. Поширені чорноземи та болотяна рослинність.
- Г. Недостатнє зволоження, різнотравно-злакова рослинність.

А	Б	В	Г
<input type="checkbox"/>	<input type="checkbox"/>	<input type="checkbox"/>	<input type="checkbox"/>

23. Назвіть процес руйнування берегів морів, озер, водосховищ хвилями та підхопленим ними уламковим матеріалом, що спостерігається й на території України:

- А. Дефляція.
- Б. Корозія.
- В. Акумуляція.
- Г. Абразія.

А	Б	В	Г
<input type="checkbox"/>	<input type="checkbox"/>	<input type="checkbox"/>	<input type="checkbox"/>

24. Вкажіть причини депопуляції населення в Україні:

- А. Низька народжуваність і висока смертність.
- Б. Збільшення частки населення похилого віку та сільського населення.
- В. Велика кількість розлучень, переважання імміграції.
- Г. Переважання еміграції та висока народжуваність.

А	Б	В	Г
<input type="checkbox"/>	<input type="checkbox"/>	<input type="checkbox"/>	<input type="checkbox"/>

25. Вкажіть область України, у якій зосереджена найбільша кількість міських поселень:

- А. Донецька.
- Б. Київська.
- В. Одеська.
- Г. Львівська.

А	Б	В	Г
<input type="checkbox"/>	<input type="checkbox"/>	<input type="checkbox"/>	<input type="checkbox"/>

26. Зазначте поняття, зміст якого розкриває такий текст:

Частина населення України, що проживає поза етнічною територією в результаті добровільної чи примусової еміграції:

- А. Етнос.
- Б. Діаспора.
- В. Нація.
- Г. Мігранти.

А	Б	В	Г
<input type="checkbox"/>	<input type="checkbox"/>	<input type="checkbox"/>	<input type="checkbox"/>

27. Назвіть перспективний щодо освоєння регіон видобутку нафти і газу в Україні:

- А. Дніпровсько-Донецький.
- Б. Причорноморсько-Кримський.
- В. Карпатський.
- Г. Поліський.

А	Б	В	Г
<input type="checkbox"/>	<input type="checkbox"/>	<input type="checkbox"/>	<input type="checkbox"/>

28. Укажіть ТЕС України, розміщені у Донецькому економічному районі:

- А. Старобешівська, Вуглегірська.
- Б. Бурштинська, Ладижинська.
- В. Зміївська, Трипільська.
- Г. Курахівська, Трипільська.

А	Б	В	Г
<input type="checkbox"/>	<input type="checkbox"/>	<input type="checkbox"/>	<input type="checkbox"/>

29. Укажіть область України, у якій виробляють фосфатні добрива:

- А. Херсонська.
- Б. Закарпатська.
- В. Сумська.
- Г. Луганська.

А	Б	В	Г
<input type="checkbox"/>	<input type="checkbox"/>	<input type="checkbox"/>	<input type="checkbox"/>

30. Вкажіть причини переважання рослинництва в галузевій структурі сільського господарства України:

- А. У структурі сільськогосподарських земель переважає рілля, значний попит на продукцію рослинництва.
- Б. Високий технічний рівень обробітку землі, низький рівень розвитку тваринництва.
- В. Значні обсяги виробництва і висока вартість продукції рослинництва на зовнішньому ринку.
- Г. Переважання екстенсивних способів землеробства, незначний попит на продукцію тваринництва.

А	Б	В	Г
<input type="checkbox"/>	<input type="checkbox"/>	<input type="checkbox"/>	<input type="checkbox"/>

31. Зазначте економічний район України, у якому розміщені підприємства авіакосмічного машинобудування:

- А. Донецький.
- Б. Столичний.

А	Б	В	Г
<input type="checkbox"/>	<input type="checkbox"/>	<input type="checkbox"/>	<input type="checkbox"/>

- В. Придніпровський.
Г. Карпатський.

32. Зазначте найрозвинутішу форму зовнішніх економічних зв'язків України з іншими країнами:

- А. Спільне підприємництво.
Б. Зовнішня торгівля товарами і послугами.
В. Кредитування та інвестування.
Г. Надання науково-технічних послуг.

А	Б	В	Г
<input type="checkbox"/>	<input type="checkbox"/>	<input type="checkbox"/>	<input type="checkbox"/>

33. Вкажіть позитивні наслідки глобалізації світового господарства:

- А. Урізноманітнення ринку товарів і послуг, можливість використання сучасних технологій.
Б. Часткова втрата здатності уряду країни керувати економікою, залежність від іноземного капіталу.
В. Розвиток наукоємних галузей в усіх країнах світу, фінансова стабільність.
Г. Втрата національних рис економіки, досягнення більш стабільних темпів економічного зростання.

А	Б	В	Г
<input type="checkbox"/>	<input type="checkbox"/>	<input type="checkbox"/>	<input type="checkbox"/>

34. Визначте, користуючись даними таблиці, показник природного приросту населення Кенії за рік (у проміле):

Рік	Народжуваність, на 1 тис. осіб	Смертність, на 1 тис. осіб	Еміграція, тис. осіб	Імміграція, тис. осіб	Населення, млн осіб
2007	28	14	40	5	31

- А. -14.
Б. +14.
В. +1,1.
Г. -1,1.

А	Б	В	Г
<input type="checkbox"/>	<input type="checkbox"/>	<input type="checkbox"/>	<input type="checkbox"/>

35. Оберіть країну, яка посідає перше місце у світі за обсягом виробництва алюмінію:

- А. Австралія.
Б. США.
В. Канада.
Г. Китай.

А	Б	В	Г
<input type="checkbox"/>	<input type="checkbox"/>	<input type="checkbox"/>	<input type="checkbox"/>

36. Оберіть країни, які лідирують за обсягами річних авіаперевезень:

- А. Китай, Німеччина.
Б. Велика Британія, Росія.
В. США, Японія.
Г. Франція, Канада.

А	Б	В	Г
<input type="checkbox"/>	<input type="checkbox"/>	<input type="checkbox"/>	<input type="checkbox"/>

37. Зазначте країну – найбільшого споживача енергетичних ресурсів:

- А. Росія.
Б. США.
В. Китай.
Г. Німеччина.

А	Б	В	Г
<input type="checkbox"/>	<input type="checkbox"/>	<input type="checkbox"/>	<input type="checkbox"/>

38. Визначте країну за наведеним нижче описом:

Країна розташована на південному заході Європи, а також займає ряд островів. Під її врядуванням перебувають міста Сеута і Мелілья, що на північному узбережжі Африки. Є конституційною монархією. Країна має багатовікову історію і колись називалася Іберією. Вирізняється значними природними контрастами, що проявляються як в рельєфі, так і в кліматі. Країна є великим виробником вина, цитрусових, пшениці, мигдалю, тютюну, овочів, оливкової олії. Входить до першої десятки країн світу за обсягом вилову і переробки риби і морепродуктів.

- А. Франція.
- Б. Греція.
- В. Іспанія.
- Г. Кіпр.

	А	Б	В	Г

39. Визначте країну за наведеним нижче описом:

Ця країна знаходиться у Північній Європі, виробляє на експорт пиломатеріали, папір, целюлозу, обладнання для лісової, деревообробної промисловості, молочні продукти.

- А. Швеція.
- Б. Фінляндія.
- В. Норвегія.
- Г. Данія.

	А	Б	В	Г

40. Вкажіть рядок, у якому хоча б одна з країн не входить до складу ЄС:

- А. Австрія, Швейцарія, ФРН.
- Б. Греція, Італія, Фінляндія.
- В. Швеція, Данія, Латвія.
- Г. Болгарія, Угорщина, Польща.

	А	Б	В	Г

41. Яку спеціалізацію мають Кембридж, Мюнхен, Ніцца, Сан-Хосе?

- А. Туристсько-розважальні комплекси.
- Б. Науково-дослідні парки.
- В. Фінансові столиці.
- Г. Біосферні заповідники.

	А	Б	В	Г

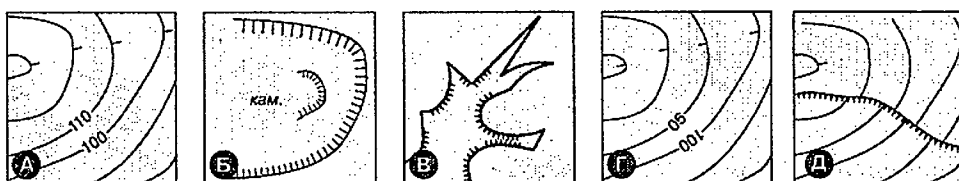
42. Визначте правильне твердження щодо лідерства країни Латинської Америки в експорті певних видів товарів.

- А. Мексика експортує найбільше міді та бокситів.
- Б. Колумбія експортує найбільше зерна та яловичини.
- В. Перу експортує найбільше бананів та олова.
- Г. Бразилія експортує найбільше какао-бобів та кави.

	А	Б	В	Г

43. Визначте відповідність між формою рельєфу і умовним позначенням її на топографічній карті:

- 1. Яр.
- 2. Горб.
- 3. Западина.
- 4. Кар'єр.

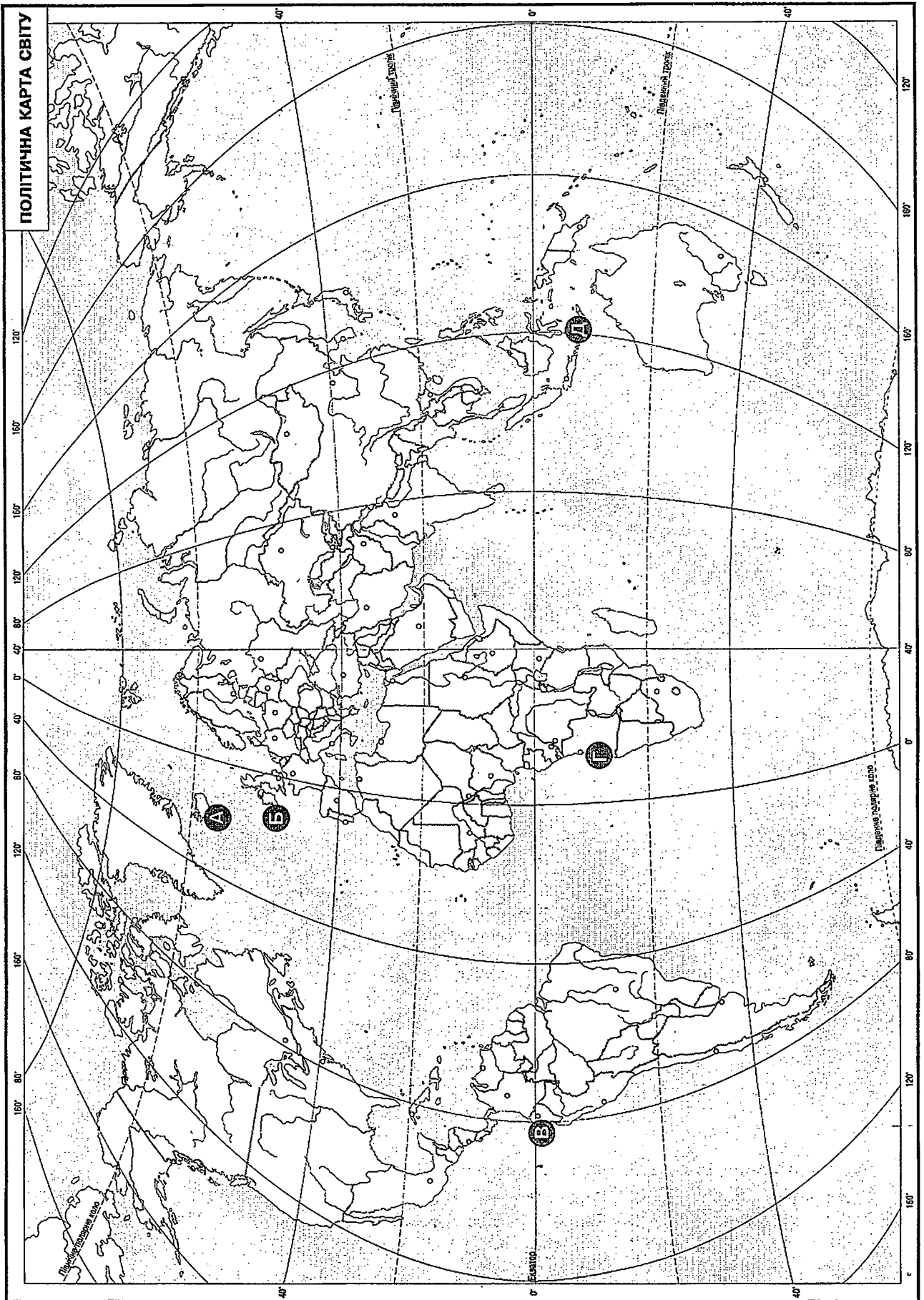


	А	Б	В	Г	Д
1					
2					
3					
4					

44. Визначте відповідність між столицями держав та територією цих держав, що позначена на карті буквами:

- 1. Луанда.
- 2. Кіто.
- 3. Джакарта.
- 4. Рейк'явік.

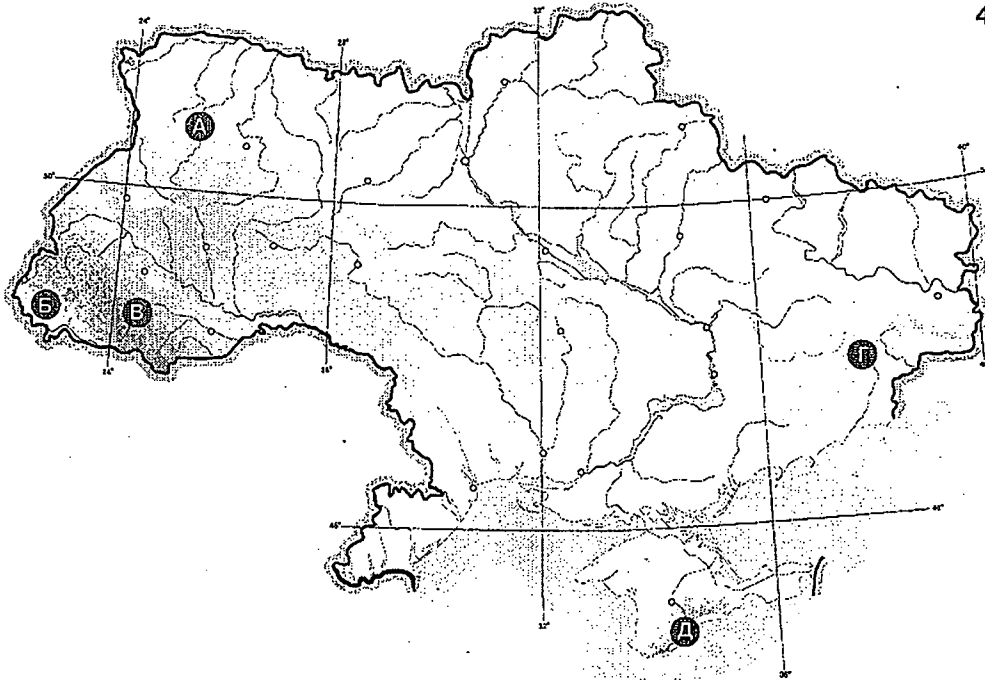
	А	Б	В	Г	Д
1					
2					
3					
4					



45. Знайдіть відповідність між кліматичною областю і пунктами, що позначені на карті України буквами:

1. Континентальна.
2. Південного берегу Криму.
3. Закарпатська.
4. Атлантико-континентальна.

	А	Б	В	Г	Д
1					
2					
3					
4					

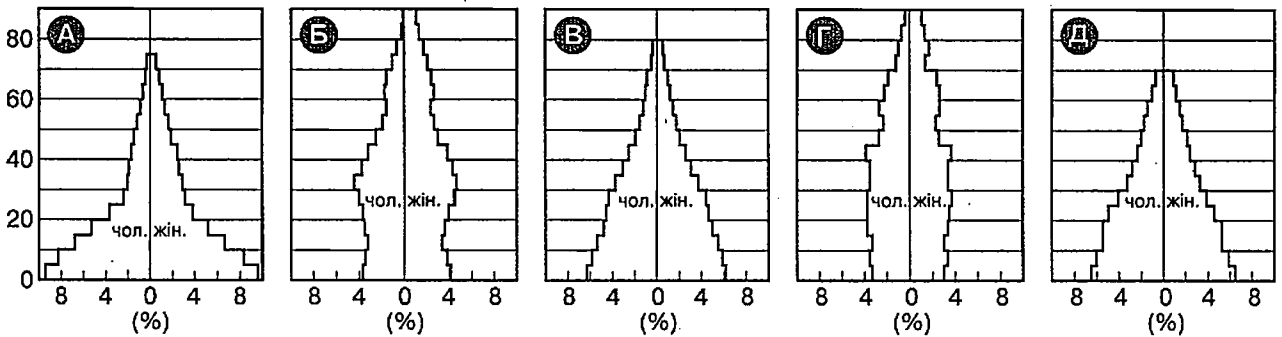


46. Визначте відповідність між країною та статеві-віковою пірамідою, що характеризує населення цієї країни:

1. Франція.
2. Індія.
3. Ефіопія.
4. Бразилія.

	А	Б	В	Г	Д
1					
2					
3					
4					

Роки



47. Визначте відповідність між материком і формою рельєфу:

- | | |
|----------------|--------------------------------|
| 1. Африка. | А. Піренеї. |
| 2. Австралія. | Б. Гвіанське плоскогір'я. |
| 3. Антарктида. | В. Атлаські гори. |
| 4. Євразія. | Г. Масив Вінсон. |
| | Д. Великий Вододільний хребет. |

	А	Б	В	Г	Д
1					
2					
3					
4					

48. Визначте відповідність між типами ґрунтів і природними зонами:

- | | |
|-------------------|--|
| 1. Підзолисті. | А. Степ. |
| 2. Каштанові. | Б. Лісостеп. |
| 3. Червоно-жовті. | В. Вічнозелені твердолисті ліси і чагарники. |
| 4. Сірі лісові. | Г. Тайга. |
| | Д. Вологі екваторіальні ліси. |

	А	Б	В	Г	Д
1					
2					
3					
4					

49. Оберіть озера України, що за походженням є заплавними:

- | | |
|----------------|----------------|
| 1. Сасик. | 5. Кагул. |
| 2. Ялпуг. | 6. Несамовите. |
| 3. Світязь. | 7. Китай. |
| 4. Липовецьке. | |

--	--	--

50. Оберіть з переліку країн і територій світу ті, які за своїм статусом є залежними:

- | | |
|--------------------|--------------------------------|
| 1. Гвіана. | 5. Придністровська республіка. |
| 2. Західна Сахара. | 6. Гібралтар. |
| 3. Андорра. | 7. Абхазія. |
| 4. Пуерто-Рико. | |

--	--	--

51. Вкажіть ознаки циклональної погоди:

- | | |
|------------------------------------|-------------------------------------|
| 1. Хмарна дощова погода. | 5. Дуже морозна погода, без опадів. |
| 2. Сильні пориви вітру, хуртовина. | 6. Погода безхмарна, безвітряна. |
| 3. Суха і тепла погода. | 7. Без опадів. |
| 4. Хмарна погода з мрякою. | |

--	--	--

52. Оберіть причини спустелення земель на значних площах земної кулі:

- Інтенсивне забруднення ґрунтів.
- Викиди шкідливих речовин в атмосферу.
- Вирубування лісу.
- Видобуток корисних копалин відкритим способом.
- Інтенсивне випасання худоби.
- Глобальне потепління.
- Поширення пустельних ґрунтів.

--	--	--

53. Визначте найважливіші риси сучасної газотранспортної системи України:

- Простягається від власних газових родовищ до пунктів споживання.
- Складається з магістральних газопроводів значної протяжності.
- Найменша в Європі за обсягом вантажообігу.
- Характерна значна зношеність устаткування.
- Незначна протяжність.
- Є найпотужнішою системою за обсягами транзиту.
- Належить іноземним компаніям.

--	--	--

54. Вкажіть характерні риси економіки США як країни-лідера:

- Наявність усіх видів природних ресурсів.
- Високий рівень технологій виробництва.
- Низький попит на продукцію на внутрішньому ринку.
- Високий рівень конкурентоспроможності товарів і послуг.
- Переважання галузей матеріального виробництва у структурі господарства.
- Високий рівень інновацій.
- Висока частка сільського господарства в структурі економіки.

--	--	--

55. Обчисліть місцевий час пункту, розташованого східніше на 45 градусів від Лондона, якщо на Гринвіцькому меридіані у цей час полудень.

--	--	--	--	--

56. Обчисліть рівень безробіття в країні (у %), якщо кількість трудових ресурсів становить 16 млн осіб, а кількість офіційно зареєстрованих безробітних – 1,6 млн осіб.

--	--	--	--	--

Увага!

Цей бланк перевіряє комп'ютер! Ваші відповіді в бланку є результатом Вашої роботи.

Географія

1 2 3 4 5 6 7 8 9 10 11 12 13 14 15

Позначте номер Вашого зошита так:

Правильну відповідь у завданнях позначаєте тільки так:

Неправильну відповідь можна виправити, замалювавши попередню позначку та поставивши нову:

А Б В Г

1	А Б В Г	8	А Б В Г	15	А Б В Г	22	А Б В Г	29	А Б В Г	36	А Б В Г
2	<input type="checkbox"/>	9	<input type="checkbox"/>	16	<input type="checkbox"/>	23	<input type="checkbox"/>	30	<input type="checkbox"/>	37	<input type="checkbox"/>
3	<input type="checkbox"/>	10	<input type="checkbox"/>	17	<input type="checkbox"/>	24	<input type="checkbox"/>	31	<input type="checkbox"/>	38	<input type="checkbox"/>
4	<input type="checkbox"/>	11	<input type="checkbox"/>	18	<input type="checkbox"/>	25	<input type="checkbox"/>	32	<input type="checkbox"/>	39	<input type="checkbox"/>
5	<input type="checkbox"/>	12	<input type="checkbox"/>	19	<input type="checkbox"/>	26	<input type="checkbox"/>	33	<input type="checkbox"/>	40	<input type="checkbox"/>
6	<input type="checkbox"/>	13	<input type="checkbox"/>	20	<input type="checkbox"/>	27	<input type="checkbox"/>	34	<input type="checkbox"/>	41	<input type="checkbox"/>
7	<input type="checkbox"/>	14	<input type="checkbox"/>	21	<input type="checkbox"/>	28	<input type="checkbox"/>	35	<input type="checkbox"/>	42	<input type="checkbox"/>

43	1	А Б В Г Д	44	1	А Б В Г Д	45	1	А Б В Г Д	46	1	А Б В Г Д
	2	<input type="checkbox"/>		2	<input type="checkbox"/>		2	<input type="checkbox"/>		2	<input type="checkbox"/>
	3	<input type="checkbox"/>		3	<input type="checkbox"/>		3	<input type="checkbox"/>		3	<input type="checkbox"/>
	4	<input type="checkbox"/>		4	<input type="checkbox"/>		4	<input type="checkbox"/>		4	<input type="checkbox"/>

47	1	А Б В Г Д	48	1	А Б В Г Д
	2	<input type="checkbox"/>		2	<input type="checkbox"/>
	3	<input type="checkbox"/>		3	<input type="checkbox"/>
	4	<input type="checkbox"/>		4	<input type="checkbox"/>

Приклад написання цифр для заповнення бланка відповідей: 1 2 3 4 5 6 7 8 9 0

Увага! Кожна записана цифра не має виходити за межі білого прямокутника

49	<input type="checkbox"/>	50	<input type="checkbox"/>	51	<input type="checkbox"/>	52	<input type="checkbox"/>	53	<input type="checkbox"/>	54	<input type="checkbox"/>
----	--------------------------	----	--------------------------	----	--------------------------	----	--------------------------	----	--------------------------	----	--------------------------

Приклад написання чисел у завданнях 49-56: число 1 1 число 17 1 7 число 123 1 2 3

55	<input type="checkbox"/>	56	<input type="checkbox"/>
----	--------------------------	----	--------------------------

Місце для виправлення помилкової відповіді до завдань 49-56

Запишіть новий варіант відповіді праворуч відповідного номера завдання

49	<input type="checkbox"/>	50	<input type="checkbox"/>	51	<input type="checkbox"/>	52	<input type="checkbox"/>	53	<input type="checkbox"/>	54	<input type="checkbox"/>
		55	<input type="checkbox"/>	56	<input type="checkbox"/>						

ВАРІАНТ 3

1. Що вивчає економічна і соціальна географія світу?
 - А. Природні та суспільні явища.
 - Б. Історико-географічні регіони світу, окремих країн.
 - В. Територіальну організацію економіки та населення.
 - Г. Закономірності розвитку географічної оболонки Землі.

А Б В Г

--	--	--	--

2. Хто з античних мислителів відвідав теперішні південні території України?
 - А. Анаксимандр.
 - Б. Гіппократ.
 - В. Геродот.
 - Г. Арістотель.

А Б В Г

--	--	--	--

3. Які гірські породи належать до осадових?
 - А. Фосфорити і графіт.
 - Б. Граніт і базальт.
 - В. Мармур і боксити.
 - Г. Пісок і глина.

А Б В Г

--	--	--	--

4. Укажіть паралель, на якій Сонце двічі на рік буває в zenіті:
 - А. Північне полярне коло.
 - Б. Південне полярне коло.
 - В. Північний тропік.
 - Г. Екватор.

А Б В Г

--	--	--	--

5. Укажіть масштаб середньомасштабної топографічної карти:
 - А. 1 : 500 000.
 - Б. 1 : 50 000.
 - В. 1 : 5000.
 - Г. 1 : 500.

А Б В Г

--	--	--	--

6. Укажіть газ, який за вмістом переважає у складі атмосферного повітря:
 - А. Кисень.
 - Б. Азот.
 - В. Озон.
 - Г. Вуглекислий газ.

А Б В Г

--	--	--	--

7. Як називається природний вихід води на земну поверхню?
 - А. Джерело.
 - Б. Озеро.
 - В. Криниця.
 - Г. Льодовик.

А Б В Г

--	--	--	--

8. Визначте процес, який відбувається в зоні розходження літосферних плит:
 - А. Утворюється земна кора материкового типу.
 - Б. Утворюється земна кора океанічного типу.
 - В. Утворюються глибоководні жолоби.
 - Г. Відбуваються повільні коливальні рухи земної кори.

А Б В Г

--	--	--	--

9. Зазначте основну причину утворення гірського зледеніння:
 - А. Незначна висота гір.
 - Б. Накопичення твердих опадів.
 - В. Наявність на схилах гір річок.
 - Г. Наявність в горах навітряних схилів.

А Б В Г

--	--	--	--

10. Яка з перелічених форм рельєфу відповідає найдавнішій за часом утворення тектонічній структурі?
 - А. Гори Аппалачі.
 - Б. Велика Китайська рівнина.
 - В. Гори Альпи.
 - Г. Нагір'я Тибет.

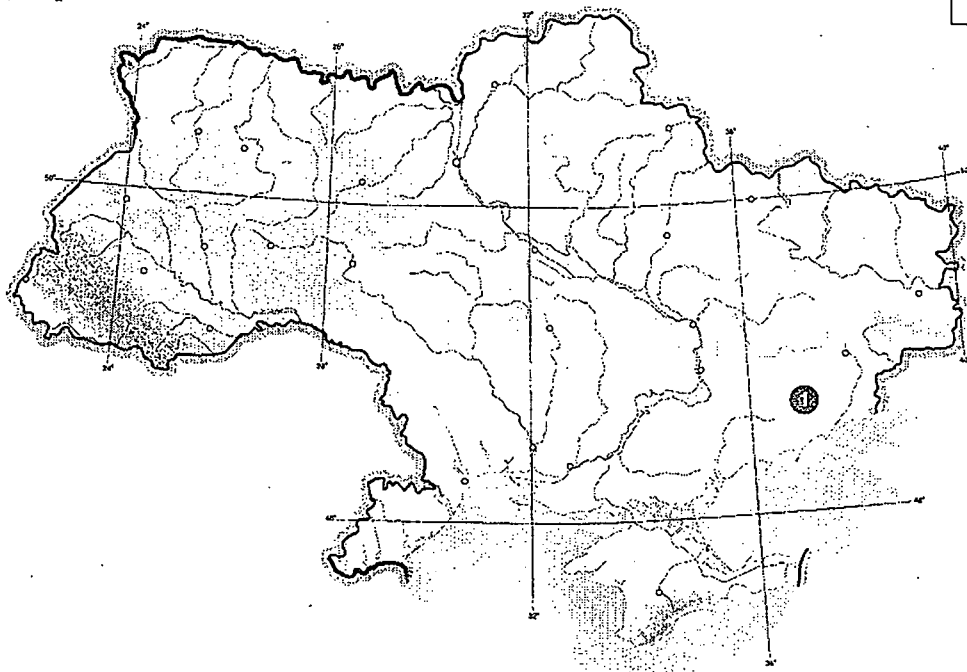
А Б В Г

--	--	--	--

11. Вкажіть течію, яка значно посилює різницю температур між західною та східною частинами тропічного поясу Атлантичного океану:
- А. Лабрадорська.
 Б. Південна Пасатна.
 В. Гольфстрім.
 Г. Західних вітрів.
- А Б В Г
12. Вкажіть океан, у якому солоність поверхневих вод найнижча:
- А. Північний Льодовитий.
 Б. Індійський.
 В. Атлантичний.
 Г. Тихий.
- А Б В Г
13. Яка пустеля Африки утворилася внаслідок дії холодної океанічної течії?
- А. Атакама.
 Б. Сахара.
 В. Наміб.
 Г. Велика Піщана.
- А Б В Г
14. Зазначте основний чинник утворення вторинних рівнин Азії:
- А. Наявність прогинів земної кори.
 Б. Робота річок.
 В. Робота вітру.
 Г. Коливальні рухи земної кори.
- А Б В Г
15. Як називається термін, що характеризує зарості вічнозелених твердолистих посухостійких чагарників у посушливих субтропічних областях:
- А. Прерія.
 Б. Маквіс.
 В. Шибляк.
 Г. Пампа.
- А Б В Г
16. У межах якого кліматичного поясу перебуває більша частина території Австралії?
- А. Субекваторіальний.
 Б. Субтропічний.
 В. Тропічний.
 Г. Помірний.
- А Б В Г
17. Обчисліть географічну довготу пункту, якщо його місцевий час випереджає місцевий час Лондона на 1 годину:
- А. 15° зх. д.
 Б. 15° сх. д.
 В. 30° зх. д.
 Г. 30° сх. д.
- А Б В Г
18. Визначте похил річки, якщо її довжина становить 12 км, висота витоку – 300 м, а висота гирла – 200 м:
- А. 0,12 м/км.
 Б. 1 м/км.
 В. 0,8 м/км.
 Г. 8,3 м/км.
- А Б В Г
19. Укажіть країну, з якою Україна межує на південному заході:
- А. Молдова.
 Б. Росія.
 В. Білорусь.
 Г. Польща.
- А Б В Г
20. Яка форма рельєфу України позначена на карті цифрою 1?
- А. Донецький кряж.
 Б. Хотинська височина.

- В. Приазовська височина.
- Г. Придніпровська низовина.

А	Б	В	Г
<input type="checkbox"/>	<input type="checkbox"/>	<input type="checkbox"/>	<input type="checkbox"/>



21. Укажіть природну зону України, яка охоплює найбільшу площу:

- А. Мішані ліси.
- Б. Лісостеп.
- В. Степ.
- Г. Вічнозелені твердолисті ліси і чагарники.

А	Б	В	Г
<input type="checkbox"/>	<input type="checkbox"/>	<input type="checkbox"/>	<input type="checkbox"/>

22. Укажіть зональні риси мішаних лісів України:

- А. Надмірне зволоження, дерново-підзолисті ґрунти.
- Б. Байрачні ліси на підзолистих ґрунтах.
- В. Бори, субори на чорноземних ґрунтах.
- Г. Височинний рельєф, яри і балки.

А	Б	В	Г
<input type="checkbox"/>	<input type="checkbox"/>	<input type="checkbox"/>	<input type="checkbox"/>

23. Зазначте один з основних чинників виділення країв у межах природних зон України:

- А. Розташування в межах одного географічного поясу.
- Б. Недостатнє зволоження.
- В. Відмінності в рельєфі.
- Г. Значні розміри території країни.

А	Б	В	Г
<input type="checkbox"/>	<input type="checkbox"/>	<input type="checkbox"/>	<input type="checkbox"/>

24. Визначте частку українців в етнічному складі населення України за переписом 2001 р.:

- А. Понад 80 %.
- Б. 78 %.
- В. 65 %.
- Г. Менше 65 %.

А	Б	В	Г
<input type="checkbox"/>	<input type="checkbox"/>	<input type="checkbox"/>	<input type="checkbox"/>

25. Зазначте область України, яка є лідером з виробництва електроенергії:

- А. Дніпропетровська.
- Б. Донецька.
- В. Запорізька.
- Г. Луганська.

А	Б	В	Г
<input type="checkbox"/>	<input type="checkbox"/>	<input type="checkbox"/>	<input type="checkbox"/>

26. Вкажіть галузь промисловості, на яку припадає найбільша частка промислового виробництва України:

- А. Машинобудування.
- Б. Хімічна промисловість.
- В. Харчова промисловість.
- Г. Металургія.

А	Б	В	Г
<input type="checkbox"/>	<input type="checkbox"/>	<input type="checkbox"/>	<input type="checkbox"/>

27. Вкажіть центр розвитку шовкової промисловості в Україні:

- А. Рівне.
- Б. Харків.
- В. Тернопіль.
- Г. Черкаси.

А	Б	В	Г
<input type="checkbox"/>	<input type="checkbox"/>	<input type="checkbox"/>	<input type="checkbox"/>

28. Визначте за описом назву явища, яке часто буває в Україні:

Скупчення їдкового диму, отруйних газів, дрібних частинок кіптяви і попелу в приземних шарах атмосфери переважно у великих містах і промислових центрах:

- А. Парниковий ефект.
- Б. Туман.
- В. Смог.
- Г. Смерч.

А	Б	В	Г
<input type="checkbox"/>	<input type="checkbox"/>	<input type="checkbox"/>	<input type="checkbox"/>

29. Визначте галузь господарства України, яка є однією з найстаріших і зосереджена в лісостеповій зоні:

- А. Льняна.
- Б. Цукрова.
- В. Виноробна.
- Г. Ефіроолійна.

А	Б	В	Г
<input type="checkbox"/>	<input type="checkbox"/>	<input type="checkbox"/>	<input type="checkbox"/>

30. Укажіть економічний район України, у якому зосереджені основні лісові ресурси:

- А. Столичний.
- Б. Північно-Східний.
- В. Подільський.
- Г. Карпатський.

А	Б	В	Г
<input type="checkbox"/>	<input type="checkbox"/>	<input type="checkbox"/>	<input type="checkbox"/>

31. Укажіть регіон, з країнами якого Україна має найбільші обсяги експорту та імпорту:

- А. Західна Європа.
- Б. Східна Азія.
- В. Північна Америка.
- Г. Східна Європа, Північна і Середня Азія.

А	Б	В	Г
<input type="checkbox"/>	<input type="checkbox"/>	<input type="checkbox"/>	<input type="checkbox"/>

32. Укажіть найменшу за площею державу світу:

- А. Ватикан.
- Б. Андорра.
- В. Бахрейн.
- Г. Монако.

А	Б	В	Г
<input type="checkbox"/>	<input type="checkbox"/>	<input type="checkbox"/>	<input type="checkbox"/>

33. Зазначте країну світу, яка розміщена до Південного полюса найближче:

- А. Аргентина.
- Б. Нова Зеландія.
- В. Південна Африка.
- Г. Австралія.

А	Б	В	Г
<input type="checkbox"/>	<input type="checkbox"/>	<input type="checkbox"/>	<input type="checkbox"/>

34. Обчисліть рівень безробіття в країні (у %), якщо кількість трудових ресурсів становить 15 млн осіб, а кількість офіційно зареєстрованих безробітних – 1,5 млн осіб.

- А. 1.
- Б. 10.
- В. 15.
- Г. 30.

А	Б	В	Г
<input type="checkbox"/>	<input type="checkbox"/>	<input type="checkbox"/>	<input type="checkbox"/>

35. Укажіть країну, у якої найбільша кількість сусідів на суходолі:

- А. Італія.
- Б. США.
- В. Бразилія.
- Г. Японія.

А	Б	В	Г
<input type="checkbox"/>	<input type="checkbox"/>	<input type="checkbox"/>	<input type="checkbox"/>

36. Що характеризує сучасний розвиток кольорової металургії в світі?

- А. Уповільнення темпів розвитку через нестачу ресурсів.
- Б. Розміщення підприємств на морських узбережжях.

- В. Орієнтація на вторинну сировину.
- Г. Випереджальні темпи виробництва важких металів.

А	Б	В	Г
<input type="checkbox"/>	<input type="checkbox"/>	<input type="checkbox"/>	<input type="checkbox"/>

37. Вкажіть країни, які є лідерами у світовому суднобудуванні:

- А. Південна Корея, Японія, Китай.
- Б. Велика Британія, Нідерланди, Франція.
- В. США, Бразилія, Мексика.
- Г. Індія, Росія, Туреччина.

А	Б	В	Г
<input type="checkbox"/>	<input type="checkbox"/>	<input type="checkbox"/>	<input type="checkbox"/>

38. Вкажіть найбільший у світі контейнерний порт:

- А. Ліверпуль.
- Б. Роттердам.
- В. Гонконг.
- Г. Папама.

А	Б	В	Г
<input type="checkbox"/>	<input type="checkbox"/>	<input type="checkbox"/>	<input type="checkbox"/>

39. Зазначте країну Європи з найбільшою густотою залізниць:

- А. Росія.
- Б. Бельгія.
- В. Франція.
- Г. Україна.

А	Б	В	Г
<input type="checkbox"/>	<input type="checkbox"/>	<input type="checkbox"/>	<input type="checkbox"/>

40. Визначте країну за наведеним нижче описом:

Розміщена в Західній Європі; країна високоурбанізована, багата на вугілля і калійні солі. Її називають найбільш хімізованою країною не тільки Європи, а й світу.

- А. Німеччина.
- Б. Франція.
- В. Італія.
- Г. Чехія.

А	Б	В	Г
<input type="checkbox"/>	<input type="checkbox"/>	<input type="checkbox"/>	<input type="checkbox"/>

41. Визначте країну за наведеним нижче описом:

Одна з африканських країн арабського світу, розміщена на двох континентах, має різноманітні мінеральні ресурси, у тому числі й нафту, проте не є членом ОПЕК.

- А. Туреччина.
- Б. Єгипет.
- В. Туніс.
- Г. Саудівська Аравія.

А	Б	В	Г
<input type="checkbox"/>	<input type="checkbox"/>	<input type="checkbox"/>	<input type="checkbox"/>

42. Вкажіть країну, у якій знаходиться найбільша у світі установка з використання сонячної енергії:

- А. США.
- Б. Італія.
- В. Швейцарія.
- Г. Австралія.

А	Б	В	Г
<input type="checkbox"/>	<input type="checkbox"/>	<input type="checkbox"/>	<input type="checkbox"/>

43. Встановіть відповідність між географічними поняттями та їхнім визначенням:

1. Азимут.
2. Відносна висота місцевості.
3. Географічна карта.
4. Масштаб.

- А. Зменшене узагальнене зображення земної поверхні на площині, виконане в масштабі з урахуванням кулястої форми Землі.
- Б. Перевищення однієї точки місцевості над іншою.
- В. Ступінь зменшення відстаней на карті порівняно з дійсними відстанями.
- Г. Висота місцевості над рівнем моря.
- Д. Кут між напрямком на північ і на якийсь об'єкт.

	А	Б	В	Г	Д
1	<input type="checkbox"/>	<input type="checkbox"/>	<input type="checkbox"/>	<input type="checkbox"/>	<input type="checkbox"/>
2	<input type="checkbox"/>	<input type="checkbox"/>	<input type="checkbox"/>	<input type="checkbox"/>	<input type="checkbox"/>
3	<input type="checkbox"/>	<input type="checkbox"/>	<input type="checkbox"/>	<input type="checkbox"/>	<input type="checkbox"/>
4	<input type="checkbox"/>	<input type="checkbox"/>	<input type="checkbox"/>	<input type="checkbox"/>	<input type="checkbox"/>

44. Встановіть відповідність між океаном і його затокою:

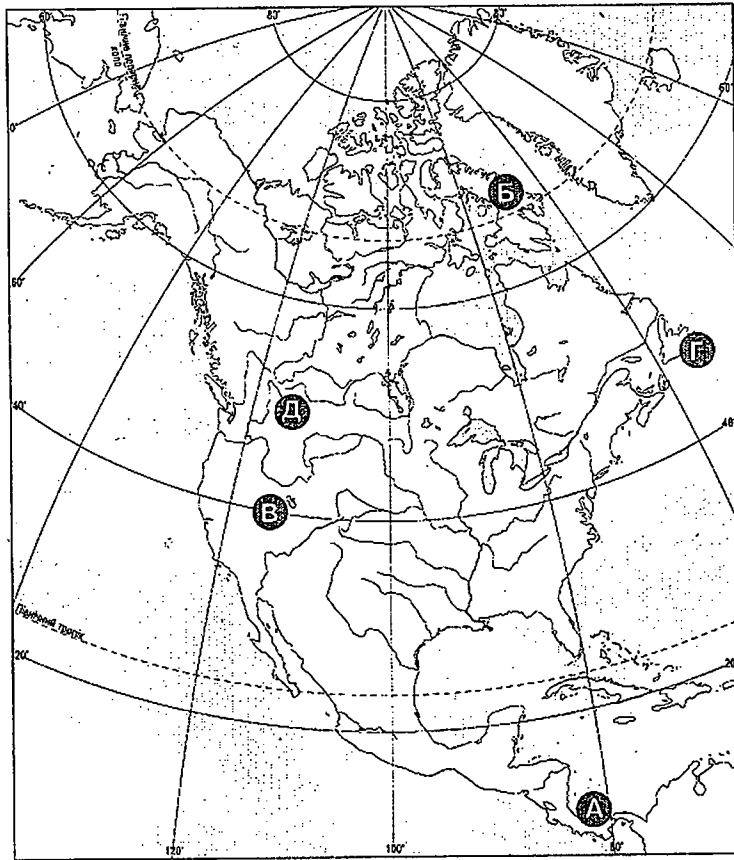
- | | |
|--------------------------|-------------------|
| 1. Тихий. | А. Бенгальська. |
| 2. Атлантичний. | Б. Аляска. |
| 3. Індійський. | В. Гібралтарська. |
| 4. Північний Льодовитий. | Г. Гудзонова. |
| | Д. Віскайська. |

	А	Б	В	Г	Д
1					
2					
3					
4					

45. Знайдіть відповідність між об'єктами, позначеними на карті Північної Америки, та вказаними назвами:

- Острів Ньюфаундленд.
- Велике Солоне озеро.
- Скелясті гори.
- Мис Мар'ято.

	А	Б	В	Г	Д
1					
2					
3					
4					



46. Визначте відповідність між тектонічною структурою і формою рельєфу України:

- | | |
|------------------------|---------------------------------|
| 1. Щит. | А. Придніпровська низовина. |
| 2. Складчаста область. | Б. Словечансько-Овруцький кряж. |
| 3. Западина. | В. Середньоросійська височина. |
| 4. Прогин. | Г. Донецький кряж. |
| | Д. Закарпатська низовина. |

	А	Б	В	Г	Д
1					
2					
3					
4					

47. Визначте відповідність між океанами та річками Євразії, що впадають у ці океани:

- | | |
|--------------------------|------------|
| 1. Північний Льодовитий. | А. Меконг. |
| 2. Атлантичний. | Б. Лена. |
| 3. Індійський. | В. Ганг. |
| 4. Тихий. | Г. Волга. |
| | Д. Дунай. |

	А	Б	В	Г	Д
1					
2					
3					
4					

48. Установіть відповідність між країною і релігією, яка в ній переважає:

- | | |
|---------------|---------------------------|
| 1. Італія. | А. Іслам (мусульманство). |
| 2. Індонезія. | Б. Православ'я. |
| 3. Ізраїль. | В. Католицизм. |
| 4. Україна. | Г. Буддизм. |
| | Д. Юдаїзм. |

	А	Б	В	Г	Д
1					
2					
3					
4					

49. Оберіть ті сільськогосподарські культури, які належать до технічних і вирощуються в Україні:

- | | |
|--------------|----------------------|
| 1. Чай. | 5. Цукровий буряк. |
| 2. Гречка. | 6. Цукрова тростина. |
| 3. Бавовник. | 7. Льон-довгунець. |
| 4. Соняшник. | |

--	--	--	--

50. Оберіть чинники, які значно впливають на розміщення виробництва на сучасному етапі розвитку світового господарства:

- | | |
|---|--|
| 1. Тяжіння до сировини. | 5. Орієнтація на споживача. |
| 2. Тяжіння до джерел енергії. | 6. Орієнтація на дешеву робочу силу. |
| 3. Тяжіння до наукових центрів. | 7. Чинник екологічної безпеки виробництва. |
| 4. Урахування особливостей географічного положення. | |

--	--	--	--

51. Зазначте причини утворення гір:

1. Утворюються завдяки наносам річок.
2. Формуються внаслідок опускання земної кори.
3. Утворюються в результаті зіткнення літосферних плит.
4. Формуються внаслідок рухів земної кори.
5. Утворюються завдяки вулканічній діяльності.
6. Утворюються в результаті процесів фізичного вивітрювання.
7. Утворюються завдяки діяльності льодовиків.

--	--	--	--

52. Укажіть причини утворення пустель на західних узбережжях материків у тропічному поясі:

- | | |
|---------------------|--|
| 1. Мусонні вітри. | 5. Напрямок переміщення пасатів. |
| 2. Холодні течії. | 6. Переважання континентальних повітряних мас. |
| 3. Теплі течії. | 7. Поширення пустельних ґрунтів. |
| 4. Гірський рельєф. | |

--	--	--	--

53. Визначте найбільш сприятливі чинники для розвитку чорної металургії в Україні:

1. Велика кількість металургійних заводів.
2. Наявність коксівного вугілля.
3. Високий технічний рівень підприємств.
4. Висока заробітна плата.
5. Концентрація споживачів металу.
6. Наявність значної кількості рудних корисних копалин.
7. Значно розвинена транспортна система.

--	--	--	--

54. Оберіть з перелічених міських агломерацій три найбільші за чисельністю населення:

- | | |
|------------|---------------|
| 1. Каїр. | 5. Сан-Паулу. |
| 2. Мумбаї. | 6. Джакарта. |
| 3. Сеул. | 7. Москва. |
| 4. Токіо. | |

--	--	--	--

55. Обчисліть, користуючись таблицею, показник (у проміле) природного приросту населення в Донецькій області України за рік.

--	--	--	--	--

Рік	Народжуваність, на 1 тис. осіб	Смертність, на 1 тис. осіб	Населення, млн осіб
2007	9,0	18,0	4,5

56. Скільки метрів в 1 см за масштабом плану, якщо ліс площею 20 га охоплює на ньому 20 см².

--	--	--	--	--

Увага!

Цей бланк перевіряє комп'ютер! Ваші відповіді в бланку є результатом Вашої роботи.

Географія

1 2 3 4 5 6 7 8 9 10 11 12 13 14 15

Позначте номер Вашого зошита так:

Правильну відповідь у завданнях позначають тільки так:

Неправильну відповідь можна виправити, замалювавши попередню позначку та поставивши нову:

А Б В Г

1	А Б В Г	8	А Б В Г	15	А Б В Г	22	А Б В Г	29	А Б В Г	36	А Б В Г
2		9		16		23		30		37	
3		10		17		24		31		38	
4		11		18		25		32		39	
5		12		19		26		33		40	
6		13		20		27		34		41	
7		14		21		28		35		42	

43	1	А Б В Г Д	44	1	А Б В Г Д	45	1	А Б В Г Д	46	1	А Б В Г Д
	2			2			2			2	
	3			3			3			3	
	4			4			4			4	

47	1	А Б В Г Д	48	1	А Б В Г Д
	2			2	
	3			3	
	4			4	

Приклад написання цифр для заповнення бланку відповідей: *1 2 3 4 5 6 7 8 9 0*

Увага! Кожна записана цифра не має виходити за межі білого прямокутника

49 50 51 52 53 54

Приклад написання чисел у завданнях 49-56: число 1: *1* число 17: *1 7* число 123: *1 2 3*

55 56

Місце для виправлення помилкової відповіді до завдань 49-56
 Запишіть новий варіант відповіді праворуч відповідного номера завдання.

49 50 51 52 53 54

55 56

ВАРІАНТ 4

1. Вкажіть метод фізичної географії:

- А. Екологічний.
- Б. Статистичний.
- В. Палеогеографічний.
- Г. Економічного районування.

А	Б	В	Г
<input type="checkbox"/>	<input type="checkbox"/>	<input type="checkbox"/>	<input type="checkbox"/>

2. Вкажіть античного мислителя, який дав назву географії як науці:

- А. Гіпократ.
- Б. Геродот.
- В. Страбон.
- Г. Ератосфен.

А	Б	В	Г
<input type="checkbox"/>	<input type="checkbox"/>	<input type="checkbox"/>	<input type="checkbox"/>

3. Вкажіть походження крейди:

- А. Метаморфічне.
- Б. Уламкове.
- В. Органогенне.
- Г. Магматичне.

А	Б	В	Г
<input type="checkbox"/>	<input type="checkbox"/>	<input type="checkbox"/>	<input type="checkbox"/>

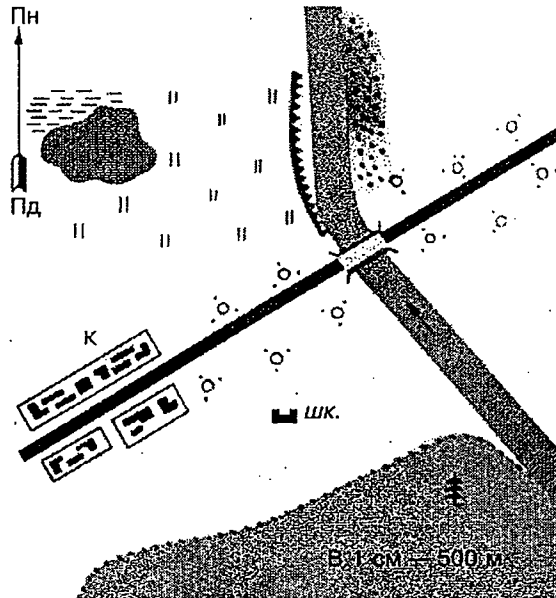
4. Вкажіть шар внутрішньої будови Землі, по якому переміщуються літосферні плити:

- А. Ядро.
- Б. Мантія.
- В. Земна кора.
- Г. Астеносфера.

А	Б	В	Г
<input type="checkbox"/>	<input type="checkbox"/>	<input type="checkbox"/>	<input type="checkbox"/>

5. Визначте, користуючись планом місцевості, у якому напрямку від школи розташований міст через річку:

- А. Північному.
- Б. Північно-східному.
- В. Південно-східному.
- Г. Південному.



А	Б	В	Г
<input type="checkbox"/>	<input type="checkbox"/>	<input type="checkbox"/>	<input type="checkbox"/>

6. Назвіть шар атмосфери, у якому зосереджений майже увесь озон:

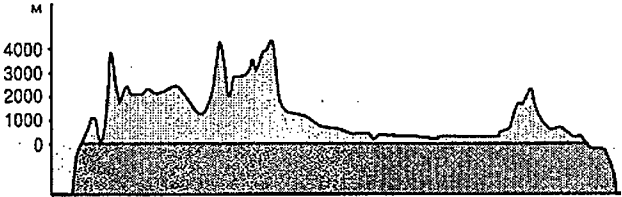
- А. Тропосфера.
- Б. Стратосфера.
- В. Мезосфера.
- Г. Термосфера.

А	Б	В	Г
<input type="checkbox"/>	<input type="checkbox"/>	<input type="checkbox"/>	<input type="checkbox"/>

7. Вкажіть, який шар гірських порід властивий тільки материковій земній корі:

- А. Осадочний.
- Б. Базальтовий.
- В. Гранітний.
- Г. Мармуровий.

А	Б	В	Г
<input type="checkbox"/>	<input type="checkbox"/>	<input type="checkbox"/>	<input type="checkbox"/>

8. Оберіть форму рельєфу, яка в своїй основі має найдавнішу тектонічну структуру:
- А. Вододільний хребет.
 Б. Амазонська низовина.
 В. Скелясті гори.
 Г. Кавказькі гори.
- А Б В Г
9. Зазначте кліматичний пояс Північної півкулі Землі, у якому на значній території панує континентальний клімат:
- А. Екваторіальний.
 Б. Субекваторіальний.
 В. Помірний.
 Г. Субтропічний.
- А Б В Г
10. Вкажіть походження Нової Гвінеї і Нової Зеландії – найбільших з островів Океанії:
- А. Материкове.
 Б. Вулканічне.
 В. Коралове.
 Г. Акумулятивне.
- А Б В Г
11. Вкажіть найглибший жолоб Атлантичного океану, відкритий ще в ХІХ ст.:
- А. Маріанський.
 Б. Пуерто-Рико.
 В. Зондський.
 Г. Перуанський.
- А Б В Г
12. Вкажіть океан, у якому температура поверхневих вод на півночі акваторії вища, ніж на півдні:
- А. Північний Льодовитий.
 Б. Індійський.
 В. Атлантичний.
 Г. Тихий.
- А Б В Г
13. Укажіть материк, якому відповідає профіль рельєфу:
- А. Африка.
 Б. Північна Америка.
 В. Південна Америка.
 Г. Австралія.
- 

А Б В Г
14. Вкажіть, який вид циркуляції повітряних мас переважає над Африканським континентом:
- А. Циклони.
 Б. Мусони.
 В. Пасати.
 Г. Бризи.
- А Б В Г
15. Вкажіть материк, на якому розташоване найбільше за площею прісноводне озеро Землі:
- А. Євразія.
 Б. Північна Америка.
 В. Південна Америка.
 Г. Африка.
- А Б В Г
16. Оберіть місто в Південній Америці, що розміщене в районі з найбільш континентальним кліматом:
- А. Сантьяго.
 Б. Монтевідео.
 В. Каракас.
 Г. Богота.
- А Б В Г
17. Оберіть захід, що сприяє сповільненню темпів глобального потепління клімату:
- А. Осушення боліт.
 Б. Вирубвання лісів.

- В. Перерозподіл стоку річок.
- Г. Зменшення шкідливих викидів в атмосферу.

А	Б	В	Г
<input type="checkbox"/>	<input type="checkbox"/>	<input type="checkbox"/>	<input type="checkbox"/>

18. Зазначте основні джерела забруднення повітря:

- А. Сільське господарство.
- Б. Атомні електростанції.
- В. Транспорт і промислові підприємства.
- Г. Комунальні підприємства.

А	Б	В	Г
<input type="checkbox"/>	<input type="checkbox"/>	<input type="checkbox"/>	<input type="checkbox"/>

19. Назвіть низовину, якою пролягає північний кордон України:

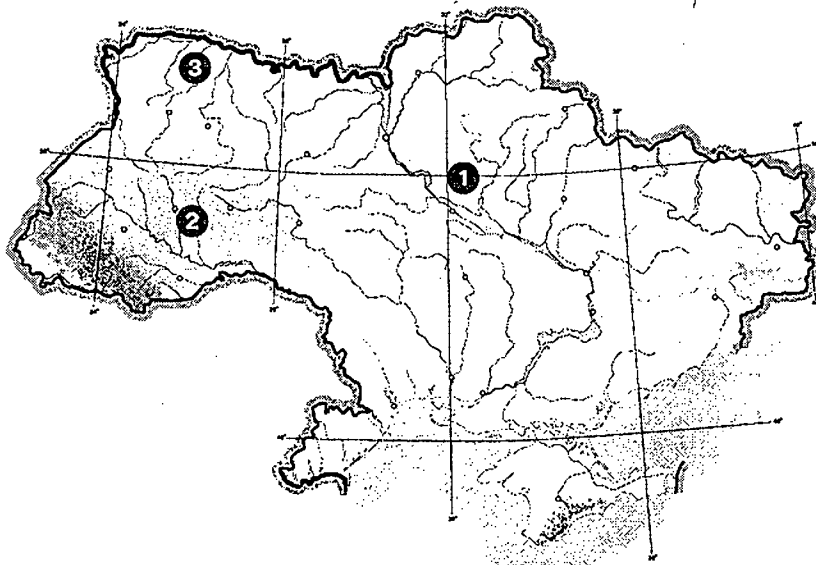
- А. Приазовська.
- Б. Закарпатська.
- В. Причорноморська.
- Г. Поліська.

А	Б	В	Г
<input type="checkbox"/>	<input type="checkbox"/>	<input type="checkbox"/>	<input type="checkbox"/>

20. Визначте, які форми рельєфу позначено на карті цифрами 1, 2 і 3:

- А. Приазовська височина, Придніпровська височина, Хотинська височина.
- Б. Донецька височина, Хотинська височина, Закарпатська низовина.
- В. Причорноморська низовина, Волинська височина, Середньоросійська височина.
- Г. Придніпровська низовина, Подільська височина, Поліська низовина.

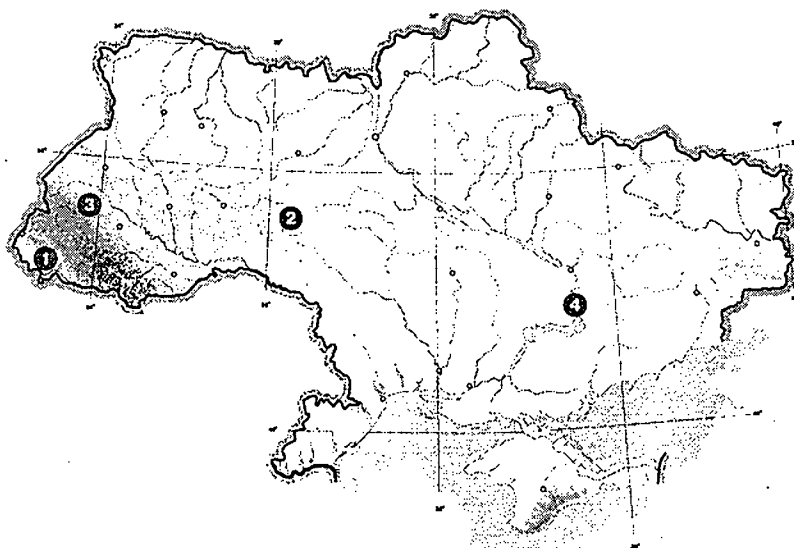
А	Б	В	Г
<input type="checkbox"/>	<input type="checkbox"/>	<input type="checkbox"/>	<input type="checkbox"/>



21. Якою цифрою позначено населений пункт з найбільш континентальним кліматом:

- А. 1.
- Б. 2.
- В. 3.
- Г. 4.

А	Б	В	Г
<input type="checkbox"/>	<input type="checkbox"/>	<input type="checkbox"/>	<input type="checkbox"/>



22. Зазначте основні причини дефіциту водних ресурсів України:

- А. Нераціональне споживання води в побуті.
- Б. Надмірне споживання води промисловістю і сільським господарством.
- В. Переважання місцевого стоку над транзитним.
- Г. Забруднення акваторії Чорного та Азовського морів.

А	Б	В	Г
<input type="checkbox"/>	<input type="checkbox"/>	<input type="checkbox"/>	<input type="checkbox"/>

23. Вкажіть назву платоподібних безлісних вершин Головного пасма Кримських гір:

- А. Мангри.
- Б. Байраки.
- В. Полопини.
- Г. Яйли.

А	Б	В	Г
<input type="checkbox"/>	<input type="checkbox"/>	<input type="checkbox"/>	<input type="checkbox"/>

24. Визначте за описом назву ландшафту в лісостеповій зоні України:

Крутосхиле горбогір'я з буковими і грабово-буковими лісами на сірих лісових ґрунтах, має східчастий характер рельєфу, густо порізаного долинами річок та ярами.

- А. Черногора.
- Б. Розточчя.
- В. Полісся.
- Г. Покуття.

А	Б	В	Г
<input type="checkbox"/>	<input type="checkbox"/>	<input type="checkbox"/>	<input type="checkbox"/>

25. Вкажіть рівнинну фізико-географічну країну, у межах якої розташована територія України:

- А. Карпатська.
- Б. Східноєвропейська.
- В. Альпійська.
- Г. Середньоевропейська.

А	Б	В	Г
<input type="checkbox"/>	<input type="checkbox"/>	<input type="checkbox"/>	<input type="checkbox"/>

26. Зазначте область України, у якій частка українців за переписом 2001 р. становить близько 52 %:

- А. Донецька.
- Б. Закарпатська.
- В. Одеська.
- Г. Черкаська.

А	Б	В	Г
<input type="checkbox"/>	<input type="checkbox"/>	<input type="checkbox"/>	<input type="checkbox"/>

27. Яка галузь машинобудування є експортноорієнтованою?

- А. Сільськогосподарське.
- Б. Верстатобудування.
- В. Електротехнічне.
- Г. Важке.

А	Б	В	Г
<input type="checkbox"/>	<input type="checkbox"/>	<input type="checkbox"/>	<input type="checkbox"/>

28. Які галузі входять до складу промисловості будівельних матеріалів України?

- А. Деревообробна, будівництво.
- Б. Цементна, склоробна.
- В. Гірничохімічна, лісопилна.
- Г. Гумоазбестова, шинна.

А	Б	В	Г
<input type="checkbox"/>	<input type="checkbox"/>	<input type="checkbox"/>	<input type="checkbox"/>

29. Вкажіть комплекс галузей промисловості України, які використовують близько 80 % імпортної сировини, а також різноманітні відходи від сільськогосподарського виробництва та вторинну сировину:

- А. Хімічний.
- Б. Агропромисловий.
- В. Лісопромисловий.
- Г. Паливно-енергетичний.

А	Б	В	Г
<input type="checkbox"/>	<input type="checkbox"/>	<input type="checkbox"/>	<input type="checkbox"/>

30. Зазначте економічний район України, у якому зафіксовані найвищі сумарні викиди шкідливих речовин в атмосферу:

- А. Північно-Східний.
- Б. Північно-Західний.
- В. Придніпровський.
- Г. Донецький.

А	Б	В	Г
<input type="checkbox"/>	<input type="checkbox"/>	<input type="checkbox"/>	<input type="checkbox"/>

31. Визначте економічний район України, який спеціалізується на галузях добувної промисловості:
- А. Столичний.
 Б. Північно-Західний.
 В. Подільський.
 Г. Донецький.
- А Б В Г
- | | | | |
|--|--|--|--|
| | | | |
|--|--|--|--|
32. Назвіть чинники, що найбільше впливають на територіальну організацію світового господарства в умовах НТР:
- А. Сировинні бази, транспортна доступність.
 Б. Розвинута інфраструктура та наукові центри.
 В. Джерела енергії та води.
 Г. Природні ресурси та дешева робоча сила.
- А Б В Г
- | | | | |
|--|--|--|--|
| | | | |
|--|--|--|--|
33. Оберіть одну з найвисокогірніших столиць світу:
- А. Абуджа.
 Б. Катманду.
 В. Сантьяго.
 Г. Відень.
- А Б В Г
- | | | | |
|--|--|--|--|
| | | | |
|--|--|--|--|
34. Оберіть варіант, у якому вказано країни, що мають спільний кордон на суходолі:
- А. Канада-Мексика.
 Б. Індія-Туреччина.
 В. Франція-Італія.
 Г. Куба-Бразилія.
- А Б В Г
- | | | | |
|--|--|--|--|
| | | | |
|--|--|--|--|
35. Визначте рівень безробіття (у відсотках) в країні, якщо кількість трудових ресурсів становить 22 млн осіб, а кількість офіційно зареєстрованих безробітних – 0,5 млн осіб.
- А. 2,0.
 Б. 0,02.
 В. 0,07.
 Г. 2,27.
- А Б В Г
- | | | | |
|--|--|--|--|
| | | | |
|--|--|--|--|
36. Зазначте назву місць, у яких здебільшого живуть робітники і службовці:
- А. Населений пункт.
 Б. Селище міського типу.
 В. Село.
 Г. Місто.
- А Б В Г
- | | | | |
|--|--|--|--|
| | | | |
|--|--|--|--|
37. Зазначте країну – світового лідера за обсягом видобування кам'яного вугілля:
- А. Німеччина.
 Б. Україна.
 В. Китай.
 Г. Австралія.
- А Б В Г
- | | | | |
|--|--|--|--|
| | | | |
|--|--|--|--|
38. Вкажіть металургійну базу, формування якої було зорієнтовано на вугільний басейн.
- А. Рур (ФРН).
 Б. Урал (Росія).
 В. Чикаго (США).
 Г. Кривий Ріг (Україна).
- А Б В Г
- | | | | |
|--|--|--|--|
| | | | |
|--|--|--|--|
39. Назвіть країну, яка випереджає інші країни за обсягом виробництва робототехніки:
- А. США.
 Б. Японія.
 В. Німеччина.
 Г. Італія.
- А Б В Г
- | | | | |
|--|--|--|--|
| | | | |
|--|--|--|--|
40. Зазначте головний чинник того, що переважна більшість країн Африки належить до групи країн, що розвиваються.
- А. Недостатньо мінеральної сировини й енергії промислових масштабів, низький показник ресурсозабезпеченості.
 Б. Несприятливі природні умови для розвитку сільського господарства і промисловості.
 В. Бідність населення і високий рівень безробіття.
 Г. Тривале колоніальне минуле, неадекватна участь у міжнародних економічних відносинах, технологічна відсталість.
- А Б В Г
- | | | | |
|--|--|--|--|
| | | | |
|--|--|--|--|

41. Вкажіть термін, який характеризує науково-технічне міжнародне співробітництво:

- А. Комбінування.
- Б. Спеціалізація.
- В. Інвестування.
- Г. Інжиніринг.

А Б В Г

--	--	--	--

42. Визначте країну за наведеним нижче описом:

Ця країна займає значну частину материка, має багату природно-ресурсну базу. За чисельністю населення входить до першого десятка світу. Відрізняється строкатим національним складом населення, названа на честь цінної рослини. Відома у світі своїми містами-мільйонерами і плантаційним землеробством.

- А. Росія.
- Б. Китай.
- В. Бразилія.
- Г. Австралія.

А Б В Г

--	--	--	--

43. Знайдіть відповідність між способом зображення Землі та його змістом:

- 1. Космічний знімок.
- 2. Глобус.
- 3. План.
- 4. Карта.
- А. Фотографія Землі, зроблена з літака.
- Б. Зменшене зображення земної поверхні на площині, побудоване з урахуванням форми Землі.
- В. Фотографія Землі, зроблена зі супутника.
- Г. Креслення невеликої ділянки місцевості, виконане у великому масштабі та за допомогою умовних знаків.
- Д. Зменшена модель Землі.

А Б В Г Д

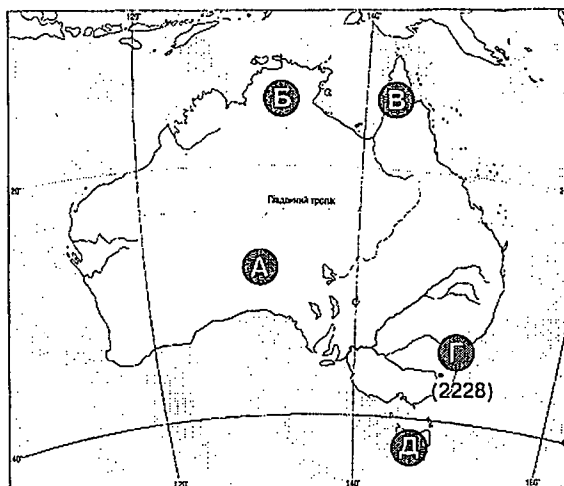
1					
2					
3					
4					

44. Знайдіть відповідність між об'єктами, позначеними на карті Австралії, і вказаними назвами:

- 1. Тасманія.
- 2. Велика пустеля Вікторія.
- 3. Косцюшко.
- 4. Кейп-Йорк.

А Б В Г Д

1					
2					
3					
4					



45. Визначте відповідність між областю України і природоохоронною територією:

- 1. Херсонська.
- 2. Волинська.
- 3. Івано-Франківська.
- 4. Черкаська.
- А. Карпатський національний природний парк.
- Б. Канівський заповідник.
- В. Заповідник «Стрілецький степ».
- Г. Чорноморський заповідник.
- Д. Шацький національний природний парк.

А Б В Г Д

1					
2					
3					
4					

46. Визначте відповідність між галузями хімічної промисловості та центрами її розвитку:

- | | |
|------------------------------------|----------------------|
| 1. Виробництво азотних добрив. | А. Стебник. |
| 2. Виробництво калійних добрив. | Б. Слов'янськ. |
| 3. Виробництво кальцинованої соди. | В. Дніпродзержинськ. |
| 4. Виробництво сірчаної кислоти. | Г. Фастів. |
| | Д. Новий Роздол. |

	А	Б	В	Г	Д
1					
2					
3					
4					

47. Установіть відповідність між природними зонами Північної Америки і видами тварин, які мешкають в них:

- | | |
|-------------------------------|------------------|
| 1. Лісостеп і степ. | А. Опосум. |
| 2. Напівпустелі і пустелі. | Б. Карibu. |
| 3. Мішані і широколисті ліси. | В. Бізон. |
| 4. Тундра. | Г. Сніжний барс. |
| | Д. Койот. |

	А	Б	В	Г	Д
1					
2					
3					
4					

48. Установіть відповідність між портами України і їхнім розміщенням:

- | | |
|----------------|-------------------|
| 1. Миколаїв. | А. Чорне море. |
| 2. Рені. | Б. Дніпро. |
| 3. Іллічівськ. | В. Дунай. |
| 4. Маріуполь. | Г. Азовське море. |
| | Д. Південний Буг. |

	А	Б	В	Г	Д
1					
2					
3					
4					

49. Оберіть з переліку ті мінеральні ресурси, які в достатній кількості є в Україні і використовуються для виробництва продукції металургії:

- | | |
|-----------------------|-------------------|
| 1. Буре вугілля. | 5. Титанові руди. |
| 2. Вогнетривкі глини. | 6. Залізні руди. |
| 3. Боксити. | 7. Нікелеві руди. |
| 4. Марганцеві руди. | |

--	--	--

50. Визначте в національному складі населення України три найчисленніші групи:

- | | |
|---------------------|---------------|
| 1. Українці. | 5. Молдовани. |
| 2. Угорці. | 6. Греки. |
| 3. Кримські татари. | 7. Росіяни. |
| 4. Білоруси. | |

--	--	--

51. Зазначте чинники, що впливають на річний розподіл температури повітря на Землі:

- | | |
|--|---|
| 1. Океанічні течії. | 5. Добовий хід температури. |
| 2. Вміст водяної пари в повітрі. | 6. Кут падіння сонячних променів на різних широтах. |
| 3. Чергування суходолу і водних просторів. | 7. Зміна пір року. |
| 4. Річна кількість опадів. | |

--	--	--

52. Вкажіть причини виникнення хвиль в океані:

- | | |
|---------------------|--------------------------------|
| 1. Солоність води. | 5. Зміни атмосферного тиску. |
| 2. Вітер. | 6. Перемішування водних мас. |
| 3. Землетруси. | 7. Зіткнення літосферних плит. |
| 4. Океанічні течії. | |

--	--	--

53. Зазначте закономірності географічної оболонки:

- | | |
|---|-----------------------------------|
| 1. Цілісність. | 4. Ритмічність. |
| 2. Забруднення. | 5. Зростання кількості населення. |
| 3. Переважання суходолу над водною поверхнею. | 6. Зональність і азоняльність. |
| | 7. Однорідність. |

--	--	--

54. Зазначте країни, які є найбільшими експортерами та імпортерами продовольства в світі:

- | | |
|-------------|---------------|
| 1. Мексика. | 5. Бразилія. |
| 2. Китай. | 6. США. |
| 3. Росія. | 7. Аргентина. |
| 4. Канада. | |

--	--	--

55. Визначте абсолютну вологість повітря (у г/м³), якщо відносна вологість становить 50 %, а вологість насичення сягає 14 г/м³.

--	--	--	--	--	--

56. Визначте, о котрій годині за київським часом ви будете вітати з новим роком українців, що мешкають у канадській столиці – м. Оттава (75° 30' зх. д.).

--	--	--	--	--	--

A

Увага!
Цей бланк перевіряє комп'ютер! Ваші відповіді в бланку є результатом Вашої роботи.

Географія

1 2 3 4 5 6 7 8 9 10 11 12 13 14 15

Позначте номер Вашого зошита так:

Правильну відповідь у завданнях позначайте тільки так:

Неправильну відповідь можна виправити, замалювавши попередню позначку та поставивши нову.

А Б В Г

А Б В Г	А Б В Г	А Б В Г	А Б В Г	А Б В Г	А Б В Г
1 <input type="checkbox"/>	8 <input type="checkbox"/>	15 <input type="checkbox"/>	22 <input type="checkbox"/>	29 <input type="checkbox"/>	36 <input type="checkbox"/>
2 <input type="checkbox"/>	9 <input type="checkbox"/>	16 <input type="checkbox"/>	23 <input type="checkbox"/>	30 <input type="checkbox"/>	37 <input type="checkbox"/>
3 <input type="checkbox"/>	10 <input type="checkbox"/>	17 <input type="checkbox"/>	24 <input type="checkbox"/>	31 <input type="checkbox"/>	38 <input type="checkbox"/>
4 <input type="checkbox"/>	11 <input type="checkbox"/>	18 <input type="checkbox"/>	25 <input type="checkbox"/>	32 <input type="checkbox"/>	39 <input type="checkbox"/>
5 <input type="checkbox"/>	12 <input type="checkbox"/>	19 <input type="checkbox"/>	26 <input type="checkbox"/>	33 <input type="checkbox"/>	40 <input type="checkbox"/>
6 <input type="checkbox"/>	13 <input type="checkbox"/>	20 <input type="checkbox"/>	27 <input type="checkbox"/>	34 <input type="checkbox"/>	41 <input type="checkbox"/>
7 <input type="checkbox"/>	14 <input type="checkbox"/>	21 <input type="checkbox"/>	28 <input type="checkbox"/>	35 <input type="checkbox"/>	42 <input type="checkbox"/>

А Б В Г Д	А Б В Г Д	А Б В Г Д	А Б В Г Д
43 1 <input type="checkbox"/>	44 1 <input type="checkbox"/>	45 1 <input type="checkbox"/>	46 1 <input type="checkbox"/>
2 <input type="checkbox"/>	2 <input type="checkbox"/>	2 <input type="checkbox"/>	2 <input type="checkbox"/>
3 <input type="checkbox"/>	3 <input type="checkbox"/>	3 <input type="checkbox"/>	3 <input type="checkbox"/>
4 <input type="checkbox"/>	4 <input type="checkbox"/>	4 <input type="checkbox"/>	4 <input type="checkbox"/>

А Б В Г Д	А Б В Г Д
47 1 <input type="checkbox"/>	48 1 <input type="checkbox"/>
2 <input type="checkbox"/>	2 <input type="checkbox"/>
3 <input type="checkbox"/>	3 <input type="checkbox"/>
4 <input type="checkbox"/>	4 <input type="checkbox"/>

Приклад написання цифр для заповнення бланку відповідей: 1 2 3 4 5 6 7 8 9 0

Увага! Кожна записана цифра не має виходити за межі білого прямокутника

49 50 51 52 53 54

Приклад написання чисел у завданнях 49-56: число 1: число 17: число 123:

55 56

Місце для виправлення помилкової відповіді до завдань 49-56

Запишіть новий варіант відповіді праворуч відповідного номера завдання

49 50 51 52 53 54
55 56

ВАРІАНТ 5

1. Зазначте метод, який використовує в своїх дослідженнях як фізична, так і економічна географія:

- А. Картографічний.
- Б. Економічного районування.
- В. Палеогеографічний.
- Г. Техніко-економічний.

А	Б	В	Г

2. Хто з видатних мислителів минулого створив велику працю «Географія»?

- А. Гіппократ.
- Б. Геродот.
- В. Страбон.
- Г. Ератосфен.

А	Б	В	Г

3. Оберіть назву приладу, який слугує для визначення географічних координат у навігації:

- А. Гномон.
- Б. Астролябія.
- В. Барометр.
- Г. Нівелір.

А	Б	В	Г

4. Вкажіть назву процесу накопичення гірських порід, що переносяться вітром:

- А. Вивітрювання.
- Б. Абразія.
- В. Денудація.
- Г. Акумуляція.

А	Б	В	Г

5. Зазначте день, коли в Південній півкулі починається астрономічне літо:

- А. 1 грудня.
- Б. 22 червня.
- В. 1 червня.
- Г. 22 грудня.

А	Б	В	Г

6. У якій країні вперше застосували масштаб?

- А. Греція.
- Б. Німеччина.
- В. Іспанія.
- Г. Португалія.

А	Б	В	Г

7. Оберіть поняття, зміст якого розкриває наведений нижче текст:

«Горизонтальний кут між напрямком на північ і напрямком на обраний об'єкт».

- А. Дирекційний кут.
- Б. Магнітне схилення.
- В. Географічна довгота.
- Г. Азимут.

А	Б	В	Г

8. Вкажіть форми рельєфу, які трапляються на рівнинах:

- А. Низовини, височини.
- Б. Нагір'я, плоскогір'я.
- В. Кратери, плато.
- Г. Хребти, перевали.

А	Б	В	Г

9. Зазначте, від чого нагріваються приземні шари повітря:

- А. Від земної поверхні.
- Б. Від верхніх шарів атмосфери.
- В. Від сонячної енергії, що проходить через атмосферу.
- Г. Від внутрішніх шарів Землі.

А	Б	В	Г

10. Зазначте причини утворення бризів:

- А. Сезонна різниця в температурі суходолу та океану.
- Б. Добова різниця в температурі й тиску між суходолом і водоймою.

- В. Наявність невисоких гірських хребтів біля моря.
Г. Чергування долин і гірських хребтів.
11. Вкажіть річку, яка є коротшою, ніж її головна притока:
А. Волга.
Б. Дніпро.
В. Ніл.
Г. Міссісіпі.
12. Визначте течії, які розташовані в різних океанах, проте дуже схожі за своїми властивостями і утворюють великий колообіг у Північній півкулі:
А. Канарська і Перуанська.
Б. Гольфстрім і Куросіо.
В. Південна Пасатна і Північна Пасатна.
Г. Сомалійська і Західних вітрів.
13. Вкажіть елементи дна Світового океану, що утворюються в місцях розходження літосферних плит:
А. Шельф.
Б. Материковий схил.
В. Глибоководний жолоб.
Г. Серединно-океанічний хребет.
14. Зазначте океан, у якому формується своєрідна мусонна течія, якої немає в інших океанах:
А. Тихий.
Б. Атлантичний.
В. Індійський.
Г. Північний Льодовитий.
15. Вкажіть материк, на якому розташовані найбільші континентальні розломи:
А. Євразія.
Б. Африка.
В. Північна Америка.
Г. Південна Америка.
16. Вкажіть річку Африки, яка має своєрідну форму гирла, що сприяє проникненню океанічних вод далеко в русло річки, а річкових – в океан:
А. Ніл.
Б. Нігер.
В. Замбезі.
Г. Конго.
17. Назвіть материк, на якому сформувався полюс холоду Землі завдяки застою дуже холодного повітря в міжгірних улоговинах:
А. Північна Америка.
Б. Євразія.
В. Антарктида.
Г. Південна Америка.
18. Зазначте пункт в Євразії, у якому панує помірний морський тип клімату:
А. Владивосток.
Б. Астана.
В. Москва.
Г. Париж.
19. Зазначте найповноводнішу річку Південної Америки.
А. Парана.
Б. Конго.
В. Амазонка.
Г. Оріноко.

А Б В Г

--	--	--	--

А Б В Г

--	--	--	--

А Б В Г

--	--	--	--

А Б В Г

--	--	--	--

А Б В Г

--	--	--	--

А Б В Г

--	--	--	--

А Б В Г

--	--	--	--

А Б В Г

--	--	--	--

А Б В Г

--	--	--	--

А Б В Г

--	--	--	--

20. Оберіть безлісні природні зони Землі:

- А. Тайга, сільва.
- Б. Тундра, степ.
- В. Савани і рідколісся, гілея.
- Г. Джунгли, прерії.

А Б В Г

--	--	--	--

21. Визначте місцевий час на нульовому меридіані, якщо на 180-му меридіані за місцевим часом 24 година.

- А. 2 год.
- Б. 6 год.
- В. 9 год.
- Г. 12 год.

А Б В Г

--	--	--	--

22. Назвіть країну, з якою Україна має спільний кордон по річці Дунай:

- А. Румунія.
- Б. Болгарія.
- В. Молдова.
- Г. Польща.

А Б В Г

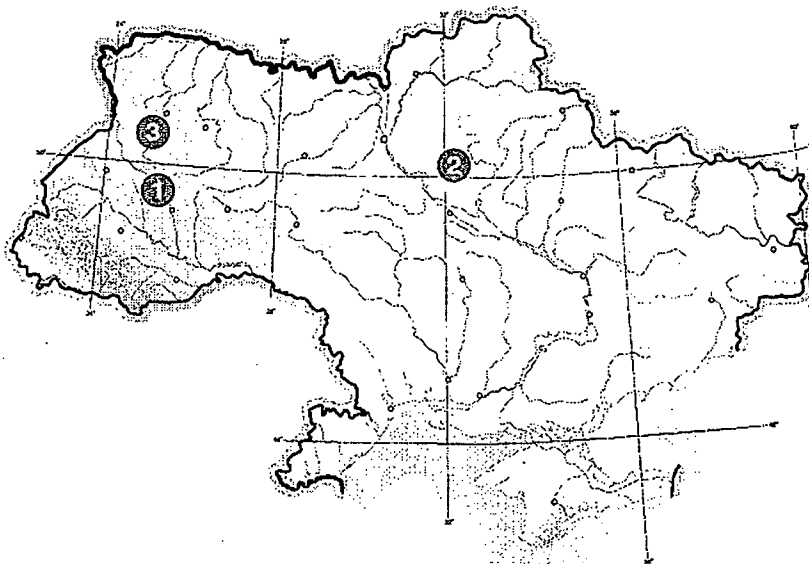
--	--	--	--

23. Визначте, які форми рельєфу позначено на карті цифрами:

- А. Приазовська височина, Словечансько-Овруцький кряж, Донецька височина.
- Б. Хотинська височина, Поліська низовина, Причорноморська низовина.
- В. Подільська височина, Придніпровська низовина, Волинська височина.
- Г. Придніпровська височина, Закарпатська низовина, Приазовська низовина.

А Б В Г

--	--	--	--



24. Вкажіть форму рельєфу України, для якої характерні задрові рівнини:

- А. Причорноморська низовина.
- Б. Поліська низовина.
- В. Придніпровська низовина.
- Г. Закарпатська низовина.

А Б В Г

--	--	--	--

25. Зазначте річку, яка не належить до жодного з басейнів великих річок України:

- А. Стрий.
- Б. Прут.
- В. Тиса.
- Г. Прип'ять.

А Б В Г

--	--	--	--

26. Назвіть природну зону України, у якій значно поширені болота:

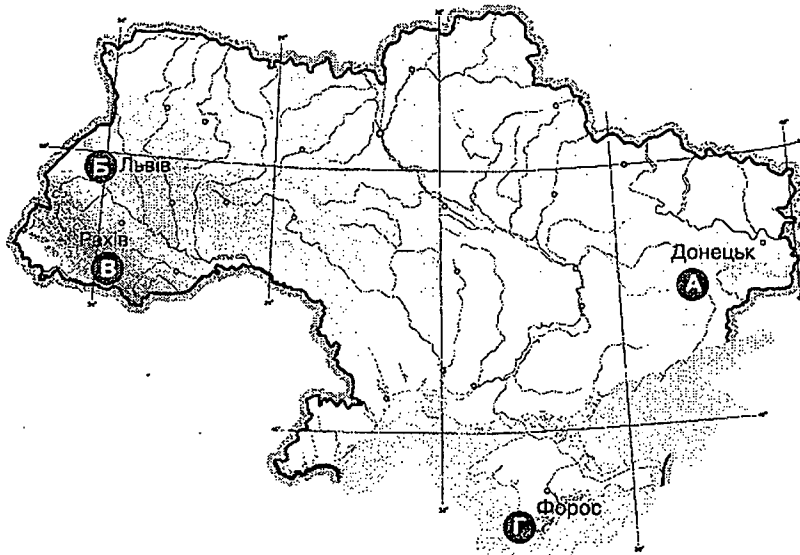
- А. Мішані ліси.
- Б. Лісостеп.
- В. Степ.
- Г. Вічнозелені твердолисті ліси і чагарники.

А Б В Г

--	--	--	--

27. Зазначте пункт України, у якому клімат найбільш вологий:

- А. Донецьк.
- Б. Львів.
- В. Рахів.
- Г. Форос.



А Б В Г

--	--	--	--

28. Назвіть країну, у якій існує найбільша українська діаспора:

- А. США.
- Б. Канада.
- В. Росія.
- Г. Польща.

А Б В Г

--	--	--	--

29. Вкажіть область України, у якій розміщена Південноукраїнська АЕС:

- А. Одеська.
- Б. Запорізька.
- В. Хмельницька.
- Г. Миколаївська.

А Б В Г

--	--	--	--

30. Оберіть виробництва, що входять до складу чорної металургії України:

- А. Титаномagneзеве й алюмінієве виробництво.
- Б. Виробництво металовиробів і цинку.
- В. Виробництво ртуті й електродне виробництво.
- Г. Виробництво сталі, прокату.

А Б В Г

--	--	--	--

31. Зазначте області України з найбільшою густотою залізниць:

- А. Волинська, Житомирська.
- Б. Кіровоградська, Черкаська.
- В. Сумська, Вінницька.
- Г. Донецька, Луганська.

А Б В Г

--	--	--	--

32. Оберіть країни, що входять до регіональної організації МЕРКОСУР:

- А. Бразилія, Аргентина, Уругвай.
- Б. США, Канада, Мексика.
- В. Китай, Казахстан, Монголія.
- Г. Таїланд, Індонезія, Сінгапур.

А Б В Г

--	--	--	--

33. Обчисліть, користуючись таблицею, показник природного приросту населення (у проміле) країни за рік:

Рік	Народжуваність, на 1 тис. осіб	Смертність, на 1 тис. осіб	Еміграція, тис. осіб	Імміграція, тис. осіб	Населення, млн осіб
2009	7	15	10	100	56

- А. +8.
- Б. -8.
- В. +10.
- Г. -10.

А Б В Г

--	--	--	--

34. Зазначте країну, де серед віруючих переважають мусульмани:

- А. Індія.
- Б. Єгипет.
- В. Колумбія.
- Г. Китай.

А Б В Г

--	--	--	--

35. Визначте рівень безробіття (у відсотках) в країні, якщо кількість трудових ресурсів становить 25 млн осіб, а кількість офіційно зареєстрованих безробітних – 3 млн осіб.

- А. 12.
- Б. 10.
- В. 2.
- Г. 1.

А Б В Г

--	--	--	--

36. Назвіть країну трьох світових релігій:

- А. Росія.
- Б. США.
- В. Ізраїль.
- Г. Саудівська Аравія.

А Б В Г

--	--	--	--

37. Вкажіть країну, у якій атомній енергетиці належить найбільша частка в національному енергетичному виробництві:

- А. Україна.
- Б. Росія.
- В. США.
- Г. Франція.

А Б В Г

--	--	--	--

38. Зазначте металургійний центр США:

- А. Лос-Анджелес.
- Б. Піттсбург.
- В. Хьюстон.
- Г. Бостон.

А Б В Г

--	--	--	--

39. Визначте державу, яка, надаючи фінансово-технологічну підтримку, сприяла розвиткові машинобудування країн нової індустріалізації – «азіатських тигрів»:

- А. США.
- Б. Північна Корея.
- В. Австралія.
- Г. Японія.

А Б В Г

--	--	--	--

40. Оберіть країну, яка за чисельністю населення – друга, за площею – перша країна в Західній Європі, в одному з її міст на сході розташований Європейський парламент:

- А. Франція.
- Б. Іспанія.
- В. Бельгія.
- Г. ФРН.

А Б В Г

--	--	--	--

41. Визначте країну за наведеним нижче описом:

Це країна згаслих і діючих вулканів, що нагрівають підземні води до температури 100 °С. Тут налічується до сотні джерел гарячої води, у тому числі і гейзерів. Їх енергія приводить у рух турбіни електростанцій, обігріває житлові будинки, оранжереї. Столиця країни – одне з найчистіших міст світу.

- А. Мексика.
- Б. Росія.
- В. Ісландія.
- Г. Індонезія.

А Б В Г

--	--	--	--

42. Визначте країну за наведеним нижче описом:

Країна Європи, входить до складу «Великої вісімки», 80 % її території займають гори, у її межах розташувалися дві зовсім крихітні держави.

- А. Франція.
- Б. Італія.
- В. Німеччина.
- Г. Іспанія.

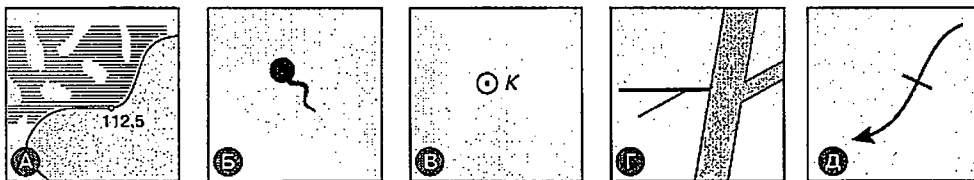
А Б В Г

--	--	--	--

43. Знайдіть відповідність між назвами об'єктів та їхніми умовними позначеннями на топографічній карті:

1. Джерело.
2. Озеро.
3. Криниця.
4. Канали меліоративні.

	А	Б	В	Г	Д
1					
2					
3					
4					



44. Зазначте відповідність між формами рельєфу і часом їхнього утворення:

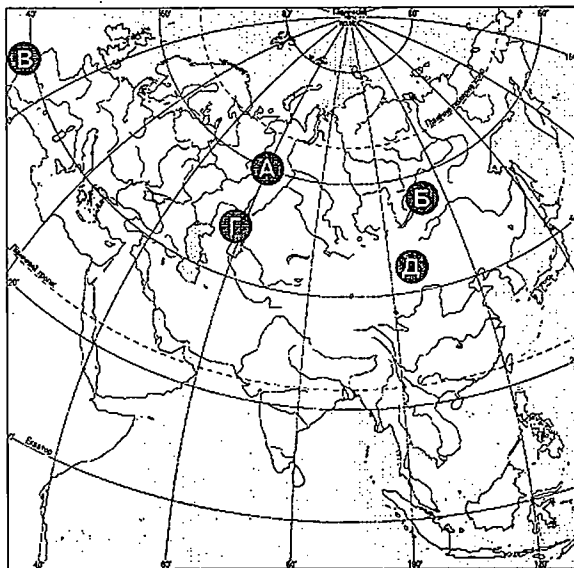
1. Атлаські гори.
2. Сибірське плоскогір'я.
3. Скелясті гори.
4. Скандинавські гори.

- А. Кайнозойська ера.
- Б. Мезозойська ера.
- В. Палеозойська ера.
- Г. Протерозойська ера.
- Д. Архейська ера.

	А	Б	В	Г	Д
1					
2					
3					
4					

45. Знайдіть відповідність між об'єктами, позначеними на карті Євразії, і вказаними назвами:

1. Озеро Байкал.
2. Пустеля Гобі.
3. Уральські гори.
4. Мис Рока.



	А	Б	В	Г	Д
1					
2					
3					
4					

46. Визначте відповідність між державами та формами їхнього державного правління:

1. ОАЕ, Бруней, Катар.
2. США, Росія, Бразилія.
3. Малайзія, Японія, Норвегія.
4. Греція, Індія, Ізраїль.

- А. Президентські республіки.
- Б. Парламентські республіки.
- В. Президентсько-парламентські республіки.
- Г. Конституційні монархії.
- Д. Абсолютні монархії.

	А	Б	В	Г	Д
1					
2					
3					
4					

47. Визначте відповідність між природними зонами Південної Америки і видами тварин-ендемів, які мешкають у них:

1. Вологі екваторіальні ліси.
2. Савани і рідколісся.
3. Степи.
4. Пустелі і напівпустелі.

- А. Гуанако.
- Б. Гепард.
- В. Щур шиншила.
- Г. Брононосець.
- Д. Лінивонець.

	А	Б	В	Г	Д
1					
2					
3					
4					

48. Установіть відповідність між сільськогосподарською культурою і країною, яка посідає перше місце у світі за її виробництвом:

- | | |
|--------------|--------------|
| 2. Бавовник. | А. США. |
| 3. Соя. | Б. Індія. |
| 4. Кава. | В. Колумбія. |
| 5. Чай. | Г. Китай. |
| | Д. Бразилія. |

	А	Б	В	Г	Д
1					
2					
3					
4					

49. Оберіть країни, у яких українська діаспора є найчисленнішою:

- | | |
|-------------|---------------|
| 1. Польща. | 5. Росія. |
| 2. США. | 6. Аргентина. |
| 3. Молдова. | 7. Румунія. |
| 4. Канада. | |

--	--	--

50. Оберіть з перелічених глобальних проблем людства три екологічні проблеми:

- | | |
|-------------------------|---------------------------------|
| 1. Деградація земель. | 5. Руйнування озонового шару. |
| 2. Продовольча. | 6. Проблема миру і роззброєння. |
| 3. Дефіцит чистої води. | 7. Дефіцит сировинних ресурсів. |
| 4. Демографічна. | |

--	--	--

51. Виберіть умови, за яких формуються атмосферні опади:

- Наявність атмосферного фронту.
- Низька температура і високий тиск.
- Висока температура і високий тиск.
- Висока температура і низький тиск.
- Проходження циклону.
- Переміщення сухого повітря схилом гори вниз.
- Наявність міжгірної улоговини.

--	--	--

52. Оберіть типи рельєфу, які утворені зовнішніми процесами і трапляються переважно на низовинах рівнинної частини території України:

- | | |
|------------------|----------------|
| 1. Суфозійні. | 5. Алювіальні. |
| 2. Еолові. | 6. Абразійні. |
| 3. Гравітаційні. | 7. Куестові. |
| 4. Денудаційні. | |

--	--	--

53. Оберіть країни, які посідають перші три місця за обсягом виробництва льняних тканин:

- | | |
|-------------|--------------|
| 1. Україна. | 5. Білорусь. |
| 2. Китай. | 6. Чехія. |
| 3. Росія. | 7. Польща. |
| 4. Італія. | |

--	--	--

54. Оберіть три найпотужніші світові товаропотоки:

- Північна Америка–Азія.
- Західна Європа–Африка.
- Північна Америка–Південна Америка.
- Західна Європа–Азія.
- Північна Америка–Західна Європа.
- Азія–Австралія.
- Центральна Азія–Європа.

--	--	--

55. Вирахуйте відносну вологість повітря (у %), якщо абсолютна вологість становить 12 г/м³, а вологість насичення – 23,0 г/м³.

--	--	--	--	--

56. Обчисліть місцевий час у місті А (60° сх. д.), якщо місцевий час у місті В (15° зх. д.) становить 12 годин.

--	--	--	--	--

A

Увага!

Цей бланк перевіряє комп'ютер! Ваші відповіді в бланку є результатом Вашої роботи.

Географія

1 2 3 4 5 6 7 8 9 10 11 12 13 14 15

Позначте номер Вашого зошита так:

Правильну відповідь у завданнях позначаєте тільки так:

Неправильну відповідь можна виправити, замалювавши попередню позначку та поставивши нову:

А Б В Г

А Б В Г 1 <input type="checkbox"/>	А Б В Г 8 <input type="checkbox"/>	А Б В Г 15 <input type="checkbox"/>	А Б В Г 22 <input type="checkbox"/>	А Б В Г 29 <input type="checkbox"/>	А Б В Г 36 <input type="checkbox"/>
2 <input type="checkbox"/>	9 <input type="checkbox"/>	16 <input type="checkbox"/>	23 <input type="checkbox"/>	30 <input type="checkbox"/>	37 <input type="checkbox"/>
3 <input type="checkbox"/>	10 <input type="checkbox"/>	17 <input type="checkbox"/>	24 <input type="checkbox"/>	31 <input type="checkbox"/>	38 <input type="checkbox"/>
4 <input type="checkbox"/>	11 <input type="checkbox"/>	18 <input type="checkbox"/>	25 <input type="checkbox"/>	32 <input type="checkbox"/>	39 <input type="checkbox"/>
5 <input type="checkbox"/>	12 <input type="checkbox"/>	19 <input type="checkbox"/>	26 <input type="checkbox"/>	33 <input type="checkbox"/>	40 <input type="checkbox"/>
6 <input type="checkbox"/>	13 <input type="checkbox"/>	20 <input type="checkbox"/>	27 <input type="checkbox"/>	34 <input type="checkbox"/>	41 <input type="checkbox"/>
7 <input type="checkbox"/>	14 <input type="checkbox"/>	21 <input type="checkbox"/>	28 <input type="checkbox"/>	35 <input type="checkbox"/>	42 <input type="checkbox"/>

А Б В Г Д 43 1 <input type="checkbox"/>	А Б В Г Д 44 1 <input type="checkbox"/>	А Б В Г Д 45 1 <input type="checkbox"/>	А Б В Г Д 46 1 <input type="checkbox"/>
2 <input type="checkbox"/>	2 <input type="checkbox"/>	2 <input type="checkbox"/>	2 <input type="checkbox"/>
3 <input type="checkbox"/>	3 <input type="checkbox"/>	3 <input type="checkbox"/>	3 <input type="checkbox"/>
4 <input type="checkbox"/>	4 <input type="checkbox"/>	4 <input type="checkbox"/>	4 <input type="checkbox"/>

А Б В Г Д 47 1 <input type="checkbox"/>	А Б В Г Д 48 1 <input type="checkbox"/>
2 <input type="checkbox"/>	2 <input type="checkbox"/>
3 <input type="checkbox"/>	3 <input type="checkbox"/>
4 <input type="checkbox"/>	4 <input type="checkbox"/>

Приклад написання цифр для заповнення бланку відповідей **1 2 3 4 5 6 7 8 9 0**

Увага! Кожна записана цифра не має виходити за межі білого прямокутника

49 50 51 52 53 54

Приклад написання чисел у завданнях 49-56: число 1 **1** число 17 **7 7** число 123 **1 2 3**

55 56

Місце для виправлення помилкової відповіді

до завдань 49-56

Запишіть новий варіант відповіді праворуч відповідного номера завдання

49 50 51 52 53 54
 55 56

ВАРІАНТ 6

1. Яку півкулю Землі називають материковою?
 - А. Східну.
 - Б. Західну.
 - В. Північну.
 - Г. Південну.

А	Б	В	Г

2. Дослідник, ім'ям якого названо водоспади на р. Конго, гори в Східній Африці, місто в Замбії, – це:
 - А. Васко да Гама.
 - Б. Христофор Колумб.
 - В. Давид Лівінгстон.
 - Г. Ібн Батута.

А	Б	В	Г

3. Вкажіть, який з названих діючих вулканів на суходолі є найвищим у світі:
 - А. Гекла.
 - Б. Котопахі.
 - В. Орисаба.
 - Г. Камерун.

А	Б	В	Г

4. На якій паралелі Сонце буває в зеніті 22 червня?
 - А. Північне полярне коло.
 - Б. Екватор.
 - В. Північний тропік.
 - Г. Південний тропік.

А	Б	В	Г

5. Коли в Києві спостерігається найнижча висота полуденного сонця?
 - А. 22 грудня.
 - Б. 21 березня.
 - В. 22 червня.
 - Г. 23 вересня.

А	Б	В	Г

6. Зазначте прилад, яким можна вимірювати відстані на карті:
 - А. Термометр.
 - Б. Барометр.
 - В. Курвіметр.
 - Г. Гігрометр.

А	Б	В	Г

7. Укажіть ознаку мантії Землі:
 - А. Займає понад 4/5 об'єму Землі.
 - Б. Складається переважно із заліза.
 - В. Завтовшки 5–70 км.
 - Г. Складається з трьох шарів гірських порід.

А	Б	В	Г

8. Зазначте закономірності розподілу хмарності на Землі:
 - А. Незначна хмарність у помірних і високих широтах.
 - Б. Велика хмарність протягом усього року над екватором, незначна – у тропічних широтах.
 - В. Значна хмарність над островами та в тропічних широтах.
 - Г. У поясах високого тиску хмарність висока, а низького тиску – низька.

А	Б	В	Г

9. Вкажіть головний чинник, що визначає розподіл температури повітря на Землі:
 - А. Географічна довгота.
 - Б. Рух повітряних мас.
 - В. Кількість сонячного випромінювання.
 - Г. Кількість спаленого вугілля, нафти й газу.

А	Б	В	Г

10. Зазначте напрямок переміщення денного бризу:
 - А. Із суходолу на море.
 - Б. З моря на суходіл.
 - В. З гірської вершини в долину.
 - Г. Угору гірським схилом.

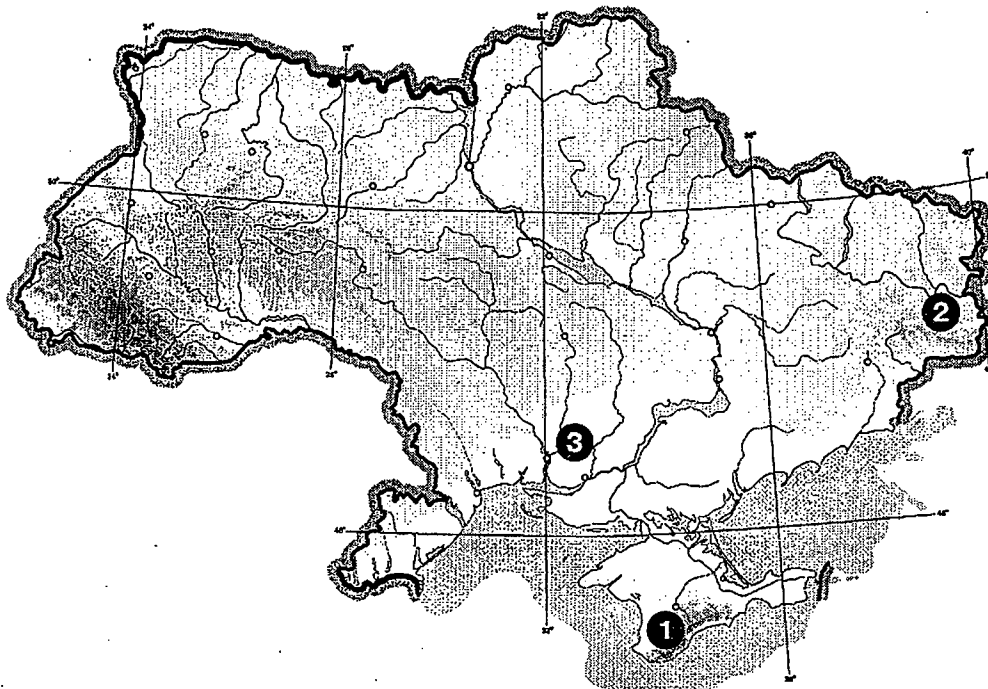
А	Б	В	Г

11. Визначте, за який час температура ненасиченого водяною парою повітря, що піднімається зі швидкістю 2,5 м/с, знизиться на 3,6 °С.
- А. 4 хв.
 Б. 4 год.
 В. 2,4 хв.
 Г. 1,4 хв.
- А Б В Г
12. Вкажіть океанічну течію, що проходить через три океани і є найпотужнішою течією Світового океану:
- А. Південна Пасатна.
 Б. Північна Пасатна.
 В. Міжпасатна протитечія.
 Г. Західних вітрів.
- А Б В Г
13. У якому океані зафіксовано найбільшу глибину?
- А. Північний Льодовитий.
 Б. Індійський.
 В. Атлантичний.
 Г. Тихий.
- А Б В Г
14. Вкажіть частину Атлантичного океану, де нині зосереджено найбільше спеціальних платформ, з яких видобувають нафту і газ:
- А. Північне море.
 Б. Мексиканська затока.
 В. Гвінейська затока.
 Г. Карибське море.
- А Б В Г
15. Зазначте причину наявності теплих водних мас у Північному Льодовитому океані на глибині 600–900 м:
- А. Дія підземних гарячих джерел.
 Б. Розходження літосферних плит.
 В. Проходження теплої течії з Атлантичного океану.
 Г. Прогрівання водних мас влітку.
- А Б В Г
16. Оберіть материк, який вирізняється найбільшим контрастом висот:
- А. Африка.
 Б. Євразія.
 В. Північна Америка.
 Г. Південна Америка.
- А Б В Г
17. Вкажіть, на якому материках степи називають преріями:
- А. Австралія.
 Б. Південна Америка.
 В. Євразія.
 Г. Північна Америка.
- А Б В Г
18. Як називаються види рослин і тварин, що залишилися з давніх часів на території Австралії і збереглися донині?
- А. Релікти.
 Б. Ендеміки.
 В. Біогеоценоз.
 Г. Флора і фауна.
- А Б В Г
19. Назвіть материк, поблизу якого розташована найбільша у світі коралова споруда:
- А. Африка.
 Б. Австралія.
 В. Північна Америка.
 Г. Південна Америка.
- А Б В Г
20. Зазначте височину, яка заходить на територію України лише на північному сході:
- А. Подільська.
 Б. Приазовська.
 В. Середньоросійська.
 Г. Хотинська.
- А Б В Г

21. Визначте, які форми рельєфу позначено на карті цифрами 1, 2, 3:

- А. Приазовська височина, Карпати, Кримські гори.
- Б. Закарпатська низовина, Придніпровська височина, Подільська височина.
- В. Кримські гори, Донецька височина, Причорноморська низовина.
- Г. Північнокримська низовина, Волинська височина, Поліська низовина.

А	Б	В	Г



22. Вкажіть природну зону України, що сформувалася в умовах найбільш континентального клімату:

- А. Мішані ліси.
- Б. Широколисті ліси.
- В. Лісостеп.
- Г. Степ.

А	Б	В	Г

23. Оберіть природну зону України з найменшим показником коефіцієнта зволоження:

- А. Мішані ліси.
- Б. Широколисті ліси.
- В. Лісостеп.
- Г. Степ.

А	Б	В	Г

24. Який об'єкт вважають природним дивом Криму? Він розмістився у глибині північного схилу Ай-Петринського масиву, його вузьким днищем протікає річка Аузун-Узень.

- А. Водоспад.
- Б. Каньйон.
- В. Озеро.
- Г. Канал.

А	Б	В	Г

25. Вкажіть державу Західної півкулі, в якій найбільша за чисельністю українська діаспора:

- А. Аргентина.
- Б. США.
- В. Бразилія.
- Г. Куба.

А	Б	В	Г

26. Вкажіть місто-мільйонер України:

- А. Львів.
- Б. Запоріжжя.
- В. Харків.
- Г. Кривий Ріг.

А	Б	В	Г

27. Оберіть області України, які є лідерами за часткою земель сільськогосподарського призначення:
- А. Тернопільська, Хмельницька, Львівська.
 Б. Миколаївська, Одеська, Херсонська.
 В. Чернігівська, Сумська, Полтавська.
 Г. Закарпатська, Волинська, Рівненська.
- А Б В Г
28. Укажіть район, у якому було збудовано першу в Україні і в світі ВЕС:
- А. Приазов'я.
 Б. Крим.
 В. Предкарпаття.
 Г. Закарпаття.
- А Б В Г
29. Укажіть вугільний басейн України, в якому вугілля видобувають відкритим способом:
- А. Донецький.
 Б. Причорноморський.
 В. Львівсько-Волинський.
 Г. Дніпровський.
- А Б В Г
30. Вкажіть центри чорної металургії України:
- А. Кривий Ріг, Дніпропетровськ.
 Б. Миколаїв, Харків.
 В. Слов'янськ, Кіровоград.
 Г. Світловодськ, Херсон.
- А Б В Г
31. Зазначте економічний район України, де з-поміж інших художніх промислів виділяється писанкарство, створено музей писанки.
- А. Донецький.
 Б. Карпатський.
 В. Столичний.
 Г. Придніпровський.
- А Б В Г
32. Вкажіть економічний район України, який за господарським спрямуванням є аграрно-індустріальним:
- А. Донецький.
 Б. Карпатський.
 В. Центральний.
 Г. Придніпровський.
- А Б В Г
33. Укажіть економічний район України, на який припадає понад 80 % видобутку газу і близько 70 % – нафти.
- А. Карпатський.
 Б. Північно-Східний.
 В. Причорноморський.
 Г. Столичний.
- А Б В Г
34. Оберіть материк, на якому спостерігається найвищий показник земельних ресурсів на душу населення:
- А. Євразія.
 Б. Південна Америка.
 В. Північна Америка.
 Г. Австралія.
- А Б В Г
35. Вкажіть країни, у яких густота населення є нижчою за середньосвітові показники:
- А. Німеччина, Японія.
 Б. Сінгапур, Монако.
 В. Австралія, Канада.
 Г. Бангладеш, Мальта.
- А Б В Г
36. Зазначте країни, які є світовими лідерами з виробництва паперу і картону на душу населення:
- А. Росія, США.
 Б. Бразилія, Індонезія.
 В. Індія, Фінляндія.
 Г. Швеція, Канада.
- А Б В Г

37. Назвіть країни, які є світовими лідерами за обсягами фінансових послуг:

- А. США, Швейцарія, Велика Британія.
- Б. Франція, Республіка Корея, Канада.
- В. Німеччина, Японія, Сінгапур.
- Г. Росія, Китай, В'єтнам.

А	Б	В	Г
<input type="checkbox"/>	<input type="checkbox"/>	<input type="checkbox"/>	<input type="checkbox"/>

38. Оберіть країну, яка є лідером за обсягом світового експорту одягу:

- А. США.
- Б. Туреччина.
- В. Індія.
- Г. Китай.

А	Б	В	Г
<input type="checkbox"/>	<input type="checkbox"/>	<input type="checkbox"/>	<input type="checkbox"/>

39. Зазначте галузь промисловості Італії, на яку припадає понад 40 % експорту:

- А. Чорна металургія.
- Б. Машинобудування.
- В. Нафтохімічна промисловість.
- Г. Виробництво будівельних матеріалів.

А	Б	В	Г
<input type="checkbox"/>	<input type="checkbox"/>	<input type="checkbox"/>	<input type="checkbox"/>

40. Оберіть країну Африки, в якій зафіксовано найвищий у світі природний приріст населення:

- А. Єгипет.
- Б. Судан.
- В. Уганда.
- Г. Ефіопія.

А	Б	В	Г
<input type="checkbox"/>	<input type="checkbox"/>	<input type="checkbox"/>	<input type="checkbox"/>

41. Визначте країну за наведеним нижче описом:

Населення цієї країни є одним з найчисленніших. Цивілізація налічує понад п'ять тисяч років. У країні проживає багато етнічних груп, державною мовою є англійська. Міста в цій країні виникли ще до нашої ери, проте переважає в ній сільське населення.

- А. Індонезія.
- Б. Індія.
- В. Бразилія.
- Г. Австралія.

А	Б	В	Г
<input type="checkbox"/>	<input type="checkbox"/>	<input type="checkbox"/>	<input type="checkbox"/>

42. Визначте країну за наведеним нижче описом:

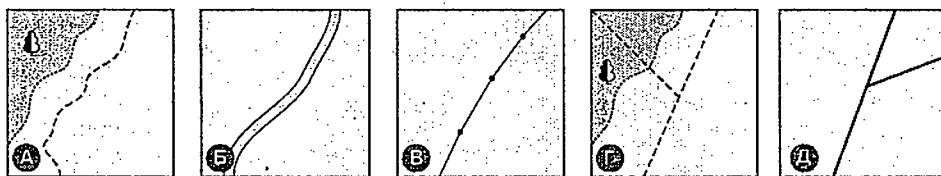
Ця країна є другою за площею країною світу. Належить до найбільш розвинутих країн світу. Господарство розвивається під дією трьох основних чинників: наявність великих природних ресурсів, сусідство з однією з країн-лідерів, чітко визначена система соціальної організації суспільства.

- А. Росія.
- Б. Китай.
- В. Індія.
- Г. Канада.

А	Б	В	Г
<input type="checkbox"/>	<input type="checkbox"/>	<input type="checkbox"/>	<input type="checkbox"/>

43. Знайдіть відповідність між назвами об'єктів та їхніми умовними позначеннями на плані місцевості:

1. Ґрунтові дороги.
2. Лінії зв'язку.
3. Шосейні дороги.
4. Польові і лісові дороги.



	А	Б	В	Г	Д
1	<input type="checkbox"/>	<input type="checkbox"/>	<input type="checkbox"/>	<input type="checkbox"/>	<input type="checkbox"/>
2	<input type="checkbox"/>	<input type="checkbox"/>	<input type="checkbox"/>	<input type="checkbox"/>	<input type="checkbox"/>
3	<input type="checkbox"/>	<input type="checkbox"/>	<input type="checkbox"/>	<input type="checkbox"/>	<input type="checkbox"/>
4	<input type="checkbox"/>	<input type="checkbox"/>	<input type="checkbox"/>	<input type="checkbox"/>	<input type="checkbox"/>

44. Вкажіть відповідність між природоохоронними об'єктами та їхніми особливостями:

1. Біосферний заповідник.
2. Національний природний парк.
3. Природний заповідник.
4. Пам'ятка природи.

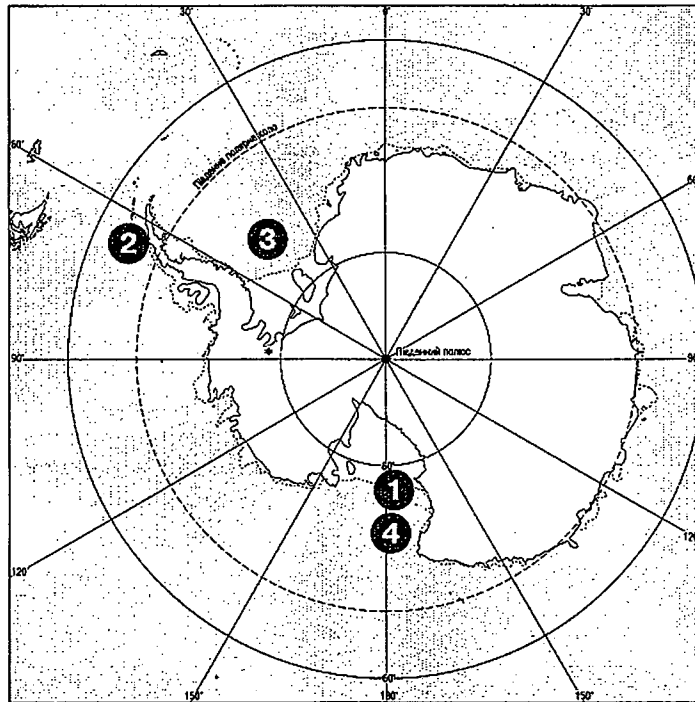
- А. Ділянка території або акваторії, на якій зберігається в природному стані весь природний комплекс; використовується для наукових досліджень.
- Б. Територія, де періодично зберігається якийсь об'єкт чи природний комплекс у цілому.
- В. Природоохоронна територія, на якій зберігаються у природному стані найхарактерніші природні комплекси і здійснюється контроль за станом навколишнього середовища, екологічні спостереження.
- Г. Природоохоронна територія, на якій поєднується охорона природи з раціональною організацією відпочинку населення і туризмом.
- Д. Рідкісні або визначні об'єкти природи, цінні в науковому, культурно-естетичному, просвітницькому та ін. аспектах.

	А	Б	В	Г	Д
1					
2					
3					
4					

45. Знайдіть відповідність між об'єктами, позначеними на карті Антарктиди, та їхніми назвами:

- А. Станція «Академік Вернадський».
- Б. Вулкан Еребус.
- В. Море Ведделла.
- Г. Море Росса.
- Д. Трансантарктичний хребет.

	А	Б	В	Г	Д
1					
2					
3					
4					



46. Встановіть відповідність між країнами й рівнем їхнього соціально-економічного розвитку:

- 1. Ефіопія, Бангладеш, Болівія.
- 2. Італія, Франція, Канада.
- 3. Португалія, Іспанія, Греція.
- 4. Південна Корея, Бразилія, Чилі.
- А. Середньорозвинуті.
- Б. Нові індустріальні країни.
- В. Перехідного етапу розвитку.
- Г. Найменш розвинуті.
- Д. Високорозвинуті.

	А	Б	В	Г	Д
1					
2					
3					
4					

47. Установіть відповідність між особливостями материків і власне материками:

- 1. Найжаркіший.
- 2. Найхолодніший.
- 3. Найсухіший.
- 4. Найвологіший.
- А. Австралія.
- Б. Африка.
- В. Антарктида.
- Г. Євразія.
- Д. Південна Америка.

	А	Б	В	Г	Д
1					
2					
3					
4					

48. Установіть відповідність між центрами розвитку кольорової металургії та областями України:

- | | |
|------------------|----------------------|
| 1. Іршанськ. | А. Дніпропетровська. |
| 2. Світловодськ. | Б. Донецька. |
| 3. Жовті Води. | В. Житомирська. |
| 4. Краматорськ. | Г. Запорізька. |
| | Д. Кіровоградська. |

	А	Б	В	Г	Д
1					
2					
3					
4					

49. Зазначте неназемні види транспорту України:

- | | |
|--------------------|----------------|
| 1. Морський. | 5. Річковий. |
| 2. Залізничний. | 6. Метро. |
| 3. Трубопровідний. | 7. Авіаційний. |
| 4. Електронний. | |

--	--	--

50. Оберіть країни Південно-Східної Азії, які належать до нових індустріальних країн:

- | | |
|--------------|---------------|
| 1. Корея. | 5. Філіппіни. |
| 2. Сінгапур. | 6. В'єтнам. |
| 3. Бруней. | 7. Камбоджа. |
| 4. Малайзія. | |

--	--	--

51. Вкажіть умови утворення підземних вод:

- Хвилястий рельєф.
- Достатня кількість атмосферних опадів.
- Наявність водопроникних гірських порід.
- Залягання гірських порід під певним кутом.
- Наявність заглиблень на поверхні Землі.
- Наявність водотривких гірських порід.
- Континентальність клімату.

--	--	--

52. Зазначте причини зменшення кількості опадів із заходу на схід на материк Європа:

- Послаблення мусонної циркуляції.
- Послаблення західного перенесення повітряних мас.
- Переважає циклонів на сході.
- Переважає гірського рельєфу.
- Панування узимку області високого тиску – Азіатського максимуму.
- Посилений вплив зимового мусону у внутрішніх областях материка.
- Наявність високої гірської системи на узбережжі материка.

--	--	--

53. Визначте умови, за яких на півдні України виникають пилові бурі:

- | | |
|----------------------------------|---------------------------------|
| 1. Проходження холодного фронту. | 5. Значна швидкість вітру. |
| 2. Наявність розораних земель. | 6. Підвищена вологість повітря. |
| 3. Переважає посушливої погоди. | 7. Зливові дощі. |
| 4. Значний сніговий покрив. | |

--	--	--

54. Вкажіть основні причини швидкого зростання ВВП у Китаї:

- Зростання внутрішнього споживання.
- Потужні природні ресурси.
- Наявність дешевої робочої сили.
- Значні інвестиції в економіку.
- Переважає імпортоорієнтованих галузей.
- Регіональні диспропорції розвитку країни.
- Відсутність конкуренції.

--	--	--

55. Обчисліть відносну висоту гори, якщо на її вершині температура повітря становить 0 °С, а біля підніжжя, що має абсолютну висоту 300 м, температура дорівнює +6 °С.

--	--	--	--	--

56. Визначте частку міського населення України (у %), враховуючи, що чисельність населення країни на 1 січня 2012 р. становила 45,5 млн осіб, з них кількість сільського населення – 143 млн осіб.

--	--	--	--	--

A

Увага!

Цей бланк перевіряє комп'ютер! Ваші відповіді в бланку є результатом Вашої роботи.

Географія

1 2 3 4 5 6 7 8 9 10 11 12 13 14 15

Позначте номер Вашого зошита так:

Правильну відповідь у завданнях позначаєте тільки так:

Неправильну відповідь можна виправити, замалювавши попередню позначку та поставивши нову:

А Б В Г

А	Б	В	Г	А	Б	В	Г	А	Б	В	Г	А	Б	В	Г	А	Б	В	Г	А	Б	В	Г
1				8				15				22				29				36			
2				9				16				23				30				37			
3				10				17				24				31				38			
4				11				18				25				32				39			
5				12				19				26				33				40			
6				13				20				27				34				41			
7				14				21				28				35				42			

А	Б	В	Г	Д	А	Б	В	Г	Д	А	Б	В	Г	Д	А	Б	В	Г	Д
43	1				44	1				45	1				46	1			
	2					2					2					2			
	3					3					3					3			
	4					4					4					4			

А	Б	В	Г	Д	А	Б	В	Г	Д
47	1				48	1			
	2					2			
	3					3			
	4					4			

Приклад написання цифр для заповнення бланка відповідей: 1 2 3 4 5 6 7 8 9 0

Увага! Кожна записана цифра не має виходити за межі білого прямокутника

49				50				51				52				53				54			
----	--	--	--	----	--	--	--	----	--	--	--	----	--	--	--	----	--	--	--	----	--	--	--

Приклад написання чисел у завданнях 49–56: число 1: 1 число 17: 1 7 число 123: 1 2 3

55				56			
----	--	--	--	----	--	--	--

Місце для виправлення помилкової відповіді до завдань 49–56

Запишіть новий варіант відповіді праворуч відповідного номера завдання

49				50				51				52				53				54			
				55				56															

ВАРІАНТ 7

1. Зазначте науку, яка вивчає особливості формування погодних умов:
- А. Кліматологія.
 - Б. Метеорологія.
 - В. Гідрологія.
 - Г. Геоморфологія.
- А Б В Г
2. Вкажіть землепрохідця, який вперше проплив Беринговою протокою:
- А. Семен Дежньов.
 - Б. Іван Москвітін.
 - В. Василь Поярков.
 - Г. Єрофей Хабаров.
- А Б В Г
3. Назвіть період горотворення, який припав на кайнозойську еру:
- А. Альпійський.
 - Б. Герцинський.
 - В. Каледонський.
 - Г. Байкальський.
- А Б В Г
4. Зазначте паралель, на якій Сонце буває в зеніті 23 вересня:
- А. Північне полярне коло.
 - Б. Екватор.
 - В. Північний тропік.
 - Г. Південний тропік.
- А Б В Г
5. Визначте поясний час у Варшаві, якщо в Лондоні за Всесвітнім часом полудень:
- А. 12 год.
 - Б. 13 год.
 - В. 14 год.
 - Г. 11 год.
- А Б В Г
6. Як називається материкова обмілина?
- А. Жолоб.
 - Б. Каньйон.
 - В. Атол.
 - Г. Шельф.
- А Б В Г
7. Вкажіть речовину, яка міститься у верхніх горизонтах ґрунту і визначає його родючість:
- А. Глей.
 - Б. Підзол.
 - В. Гумус.
 - Г. Материнська порода.
- А Б В Г
8. Визначте відносну висоту Говерли щодо гори Роман-Копп:
- А. 516.
 - Б. 1000.
 - В. 2061.
 - Г. 1545.
- А Б В Г
9. Зазначте головну причину утворення підземних печер:
- А. Відкладання річкових наносів.
 - Б. Фізичне і хімічне вивітрювання.
 - В. Руйнування гірських порід вітром.
 - Г. Наявність розчинних гірських порід.
- А Б В Г
10. Вкажіть, як залежить від температури вміст водяної пари в повітрі:
- А. Чим вища температура, тим більший вміст водяної пари.
 - Б. Чим вища температура, тим менший вміст водяної пари.
 - В. Чим нижча температура, тим більший вміст водяної пари.
 - Г. Вміст водяної пари від зміни температури не залежить.
- А Б В Г

11. Назвіть озеро, що утворилося в розломі земної кори:

- А. Каспійське.
- Б. Ялпуг.
- В. Байкал.
- Г. Світязь.

А	Б	В	Г

12. Вкажіть чинники, від яких залежить кількість висотних поясів у горах:

- А. Висота гір, їх географічне положення.
- Б. Умови зволоження, наявність засніжених вершин.
- В. Крутизна схилів, наявність водних об'єктів у горах.
- Г. Експозиція схилів, континентальність клімату.

А	Б	В	Г

13. Назвіть причину того, що на островах Океанії немає комах:

- А. Висока температура повітря.
- Б. Виверження вулканів.
- В. Постійні опади.
- Г. Сильні вітри.

А	Б	В	Г

14. Укажіть океан, який має найглибший з глибоководних жолобів:

- А. Тихий.
- Б. Атлантичний.
- В. Індійський.
- Г. Північний Льодовитий.

А	Б	В	Г

15. Назвіть течію, завдяки якій на Атлантичному узбережжі Північної Америки у помірних широтах значно холодніше, ніж на Тихоокеанському узбережжі на тих самих широтах:

- А. Канарська.
- Б. Гольфстрім.
- В. Лабрадорська.
- Г. Мусонна.

А	Б	В	Г

16. Назвіть океан, у якому завдяки впливу материка Євразія течії змінюють напрямок руху двічі на рік, утворюючи потужний колообіг:

- А. Тихий.
- Б. Атлантичний.
- В. Індійський.
- Г. Північний Льодовитий.

А	Б	В	Г

17. Укажіть одну з причин того, що на більшій частині території Австралії сформувався континентальний клімат:

- А. Панує мусонна циркуляція.
- Б. Переважання західного перенесення повітря.
- В. Розміщення на сході материка Великого Вододільного хребта.
- Г. Розміщення у Південній півкулі.

А	Б	В	Г

18. Вкажіть, на якому з материків найбільший басейн внутрішнього стоку:

- А. Північна Америка.
- Б. Південна Америка.
- В. Африка.
- Г. Австралія.

А	Б	В	Г

19. Вкажіть материк, на якому спостерігаються льодовикові форми рельєфу, що виникли під дією давнього материкового зледеніння:

- А. Південна Америка.
- Б. Африка.
- В. Австралія.
- Г. Північна Америка.

А	Б	В	Г

20. Оберіть материк, на якому переважає пасатна циркуляція повітряних мас:

- А. Північна Америка.
- Б. Африка.
- В. Антарктида.
- Г. Євразія.

А	Б	В	Г

21. У яких географічних поясах переважають лісові ландшафти?

- А. Екваторіальний, помірний.
- Б. Субарктичний, антарктичний.
- В. Тропічний, субтропічний.
- Г. Субекваторіальний, субантарктичний.

А	Б	В	Г
<input type="checkbox"/>	<input type="checkbox"/>	<input type="checkbox"/>	<input type="checkbox"/>

22. Укажіть річку, вздовж якої пролягає спільний кордон України та Польщі:

- А. Південний Буг.
- Б. Західний Буг.
- В. Дністер.
- Г. Прут.

А	Б	В	Г
<input type="checkbox"/>	<input type="checkbox"/>	<input type="checkbox"/>	<input type="checkbox"/>

23. Вкажіть подію, яка істотно змінила органічний світ у межах території України в четвертинний період:

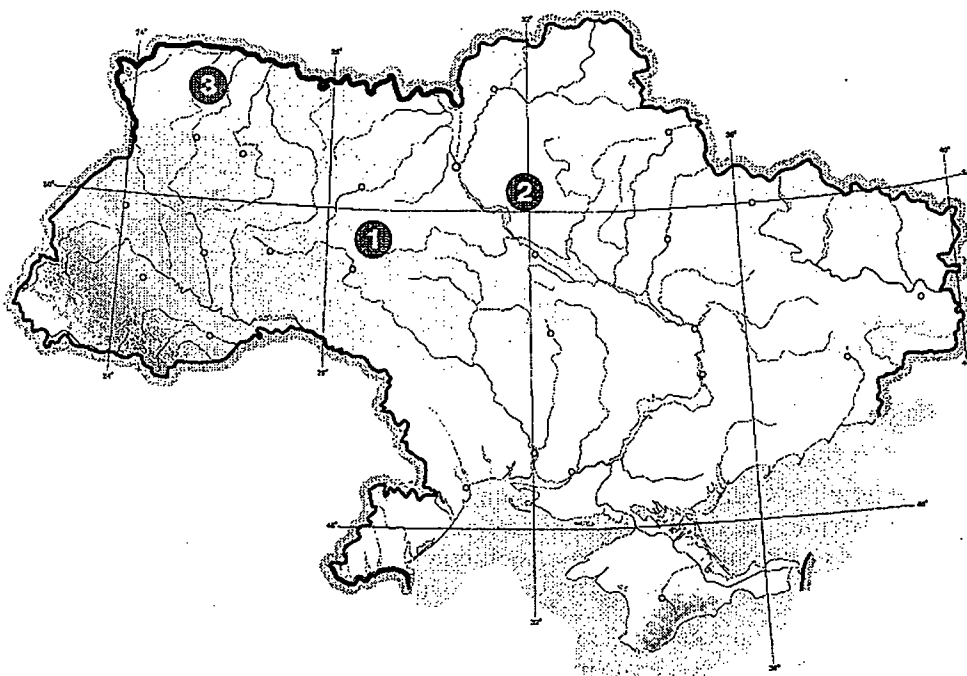
- А. Материкове зледеніння.
- Б. Утворення лесових порід та їх трансформація.
- В. Виникнення гірських споруд.
- Г. Повільні коливальні рухи земної кори.

А	Б	В	Г
<input type="checkbox"/>	<input type="checkbox"/>	<input type="checkbox"/>	<input type="checkbox"/>

24. Визначте, які форми рельєфу позначені на карті цифрами 1, 2, 3.

- А. Донецька височина, Закарпатська низовина, Волинська височина.
- Б. Донецький кряж, Подільська височина, Причорноморська низовина.
- В. Хотинська височина, Середньоросійська височина, Приазовська височина.
- Г. Придніпровська низовина, Придніпровська височина, Поліська низовина.

А	Б	В	Г
<input type="checkbox"/>	<input type="checkbox"/>	<input type="checkbox"/>	<input type="checkbox"/>



25. У якому регіоні України річки мають паводковий режим?

- А. Полісся.
- Б. Поділля.
- В. Карпати.
- Г. Придніпров'я.

А	Б	В	Г
<input type="checkbox"/>	<input type="checkbox"/>	<input type="checkbox"/>	<input type="checkbox"/>

26. Укажіть природну зону України, у якій залісеність становить близько 12 %:

- А. Мішані ліси.
- Б. Лісостеп.
- В. Степ.
- Г. Вічнозелені твердолисті ліси і чагарники.

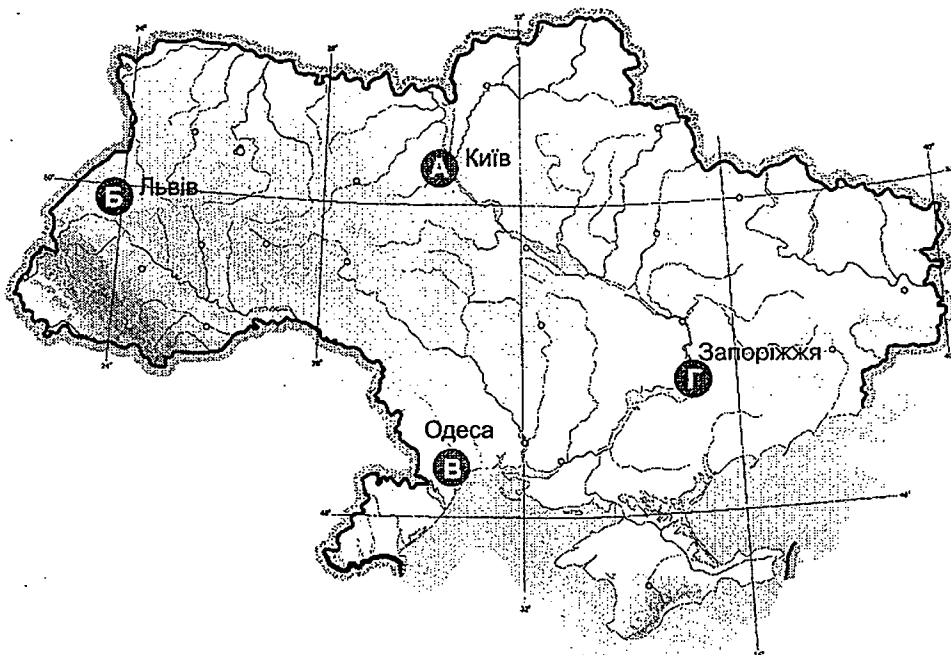
А	Б	В	Г
<input type="checkbox"/>	<input type="checkbox"/>	<input type="checkbox"/>	<input type="checkbox"/>

27. Оберіть пункт на карті України, у якому середньорічна кількість опадів більша:

- А. Київ.
- Б. Львів.
- В. Одеса.
- Г. Запоріжжя.

А Б В Г

--	--	--	--



28. Вкажіть причини заболоченості зони мішаних лісів України:

- А. Значне випаровування і велика кількість опадів.
- Б. Надмірне зволоження, наявність знижених форм рельєфу.
- В. Незначне випаровування, незначна кількість опадів.
- Г. Близькість океану, танення снігового покриву навесні.

А Б В Г

--	--	--	--

29. Яка область України має найменшу густоту населення?

- А. Донецька.
- Б. Чернівецька.
- В. Чернігівська.
- Г. Черкаська.

А Б В Г

--	--	--	--

30. Вкажіть добувні галузі у структурі господарства України:

- А. Чорна металургія, хімічна промисловість, харчова промисловість.
- Б. Електроенергетика, алюмінієва промисловість, сільське господарство.
- В. Лісозаготівля, паливна промисловість, рибна промисловість.
- Г. Машинобудування, легка промисловість, транспорт.

А Б В Г

--	--	--	--

31. Зазначте галузь господарства України, яка у своєму виробництві використовує найрізноманітнішу вітчизняну сировину, а також відходи інших галузей і зосереджена переважно в чотирьох промислових районах:

- А. Чорна металургія.
- Б. Кольорова металургія.
- В. Легка промисловість.
- Г. Хімічна промисловість.

А Б В Г

--	--	--	--

32. Який з економічних районів України є індустріально-аграрним за структурою господарства?

- А. Північно-Східний.
- Б. Північно-Західний.
- В. Центральний.
- Г. Причорноморський.

А Б В Г

--	--	--	--

33. Вкажіть промисловий вузол, який входить до складу Придніпровського металургійного району:
- А. Алчевський.
Б. Костянтинівський.
В. Криворізький.
Г. Маріупольський.
- А Б В Г
34. Обчисліть рівень безробіття в країні (у відсотках), якщо кількість трудових ресурсів становить 140 млн осіб, а кількість офіційно зареєстрованих безробітних – 7 млн осіб.
- А. 23.
Б. 10.
В. 8.
Г. 5.
- А Б В Г
35. Які товари переважають у товарній структурі світової торгівлі?
- А. Мінеральна сировина і паливо.
Б. Машини та обладнання.
В. Товари легкої промисловості.
Г. Сільськогосподарська сировина і продовольчі товари.
- А Б В Г
36. Які країни Європи є лідерами з виробництва фармацевтичної продукції?
- А. Італія, Швеція, Литва.
Б. Велика Британія, Нідерланди, Бельгія.
В. Німеччина, Угорщина, Франція.
Г. Чехія, Словаччина, Хорватія.
- А Б В Г
37. Оберіть країну, у якій 80 % продукції добувної промисловості йде на експорт:
- А. Японія.
Б. США.
В. Китай.
Г. Канада.
- А Б В Г
38. Назвіть країну, у якій розташована найбільша в світі науково-технологічна зона «Силіконова долина»:
- А. Німеччина.
Б. США.
В. Росія.
Г. Японія.
- А Б В Г
39. Які країни за формою державного правління переважають у Латинській Америці?
- А. Республіки.
Б. Конституційні монархії.
В. Абсолютні монархії.
Г. Члени Британської Співдружності.
- А Б В Г
40. Виберіть країни, у яких уперше з'явилися високошвидкісні залізничні магістралі:
- А. Велика Британія, Китай.
Б. Німеччина, Італія.
В. Японія, Франція.
Г. США, Росія.
- А Б В Г
41. Визначте країну за наведеним нижче описом:
- Це країна з двохтисячорічною історією. Її столиця була заснована в 52 р. до н. е., а нині в ній розміщується понад 270 економічних, політичних та громадських всесвітніх організацій. За обсягом ВВП країна посідає друге місце в Європі. Однією з найпопулярніших галузей країни є туризм.
- А. Велика Британія.
Б. Німеччина.
В. Італія.
Г. Франція.
- А Б В Г

42. Визначте країну за наведеним нижче описом:

Країна є економічним лідером не тільки свого регіону, а й світу. Населення – однонаціональне, сповідує буддизм і синтоїзм. Країна дивує світ своїми технологіями. У ній збудовано найдовший у світі підводний тунель.

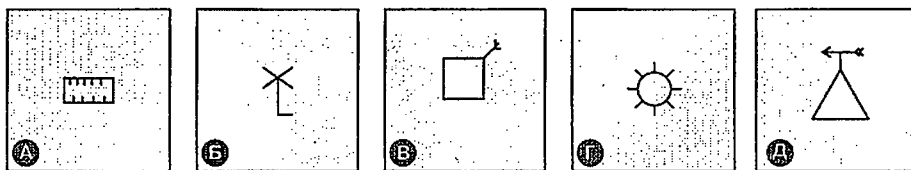
- А. США.
- Б. Японія.
- В. Велика Британія.
- Г. Сінгапур.

А	Б	В	Г

43. Знайдіть відповідність між назвою об'єкта і його умовним позначенням на плані місцевості, топографічній карті:

- 1. Вітряк.
- 2. Пасіка.
- 3. Будинок лісника.
- 4. Метеостанція.

	А	Б	В	Г	Д
1					
2					
3					
4					



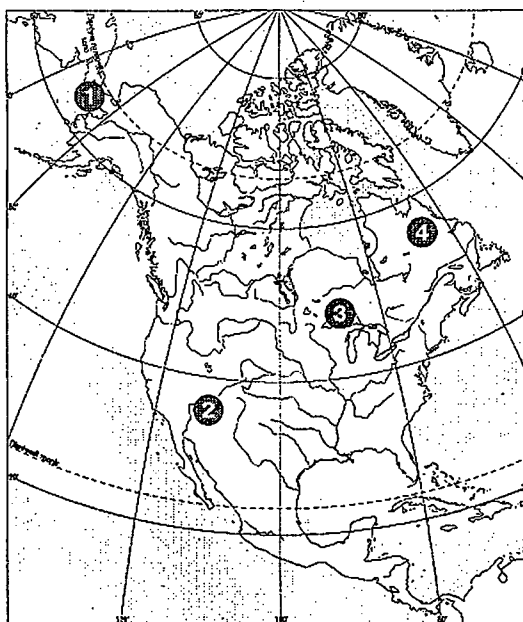
44. Визначте відповідність між центрами лісової промисловості та їхньою спеціалізацією:

- 1. Жидачів.
 - 2. Запоріжжя.
 - 3. Корюківка.
 - 4. Надвірна.
- А. Виробництво технічного паперу.
 - Б. Виробництво деревостружкових плит.
 - В. Виробництво целюлози.
 - Г. Гідролізне виробництво.
 - Д. Лісохімічне виробництво.

	А	Б	В	Г	Д
1					
2					
3					
4					

45. Знайдіть відповідність між об'єктами, позначеними на карті Північної Америки, та назвами цих об'єктів:

- А. Озеро Верхнє.
- Б. Великий Каньйон.
- В. Півострів Лабрадор.
- Г. Мис Принца Уельського.
- Д. Аппалачі.



	А	Б	В	Г	Д
1					
2					
3					
4					

46. Встановіть відповідність між вугільними басейнами і країнами:

- 1. Рурський.
 - 2. Фушунський.
 - 3. Сілезький.
 - 4. Аппалацький.
- А. США.
 - Б. Канада.
 - В. Німеччина.
 - Г. Польща.
 - Д. Китай.

	А	Б	В	Г	Д
1					
2					
3					
4					

47. Установіть відповідність між материками та їхніми найвищими гірськими вершинами:

- | | |
|----------------------|------------------|
| 1. Північна Америка. | А. Косцюшко. |
| 2. Південна Америка. | Б. Кіліманджаро. |
| 3. Австралія. | В. Мак-Кінлі. |
| 4. Африка. | Г. Аконкагуа. |
| | Д. Мітчелл. |

	А	Б	В	Г	Д
1					
2					
3					
4					

48. Установіть відповідність між типами країн за структурою господарства і країнами:

- | | |
|---------------------------|---------------|
| 1. Аграрні. | А. Україна. |
| 2. Індустріальні. | Б. Німеччина. |
| 3. Індустріально-аграрні. | В. Сомалі. |
| 4. Постіндустріальні. | Г. Ватикан. |
| | Д. Сингапур. |

	А	Б	В	Г	Д
1					
2					
3					
4					

49. Оберіть з переліку мов ті, що посідають перші три місця за кількістю людей, які ними спілкуються:

- | | |
|----------------|---------------|
| 1. Російська. | 5. Китайська. |
| 2. Французька. | 6. Японська. |
| 3. Англійська. | 7. Іспанська. |
| 4. Арабська. | |

--	--	--

50. Оберіть з переліку три держави з незначним порівняно з іншими країнами показником земельних ресурсів на душу населення:

- | | |
|-------------|---------------|
| 1. Україна. | 5. Індонезія. |
| 2. Єгипет. | 6. США. |
| 3. Росія. | 7. Бразилія. |
| 4. Китай. | |

--	--	--

51. Назвіть головні причини формування океанічних течій:

- | | |
|--|-----------------------------------|
| 1. Дія вітру на водну поверхню. | 4. Хвилі. |
| 2. Річковий стік. | 5. Дія припливоутворювальних сил. |
| 3. Вирівнювання водної поверхні під дією сили тяжіння. | 6. Судноплавство. |
| | 7. Наявність океанічних проток. |

--	--	--

52. Оберіть об'єкти, за якими слід орієнтуватися на місцевості вночі за умов хмарної погоди:

- | | |
|-----------------------|-----------------|
| 1. перевали. | 5. Канали. |
| 2. Освітлені будівлі. | 6. Місяць. |
| 3. Сонце. | 7. Зоряне небо. |
| 4. Лінії зв'язку. | |

--	--	--

53. Вкажіть причини дуже низької температури взимку на Північному Сході Азії:

- Застій дуже холодного повітря в улоговинах.
- Чергування гірських хребтів і міжгірних улоговин.
- Інверсія температури.
- Панування арктичних повітряних мас.
- Віддаленість від океану.
- Переважає циклональної погоди.
- Рівнинний рельєф.

--	--	--

54. Зазначте три області України, у яких кількість сільського населення більша, ніж міського:

- | | |
|------------------|----------------------|
| 1. Луганська. | 5. Дніпропетровська. |
| 2. Вінницька. | 6. Рівненська. |
| 3. Київська. | 7. Донецька. |
| 4. Закарпатська. | |

--	--	--

55. Обчисліть, на скільки годин потрібно перевести годинник при перельоті з Києва до Лондона.

--	--	--	--	--

56. Скільки метрів в 1 см за масштабом карти, якщо вулиця завдовжки 2 км зображена на ній лінією 8 см?

--	--	--	--	--

A

Увага!
Цей бланк перевіряє комп'ютер! Ваші відповіді в бланку є результатом Вашої роботи.

Географія

1 2 3 4 5 6 7 8 9 10 11 12 13 14 15

Позначте номер Вашого зошита так:

Правильну відповідь у завданнях позначаєте тільки так:

Неправильну відповідь можна виправити, замалювавши попередню позначку та поставивши нову:

А Б В Г

А Б В Г 1 <input type="checkbox"/> <input type="checkbox"/> <input type="checkbox"/> <input type="checkbox"/>	А Б В Г 8 <input type="checkbox"/> <input type="checkbox"/> <input type="checkbox"/> <input type="checkbox"/>	А Б В Г 15 <input type="checkbox"/> <input type="checkbox"/> <input type="checkbox"/> <input type="checkbox"/>	А Б В Г 22 <input type="checkbox"/> <input type="checkbox"/> <input type="checkbox"/> <input type="checkbox"/>	А Б В Г 29 <input type="checkbox"/> <input type="checkbox"/> <input type="checkbox"/> <input type="checkbox"/>	А Б В Г 36 <input type="checkbox"/> <input type="checkbox"/> <input type="checkbox"/> <input type="checkbox"/>
2 <input type="checkbox"/> <input type="checkbox"/> <input type="checkbox"/> <input type="checkbox"/>	9 <input type="checkbox"/> <input type="checkbox"/> <input type="checkbox"/> <input type="checkbox"/>	16 <input type="checkbox"/> <input type="checkbox"/> <input type="checkbox"/> <input type="checkbox"/>	23 <input type="checkbox"/> <input type="checkbox"/> <input type="checkbox"/> <input type="checkbox"/>	30 <input type="checkbox"/> <input type="checkbox"/> <input type="checkbox"/> <input type="checkbox"/>	37 <input type="checkbox"/> <input type="checkbox"/> <input type="checkbox"/> <input type="checkbox"/>
3 <input type="checkbox"/> <input type="checkbox"/> <input type="checkbox"/> <input type="checkbox"/>	10 <input type="checkbox"/> <input type="checkbox"/> <input type="checkbox"/> <input type="checkbox"/>	17 <input type="checkbox"/> <input type="checkbox"/> <input type="checkbox"/> <input type="checkbox"/>	24 <input type="checkbox"/> <input type="checkbox"/> <input type="checkbox"/> <input type="checkbox"/>	31 <input type="checkbox"/> <input type="checkbox"/> <input type="checkbox"/> <input type="checkbox"/>	38 <input type="checkbox"/> <input type="checkbox"/> <input type="checkbox"/> <input type="checkbox"/>
4 <input type="checkbox"/> <input type="checkbox"/> <input type="checkbox"/> <input type="checkbox"/>	11 <input type="checkbox"/> <input type="checkbox"/> <input type="checkbox"/> <input type="checkbox"/>	18 <input type="checkbox"/> <input type="checkbox"/> <input type="checkbox"/> <input type="checkbox"/>	25 <input type="checkbox"/> <input type="checkbox"/> <input type="checkbox"/> <input type="checkbox"/>	32 <input type="checkbox"/> <input type="checkbox"/> <input type="checkbox"/> <input type="checkbox"/>	39 <input type="checkbox"/> <input type="checkbox"/> <input type="checkbox"/> <input type="checkbox"/>
5 <input type="checkbox"/> <input type="checkbox"/> <input type="checkbox"/> <input type="checkbox"/>	12 <input type="checkbox"/> <input type="checkbox"/> <input type="checkbox"/> <input type="checkbox"/>	19 <input type="checkbox"/> <input type="checkbox"/> <input type="checkbox"/> <input type="checkbox"/>	26 <input type="checkbox"/> <input type="checkbox"/> <input type="checkbox"/> <input type="checkbox"/>	33 <input type="checkbox"/> <input type="checkbox"/> <input type="checkbox"/> <input type="checkbox"/>	40 <input type="checkbox"/> <input type="checkbox"/> <input type="checkbox"/> <input type="checkbox"/>
6 <input type="checkbox"/> <input type="checkbox"/> <input type="checkbox"/> <input type="checkbox"/>	13 <input type="checkbox"/> <input type="checkbox"/> <input type="checkbox"/> <input type="checkbox"/>	20 <input type="checkbox"/> <input type="checkbox"/> <input type="checkbox"/> <input type="checkbox"/>	27 <input type="checkbox"/> <input type="checkbox"/> <input type="checkbox"/> <input type="checkbox"/>	34 <input type="checkbox"/> <input type="checkbox"/> <input type="checkbox"/> <input type="checkbox"/>	41 <input type="checkbox"/> <input type="checkbox"/> <input type="checkbox"/> <input type="checkbox"/>
7 <input type="checkbox"/> <input type="checkbox"/> <input type="checkbox"/> <input type="checkbox"/>	14 <input type="checkbox"/> <input type="checkbox"/> <input type="checkbox"/> <input type="checkbox"/>	21 <input type="checkbox"/> <input type="checkbox"/> <input type="checkbox"/> <input type="checkbox"/>	28 <input type="checkbox"/> <input type="checkbox"/> <input type="checkbox"/> <input type="checkbox"/>	35 <input type="checkbox"/> <input type="checkbox"/> <input type="checkbox"/> <input type="checkbox"/>	42 <input type="checkbox"/> <input type="checkbox"/> <input type="checkbox"/> <input type="checkbox"/>

А Б В Г Д 43 1 <input type="checkbox"/> <input type="checkbox"/> <input type="checkbox"/> <input type="checkbox"/> <input type="checkbox"/>	А Б В Г Д 44 1 <input type="checkbox"/> <input type="checkbox"/> <input type="checkbox"/> <input type="checkbox"/> <input type="checkbox"/>	А Б В Г Д 45 1 <input type="checkbox"/> <input type="checkbox"/> <input type="checkbox"/> <input type="checkbox"/> <input type="checkbox"/>	А Б В Г Д 46 1 <input type="checkbox"/> <input type="checkbox"/> <input type="checkbox"/> <input type="checkbox"/> <input type="checkbox"/>
2 <input type="checkbox"/> <input type="checkbox"/> <input type="checkbox"/> <input type="checkbox"/> <input type="checkbox"/>	2 <input type="checkbox"/> <input type="checkbox"/> <input type="checkbox"/> <input type="checkbox"/> <input type="checkbox"/>	2 <input type="checkbox"/> <input type="checkbox"/> <input type="checkbox"/> <input type="checkbox"/> <input type="checkbox"/>	2 <input type="checkbox"/> <input type="checkbox"/> <input type="checkbox"/> <input type="checkbox"/> <input type="checkbox"/>
3 <input type="checkbox"/> <input type="checkbox"/> <input type="checkbox"/> <input type="checkbox"/> <input type="checkbox"/>	3 <input type="checkbox"/> <input type="checkbox"/> <input type="checkbox"/> <input type="checkbox"/> <input type="checkbox"/>	3 <input type="checkbox"/> <input type="checkbox"/> <input type="checkbox"/> <input type="checkbox"/> <input type="checkbox"/>	3 <input type="checkbox"/> <input type="checkbox"/> <input type="checkbox"/> <input type="checkbox"/> <input type="checkbox"/>
4 <input type="checkbox"/> <input type="checkbox"/> <input type="checkbox"/> <input type="checkbox"/> <input type="checkbox"/>	4 <input type="checkbox"/> <input type="checkbox"/> <input type="checkbox"/> <input type="checkbox"/> <input type="checkbox"/>	4 <input type="checkbox"/> <input type="checkbox"/> <input type="checkbox"/> <input type="checkbox"/> <input type="checkbox"/>	4 <input type="checkbox"/> <input type="checkbox"/> <input type="checkbox"/> <input type="checkbox"/> <input type="checkbox"/>

А Б В Г Д 47 1 <input type="checkbox"/> <input type="checkbox"/> <input type="checkbox"/> <input type="checkbox"/> <input type="checkbox"/>	А Б В Г Д 48 1 <input type="checkbox"/> <input type="checkbox"/> <input type="checkbox"/> <input type="checkbox"/> <input type="checkbox"/>
2 <input type="checkbox"/> <input type="checkbox"/> <input type="checkbox"/> <input type="checkbox"/> <input type="checkbox"/>	2 <input type="checkbox"/> <input type="checkbox"/> <input type="checkbox"/> <input type="checkbox"/> <input type="checkbox"/>
3 <input type="checkbox"/> <input type="checkbox"/> <input type="checkbox"/> <input type="checkbox"/> <input type="checkbox"/>	3 <input type="checkbox"/> <input type="checkbox"/> <input type="checkbox"/> <input type="checkbox"/> <input type="checkbox"/>
4 <input type="checkbox"/> <input type="checkbox"/> <input type="checkbox"/> <input type="checkbox"/> <input type="checkbox"/>	4 <input type="checkbox"/> <input type="checkbox"/> <input type="checkbox"/> <input type="checkbox"/> <input type="checkbox"/>

Приклад написання цифр для заповнення бланка відповідей:

Увага! Кожна записана цифра не має виходити за межі білого прямокутника

49 50 51 52 53 54

Приклад написання чисел у завданнях 49–56: число 1: число 17: число 123:

55 56

Місце для виправлення помилкової відповіді
до завдань 49–56

Запишіть новий варіант відповіді праворуч відповідного номера завдання

49 50 51 52 53 54
55 56

ВАРІАНТ 8

1. Як називається наука, яка вивчає особливості рельєфу?

- А. Кліматологія.
- Б. Метеорологія.
- В. Гідрологія.
- Г. Геоморфологія.

А	Б	В	Г
<input type="checkbox"/>	<input type="checkbox"/>	<input type="checkbox"/>	<input type="checkbox"/>

2. Зазначте дату створення Міжнародного географічного союзу:

- А. 1875 р.
- Б. 1871 р.
- В. 1922 р.
- Г. 1991 р.

А	Б	В	Г
<input type="checkbox"/>	<input type="checkbox"/>	<input type="checkbox"/>	<input type="checkbox"/>

3. Яка з перелічених гірських порід за походженням є магматичною?

- А. Глина.
- Б. Граніт.
- В. Мармур.
- Г. Мергель.

А	Б	В	Г
<input type="checkbox"/>	<input type="checkbox"/>	<input type="checkbox"/>	<input type="checkbox"/>

4. На якій паралелі Сонце буває в zenіті 22 червня?

- А. Північне полярне коло.
- Б. Екватор.
- В. Північний тропік.
- Г. Південний тропік.

А	Б	В	Г
<input type="checkbox"/>	<input type="checkbox"/>	<input type="checkbox"/>	<input type="checkbox"/>

5. Укажіть інтервал вимірювання географічної довготи:

- А. 0°–180°.
- Б. 0°–360°.
- В. 0°–90°.
- Г. 0°–270°.

А	Б	В	Г
<input type="checkbox"/>	<input type="checkbox"/>	<input type="checkbox"/>	<input type="checkbox"/>

6. Оберіть прилад, який використовують для визначення напрямку і швидкості вітру:

- А. Флюгер.
- Б. Барометр.
- В. Термограф.
- Г. Гігрограф.

А	Б	В	Г
<input type="checkbox"/>	<input type="checkbox"/>	<input type="checkbox"/>	<input type="checkbox"/>

7. Зазначте наслідки проходження холодного атмосферного фронту над територією України:

- А. Обложні опади, потепління.
- Б. Зливові опади, похолодання.
- В. Зменшення сили вітру.
- Г. Переважання перистих хмар.

А	Б	В	Г
<input type="checkbox"/>	<input type="checkbox"/>	<input type="checkbox"/>	<input type="checkbox"/>

8. Які опади випадають безпосередньо з повітря?

- А. Дощ.
- Б. Сніг.
- В. Іній.
- Г. Град.

А	Б	В	Г
<input type="checkbox"/>	<input type="checkbox"/>	<input type="checkbox"/>	<input type="checkbox"/>

9. Вкажіть закономірність поширення природних зон на Землі:

- А. Змінюються лише з висотою.
- Б. Змінюються від екватора до полюсів.
- В. Змінюються на захід і схід від нульового меридіана.
- Г. Мають лише локальне поширення.

А	Б	В	Г
<input type="checkbox"/>	<input type="checkbox"/>	<input type="checkbox"/>	<input type="checkbox"/>

10. Вкажіть планетарні форми Землі:

- А. Тайга, савани і рідколісся.
- Б. Материк Африка, Тихий океан.
- В. Гори Карпати та Альпи.
- Г. Східноєвропейська і Велика Китайська рівнини.

А	Б	В	Г
<input type="checkbox"/>	<input type="checkbox"/>	<input type="checkbox"/>	<input type="checkbox"/>

11. Вкажіть тварин, які мешкають в Антарктиці:

- А. Морські котики, білі ведмеді.
- Б. Ківі, моржі.
- В. Бурі ведмеді, гаги.
- Г. Морські леопарди, морські слони.

А Б В Г

--	--	--	--

12. Назвіть річку Північної Америки, на якій розташований найбільший каньйон світу:

- А. Маккензі.
- Б. Колумбія.
- В. Колорадо.
- Г. Міссісіпі.

А Б В Г

--	--	--	--

13. Вкажіть причину подібності клімату в північній та південній частині Африки:

- А. Океанічні течії.
- Б. Великий кут падіння сонячних променів.
- В. Розташування переважно в Східній півкулі.
- Г. Розміщення майже симетрично до лінії екватора.

А Б В Г

--	--	--	--

14. Вкажіть причину розташування зони лісостепу і степу Євразії у внутрішніх районах материка:

- А. Переважання низовин.
- Б. Поширення чорноземів.
- В. Континентальність клімату.
- Г. Господарська діяльність людини.

А Б В Г

--	--	--	--

15. Зазначте, яка частина Тихого океану найбільше зазнає впливу материка:

- А. Західна.
- Б. Східна.
- В. Північна.
- Г. Південна.

А Б В Г

--	--	--	--

16. Вкажіть океан, у якому сформувалося найбільше вулканічних островів:

- А. Тихий.
- Б. Атлантичний.
- В. Індійський.
- Г. Північний Льодовитий.

А Б В Г

--	--	--	--

17. Вкажіть океан, який має найстрімкіший материковий схил:

- А. Тихий.
- Б. Атлантичний.
- В. Індійський.
- Г. Північний Льодовитий.

А Б В Г

--	--	--	--

18. Вкажіть географічний пояс, у межах якого розміщена крайня південна частина України:

- А. Помірний.
- Б. Субтропічний.
- В. Тропічний.
- Г. Субарктичний.

А Б В Г

--	--	--	--

19. Оберіть найдавнішу тектонічну структуру в межах території України:

- А. Український кристалічний щит.
- Б. Львівсько-Волинська плита.
- В. Причорноморська западина.
- Г. Дніпровсько-Донецька западина.

А Б В Г

--	--	--	--

20. Обчисліть, користуючись таблицею, коефіцієнт зволоження в столиці України:

Пункт	Сум. рад. ккал/см ²	Річна кількість опадів, мм	Випаровуваність
Київ	110	650	610

- А. 1,5.
- Б. 0,9.
- В. 1,1.
- Г. 0,2.

А Б В Г

--	--	--	--

21. Визначте за описом назву явища, яке буває на півдні України:

«Сильний атмосферний вихор, що виникає під купчасто-дощовою хмарою; втягує предмети та піднімає їх у повітря, переносячи їх іноді на значні відстані».

- А. Шквал.
- Б. Тайфун.
- В. Ураган.
- Г. Смерч.

А Б В Г

--	--	--	--

22. Зазначте негативні наслідки осушення боліт на півночі України:

- А. Збільшення кількості опадів.
- Б. Почастішали посухи, знизився рівень ґрунтових вод.
- В. Вторинне засолення ґрунтів.
- Г. Збільшення сільськогосподарських угідь.

А Б В Г

--	--	--	--

23. Позначте природний комплекс України, у якому переважають лісові ландшафти:

- А. Кримські гори.
- Б. Українські Карпати.
- В. Степ.
- Г. Лісостеп.

А Б В Г

--	--	--	--

24. Оберіть природний тип рослинності, що місцями зберігся в лісостеповій зоні України:

- А. Хвойні ліси.
- Б. Високогірні луки.
- В. Лучні степи.
- Г. Вічнозелені твердолисті ліси і чагарники.

А Б В Г

--	--	--	--

25. Укажіть серед перелічених міст України місто-мільйонер за кількістю населення:

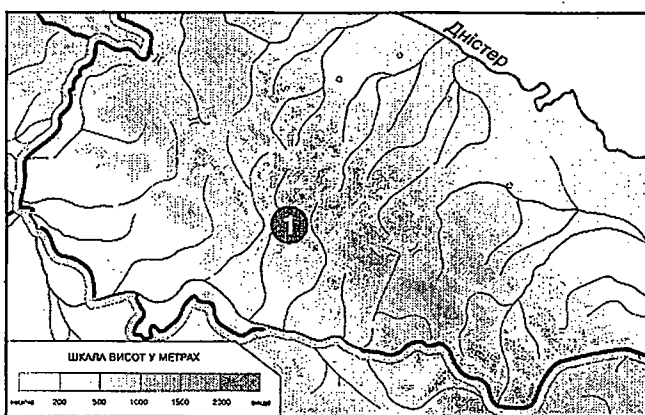
- А. Ужгород.
- Б. Харків.
- В. Запоріжжя.
- Г. Львів.

А Б В Г

--	--	--	--

26. Визначте природну область Українських Карпат, що позначена на карті цифрою:

- А. Передкарпаття.
- Б. Зовнішні Карпати.
- В. Вододільно-Верховинські Карпати.
- Г. Закарпатська низовина.



А Б В Г

--	--	--	--

27. Визначте галузь промисловості, підприємства якої розміщені по всій території України і яка використовує переважно сільськогосподарську сировину:

- А. Легка.
- Б. Хімічна.
- В. Харчова.
- Г. Лісова.

А Б В Г

--	--	--	--

28. Зазначте найбільший промисловий центр Карпатського економічного району:

- А. Чернівці.
- Б. Тернопіль.
- В. Ужгород.
- Г. Львів.

А Б В Г

--	--	--	--

29. Зазначте одну з основних причин депресивного розвитку сільського господарства України в останні десятиліття:

- А. Відсутність попиту на сільськогосподарську продукцію.
- Б. Низький технічний рівень сільськогосподарського виробництва.
- В. Дефіцит сільськогосподарських угідь.
- Г. Низька природна родючість ґрунтів.

А Б В Г

--	--	--	--

30. Оберіть місто України, у якому розташований найкоротший у світі метрополітен завдовжки 7,8 км:

- А. Дніпропетровськ.
- Б. Донецьк.
- В. Харків.
- Г. Київ.

А Б В Г

--	--	--	--

31. Зазначте галузі промисловості, які розвиваються в Донецькому та Придніпровському економічних районах на основі тісних ресурсних і виробничих зв'язків:

- А. Машинобудування, легка промисловість.
- Б. Харчова й легка галузі промисловості.
- В. Лісозаготівля і деревообробка.
- Г. Чорна металургія і хімічна промисловість.

А Б В Г

--	--	--	--

32. Вкажіть спеціальну міжнародну організацію світу, сферою діяльності якої є збір, вивчення і поширення інформації з питань продовольства, харчування, сільського господарства світу:

- А. НАТО.
- Б. ФАО.
- В. СОТ.
- Г. ЮНЕСКО.

А Б В Г

--	--	--	--

33. Вкажіть, у яких державах титульна нація становить 90 % їхнього населення:

- А. США, Росія.
- Б. Україна, Аргентина.
- В. Канада, Бразилія.
- Г. Японія, Польща.

А Б В Г

--	--	--	--

34. Оберіть країну, в управлінні якої поєднується релігійний режим з президентською владою:

- А. ОАЕ.
- Б. Саудівська Аравія.
- В. Іран.
- Г. Китай.

А Б В Г

--	--	--	--

35. Зазначте материк, який лідирує за світовими ресурсами нафти і газу:

- А. Євразія.
- Б. Африка.
- В. Північна Америка.
- Г. Австралія.

А Б В Г

--	--	--	--

36. Оберіть країни, на які припадає майже 30 % світового експорту бокситів:

- А. Болівія, Чилі, Венесуела, Аргентина.
- Б. Австралія, Індія, Індонезія, Японія.
- В. США, Франція, Україна, Росія.
- Г. Бразилія, Ямайка, Суринам, Гаїана.

А Б В Г

--	--	--	--

37. Вкажіть країну, яка є лідером у своєму регіоні за видобутком та експортом мідної руди:

- А. Бразилія.
- Б. Чилі.

А	Б	В	Г
<input type="checkbox"/>	<input type="checkbox"/>	<input type="checkbox"/>	<input type="checkbox"/>

- В. Болівія.
- Г. Мексика.

38. Оберіть галузь матеріального виробництва, яка забезпечує країнам ЄС глобальну конкуренцію:

А	Б	В	Г
<input type="checkbox"/>	<input type="checkbox"/>	<input type="checkbox"/>	<input type="checkbox"/>

- А. Добувна.
- Б. Паливна.
- В. Зернове господарство.
- Г. Автомобілебудування.

39. Оберіть групу країн, які займають більше половини площі суходолу і в яких проживає більше половини населення світу:

А	Б	В	Г
<input type="checkbox"/>	<input type="checkbox"/>	<input type="checkbox"/>	<input type="checkbox"/>

- А. Найбільш економічно розвинуті країни.
- Б. Країни, що розвиваються.
- В. Колонії.
- Г. Країни перехідного типу економіки.

40. Вкажіть країну, яка є лідером за експортом ліцензій:

А	Б	В	Г
<input type="checkbox"/>	<input type="checkbox"/>	<input type="checkbox"/>	<input type="checkbox"/>

- А. США.
- Б. Японія.
- В. Росія.
- Г. Німеччина.

41. Визначте країну за наведеним нижче описом:

Назва цієї країни перекладається як «срібло», хоча срібла тут ніколи не було, а найбільшим її багатством є природні пасовища і родючі ґрунти. Ця країна є аграрно-індустріальною, вирізняється численною українською діаспорою. На її території розташована найвища вершина одного з південних материків Землі.

А	Б	В	Г
<input type="checkbox"/>	<input type="checkbox"/>	<input type="checkbox"/>	<input type="checkbox"/>

- А. Австралія.
- Б. Чилі.
- В. Аргентина.
- Г. Південна Африка.

42. Визначте країну за наведеним нижче описом:

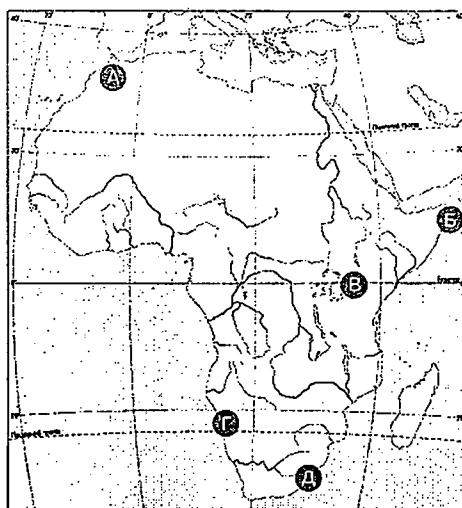
Країна має найбільшу площу у світі. Є федеративною республікою і багатонаціональною державою. Володіє значними природними ресурсами, що робить її конкурентоспроможною на світовому ринку. Країна є великим експортером паливно-енергетичних ресурсів.

А	Б	В	Г
<input type="checkbox"/>	<input type="checkbox"/>	<input type="checkbox"/>	<input type="checkbox"/>

- А. Австралія.
- Б. Китай.
- В. Канада.
- Г. Росія.

43. Знайдіть відповідність між назвами об'єктів та їхніми позначеннями на карті Африки:

1. Озеро Вікторія.
2. Мис Рас-Гафун.
3. Пустеля Наміб.
4. Драконові гори.



	А	Б	В	Г	Д
1	<input type="checkbox"/>	<input type="checkbox"/>	<input type="checkbox"/>	<input type="checkbox"/>	<input type="checkbox"/>
2	<input type="checkbox"/>	<input type="checkbox"/>	<input type="checkbox"/>	<input type="checkbox"/>	<input type="checkbox"/>
3	<input type="checkbox"/>	<input type="checkbox"/>	<input type="checkbox"/>	<input type="checkbox"/>	<input type="checkbox"/>
4	<input type="checkbox"/>	<input type="checkbox"/>	<input type="checkbox"/>	<input type="checkbox"/>	<input type="checkbox"/>

44. Встановіть відповідність між гірськими системами і висотними поясами, які в них переважають:

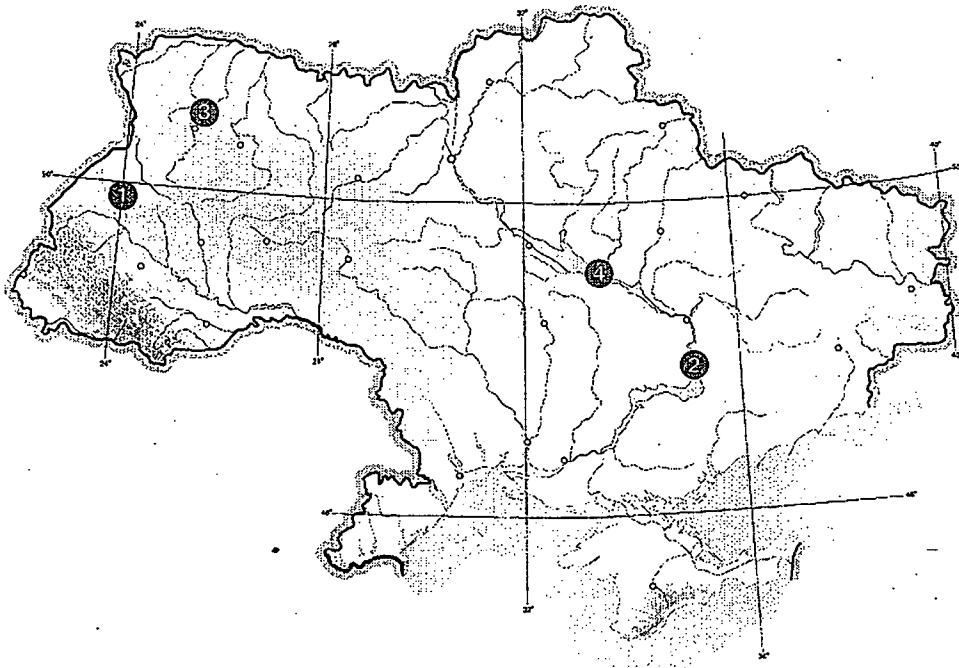
1. Скандинавські гори.
 2. Карпати.
 3. Тянь-Шань.
 4. Атлаські гори.
- А. Пустельно-степовий.
 Б. Рідколісно-степовий.
 В. Лісотундровий.
 Г. Лісостеповий.
 Д. Лісо-альпійсько-луковий.

	А	Б	В	Г	Д
1					
2					
3					
4					

45. Знайдіть відповідність між пунктами України, позначеними на карті, і виробництвом продукції машинобудування:

- А. Виробництво мікроавтобусів.
 Б. Виробництво вантажних автомобілів.
 В. Виробництво автобусів.
 Г. Виробництво тепловозів.
 Д. Виробництво трансформаторів.

	А	Б	В	Г	Д
1					
2					
3					
4					



46. Встановіть відповідність між продукцією сільського господарства і країнами, що спеціалізуються на її виробництві:

- | | |
|--------------------|--------------|
| 1. Джут. | А. Бразилія. |
| 2. Льон-довгунець. | Б. Росія. |
| 3. Кава. | В. США. |
| 4. Кукурудза. | Г. Франція. |
| | Д. Індія. |

	А	Б	В	Г	Д
1					
2					
3					
4					

47. Установіть відповідність між прізвищами мандрівників і дослідників та їхніми відкриттями:

- | | |
|----------------------------------|---|
| 1. Ф. Белінсгаузен і М. Лазарев. | А. Відкриття Антарктиди. |
| 2. Фернан Магеллан. | Б. Відкриття Австралії. |
| 3. Роберт Пірі. | В. Відкриття Америки. |
| 4. Христофор Колумб. | Г. Підкорення Північного полюса. |
| | Д. Відкриття протоки між Південною Америкою та архіпелагом Вогняна Земля. |

	А	Б	В	Г	Д
1					
2					
3					
4					

48. Установіть відповідність між корисними копалинами та їхніми родовищами в Україні:

- | | |
|-------------------|---------------------|
| 1. Природний газ. | А. Бовтиське. |
| 2. Вугілля. | Б. Прилуцьке. |
| 3. Горючі сланці. | В. Великотокмацьке. |
| 4. Нафта. | Г. Шебелинське. |
| | Д. Ватутіне. |

	А	Б	В	Г	Д
1					
2					
3					
4					

49. Оберіть низовини, що складені наносами річок і є вторинними за утворенням:

- | | |
|---------------------|---------------------|
| 1. Амазонська. | 5. Поліська. |
| 2. Прикаспійська. | 6. Примексиканська. |
| 3. Причорноморська. | 7. Ла-Платська. |
| 4. Месопотамська. | |

--	--	--

50. Оберіть з перелічених електростанцій теплові:

- | | |
|------------------------|------------------|
| 1. Канівська. | 5. Кременчуцька. |
| 2. Південноукраїнська. | 6. Хмельницька. |
| 3. Вуглегірська. | 7. Трипільська. |
| 4. Бурштинська. | |

--	--	--

51. Вкажіть метаморфічні гірські породи:

- | | |
|----------------|-------------|
| 1. Лабрадорит. | 5. Гнейс. |
| 2. Глина. | 6. Кварцит. |
| 3. Мармур. | 7. Граніт. |
| 4. Вапняк. | |

--	--	--

52. Зазначте причини утворення льодовиків в Екваторіальній Африці:

- Незначна кількість сонячного випромінювання.
- Експозиція схилів.
- Висота гір вища за висоту снігової лінії.
- Велика кількість опадів.
- Наявність невисоких гір.
- Переважає накопичення опадів над їх випаровуванням.
- Переважає від'ємних температур повітря протягом року.

--	--	--

53. Оберіть столиці держав Європи, що мають спільні кордони з Україною:

- | | |
|----------------|-------------|
| 1. Варшава | 5. Софія. |
| 2. Братислава. | 6. Москва. |
| 3. Прага. | 7. Тбілісі. |
| 4. Берлін. | |

--	--	--

54. Визначте наслідки глобальної діяльності транснаціональних компаній:

- Удосконалення внутрішньої структури господарства.
- Удосконалення технологій виробництва.
- Збільшення прибутків розвинутих країн.
- Зменшення прибутків розвинутих країн.
- Розвиток інфраструктури.
- Розширення міжнародних економічних зв'язків.
- Збільшення частки галузей добувної промисловості у структурі господарства.

--	--	--

55. Обчисліть відносну висоту між найвищою гірською і найвищою рівнинною (г. Берда, 515 м) точками України.

--	--	--	--	--

56. Розрахуйте, скільки населення України (у млн осіб) зайнято у торгівлі та сфері послуг, якщо загальна кількість зайнятих становить 21 млн осіб, а частка зайнятих у названих галузях дорівнює 23,81 %.

--	--	--	--	--

A

Увага!

Цей бланк перевіряє комп'ютер! Ваші відповіді в бланку є результатом Вашої роботи.

Географія

1 2 3 4 5 6 7 8 9 10 11 12 13 14 15

Позначте номер Вашого зошита так:

Правильну відповідь у завданнях позначаєте тільки так:

Неправильну відповідь можна виправити, замалювавши попередню позначку та поставивши нову:

А Б В Г

1 <input type="checkbox"/>	2 <input type="checkbox"/>	3 <input type="checkbox"/>	4 <input type="checkbox"/>	5 <input type="checkbox"/>	6 <input type="checkbox"/>	7 <input type="checkbox"/>	8 <input type="checkbox"/>	9 <input type="checkbox"/>	10 <input type="checkbox"/>	11 <input type="checkbox"/>	12 <input type="checkbox"/>	13 <input type="checkbox"/>	14 <input type="checkbox"/>	15 <input type="checkbox"/>	16 <input type="checkbox"/>	17 <input type="checkbox"/>	18 <input type="checkbox"/>	19 <input type="checkbox"/>	20 <input type="checkbox"/>	21 <input type="checkbox"/>	22 <input type="checkbox"/>	23 <input type="checkbox"/>	24 <input type="checkbox"/>	25 <input type="checkbox"/>	26 <input type="checkbox"/>	27 <input type="checkbox"/>	28 <input type="checkbox"/>	29 <input type="checkbox"/>	30 <input type="checkbox"/>	31 <input type="checkbox"/>	32 <input type="checkbox"/>	33 <input type="checkbox"/>	34 <input type="checkbox"/>	35 <input type="checkbox"/>	36 <input type="checkbox"/>	37 <input type="checkbox"/>	38 <input type="checkbox"/>	39 <input type="checkbox"/>	40 <input type="checkbox"/>	41 <input type="checkbox"/>	42 <input type="checkbox"/>
----------------------------	----------------------------	----------------------------	----------------------------	----------------------------	----------------------------	----------------------------	----------------------------	----------------------------	-----------------------------	-----------------------------	-----------------------------	-----------------------------	-----------------------------	-----------------------------	-----------------------------	-----------------------------	-----------------------------	-----------------------------	-----------------------------	-----------------------------	-----------------------------	-----------------------------	-----------------------------	-----------------------------	-----------------------------	-----------------------------	-----------------------------	-----------------------------	-----------------------------	-----------------------------	-----------------------------	-----------------------------	-----------------------------	-----------------------------	-----------------------------	-----------------------------	-----------------------------	-----------------------------	-----------------------------	-----------------------------	-----------------------------

43 1 <input type="checkbox"/>	44 1 <input type="checkbox"/>	45 1 <input type="checkbox"/>	46 1 <input type="checkbox"/>
2 <input type="checkbox"/>	2 <input type="checkbox"/>	2 <input type="checkbox"/>	2 <input type="checkbox"/>
3 <input type="checkbox"/>	3 <input type="checkbox"/>	3 <input type="checkbox"/>	3 <input type="checkbox"/>
4 <input type="checkbox"/>	4 <input type="checkbox"/>	4 <input type="checkbox"/>	4 <input type="checkbox"/>

47 1 <input type="checkbox"/>	48 1 <input type="checkbox"/>
2 <input type="checkbox"/>	2 <input type="checkbox"/>
3 <input type="checkbox"/>	3 <input type="checkbox"/>
4 <input type="checkbox"/>	4 <input type="checkbox"/>

Приклад написання цифр для заповнення бланка відповідей: 1 2 3 4 5 6 7 8 9 0

Увага! Кожна записана цифра не має виходити за межі білого прямокутника

49 50 51 52 53 54

Приклад написання чисел у завданнях 49-56: число 1 1 число 17 17 число 123 123

55 56

Місце для виправлення помилкової відповіді до завдань 49-56

Запишіть новий варіант відповіді праворуч відповідного номера завдання

49 50 51 52 53 54
 55 56

ВАРІАНТ 9

1. Назвіть науку, яка вивчає поширення живих організмів на Землі:

- А. Демографія.
- Б. Соціальна географія.
- В. Біогеографія.
- Г. Геоморфологія.

А	Б	В	Г
<input type="checkbox"/>	<input type="checkbox"/>	<input type="checkbox"/>	<input type="checkbox"/>

2. Оберіть з переліку карт тематичну карту:

- А. Фізична карта України.
- Б. Карта півкуль.
- В. Кліматична карта світу.
- Г. Фізична карта Африки.

А	Б	В	Г
<input type="checkbox"/>	<input type="checkbox"/>	<input type="checkbox"/>	<input type="checkbox"/>

3. Вкажіть форму рельєфу, яка є залишком герцинської складчастості у межах України:

- А. Плато.
- Б. Хребет.
- В. Низовина.
- Г. Кряж.

А	Б	В	Г
<input type="checkbox"/>	<input type="checkbox"/>	<input type="checkbox"/>	<input type="checkbox"/>

4. Вкажіть, яка астрономічна пора року в Києві 2 червня:

- А. Зима.
- Б. Літо.
- В. Весна.
- Г. Осінь.

А	Б	В	Г
<input type="checkbox"/>	<input type="checkbox"/>	<input type="checkbox"/>	<input type="checkbox"/>

5. Зазначте інтервал вимірювання географічної широти:

- А. 0° – 180° .
- Б. 0° – 360° .
- В. 0° – 90° .
- Г. 0° – 270° .

А	Б	В	Г
<input type="checkbox"/>	<input type="checkbox"/>	<input type="checkbox"/>	<input type="checkbox"/>

6. Виберіть форми рельєфу, утворені поверхневими текучими водами:

- А. Канали, водосховища.
- Б. Печери, лунки.
- В. Цирки, ніші.
- Г. Яри, балки.

А	Б	В	Г
<input type="checkbox"/>	<input type="checkbox"/>	<input type="checkbox"/>	<input type="checkbox"/>

7. Які форми утворюють річки у своєму руслі?

- А. Меандри, острови.
- Б. Тераси, заплави.
- В. Коси, яри.
- Г. Стариці, зсуви.

А	Б	В	Г
<input type="checkbox"/>	<input type="checkbox"/>	<input type="checkbox"/>	<input type="checkbox"/>

8. Вкажіть повітряну масу, яка вирізняється високою температурою, сухістю, а часто й запиленістю:

- А. Екваторіальна.
- Б. Тропічна континентальна.
- В. Помірна континентальна.
- Г. Полярна.

А	Б	В	Г
<input type="checkbox"/>	<input type="checkbox"/>	<input type="checkbox"/>	<input type="checkbox"/>

9. Обчисліть відносну вологість повітря (у відсотках), якщо абсолютна вологість становить 4 г/м^3 , а вологість насичення сягає $17,3 \text{ г/м}^3$.

- А. 7.
- Б. 14.
- В. 16.
- Г. 23.

А	Б	В	Г
<input type="checkbox"/>	<input type="checkbox"/>	<input type="checkbox"/>	<input type="checkbox"/>

10. Зазначте явище, що відбувається в усіх оболонках Землі, проте наочно його можна спостерігати в гідросфері, характеризується добовою ритмікою і зумовлене силами тяжіння Місяця і Сонця:

- А. Океанічні течії.
- Б. Припливи і відпливи.
- В. Циркуляція атмосфери.
- Г. Хвилі.

А	Б	В	Г
<input type="checkbox"/>	<input type="checkbox"/>	<input type="checkbox"/>	<input type="checkbox"/>

11. Назвіть форму рельєфу, яка утворюється в результаті зіткнення літосферних плит:

- А. Гори на суходолі.
- Б. Гайоти.
- В. Серединно-океанічні хребти.
- Г. Підводні рівнини.

А	Б	В	Г
<input type="checkbox"/>	<input type="checkbox"/>	<input type="checkbox"/>	<input type="checkbox"/>

12. Визначте похил річки, якщо її довжина становить 30 км, висота витoku – 220 м, висота гирла – 150 м.

- А. 0,2 м/км.
- Б. 2,3 м/км.
- В. 0,7 м/км.
- Г. 7 м/км.

А	Б	В	Г
<input type="checkbox"/>	<input type="checkbox"/>	<input type="checkbox"/>	<input type="checkbox"/>

13. Зазначте материк, на якому річкова сітка найгустіша:

- А. Євразія.
- Б. Африка.
- В. Північна Америка.
- Г. Південна Америка.

А	Б	В	Г
<input type="checkbox"/>	<input type="checkbox"/>	<input type="checkbox"/>	<input type="checkbox"/>

14. Зазначте океан, у якому існує найбільша кількість островів:

- А. Північний Льодовитий.
- Б. Атлантичний.
- В. Південний.
- Г. Тихий.

А	Б	В	Г
<input type="checkbox"/>	<input type="checkbox"/>	<input type="checkbox"/>	<input type="checkbox"/>

15. Вкажіть течію Індійського океану, яка всупереч існуючим закономірностям є холодною, хоча й рухається від екватора:

- А. Мусонна.
- Б. Сомалійська.
- В. Південна Пасатна.
- Г. Мозамбіцька.

А	Б	В	Г
<input type="checkbox"/>	<input type="checkbox"/>	<input type="checkbox"/>	<input type="checkbox"/>

16. Виберіть причини подекуди дуже низької солоності прибережних вод Північного Льодовитого океану:

- А. Танення криги, стік в океан вод численних річок.
- Б. Притік води з Атлантичного та Тихого океанів.
- В. Наявність широкого шельфу, незначне випаровування.
- Г. Підняття опріснених вод з глибинних шарів.

А	Б	В	Г
<input type="checkbox"/>	<input type="checkbox"/>	<input type="checkbox"/>	<input type="checkbox"/>

17. Оберіть елементи берегової лінії Євразії:

- А. Ваффінова Земля, Алеутські острови, Лабрадор.
- Б. Гренландія, Вогняна Земля, Аляска.
- В. Півострів Вальдес, Фолклендські острови, Малі Антильські острови.
- Г. Піренейський півострів, Малайський архіпелаг, Бенгальська затока.

А	Б	В	Г
<input type="checkbox"/>	<input type="checkbox"/>	<input type="checkbox"/>	<input type="checkbox"/>

18. Назвіть озеро Євразії, яке є найглибшим на Землі:

- А. Бребенескул.
- Б. Женевське.
- В. Байкал.
- Г. Балхаш.

А	Б	В	Г
<input type="checkbox"/>	<input type="checkbox"/>	<input type="checkbox"/>	<input type="checkbox"/>

19. Який вітер спричиняє часті пилові й піщані бурі в африканській Сахарі?

- А. Фен.
- Б. Стоковий.
- В. Самум.
- Г. Памперо.

А	Б	В	Г
<input type="checkbox"/>	<input type="checkbox"/>	<input type="checkbox"/>	<input type="checkbox"/>

20. Зазначте термін, який характеризує сухі долини з крутими схилами тимчасових зливових потоків в Африці та Аравії:

- А. Ваді.
- Б. Крики.

- В. Рифи.
- Г. Каньйони.

А	Б	В	Г
<input type="checkbox"/>	<input type="checkbox"/>	<input type="checkbox"/>	<input type="checkbox"/>

21. Які рослини поширені в зоні саван і рідколісся Австралії?

- А. Баобаби, зонтичні акації.
- Б. Пальми, вічнозелені буки.
- В. Евкالیпти, пляшкове дерево.
- Г. Араукарії, деревоподібні кактуси.

А	Б	В	Г
<input type="checkbox"/>	<input type="checkbox"/>	<input type="checkbox"/>	<input type="checkbox"/>

22. Вкажіть площу України:

- А. 609, 7 тис. км².
- Б. 607, 7 тис. км².
- В. 605, 7 тис. км².
- Г. 603, 7 тис. км².

А	Б	В	Г
<input type="checkbox"/>	<input type="checkbox"/>	<input type="checkbox"/>	<input type="checkbox"/>

23. Зазначте регіон України, де переважає денудаційно-аккумулятивний, розчленований ярами і балками рельєф:

- А. Закарпатська низовина.
- Б. Поліська низовина.
- В. Подільська височина.
- Г. Кримські гори.

А	Б	В	Г
<input type="checkbox"/>	<input type="checkbox"/>	<input type="checkbox"/>	<input type="checkbox"/>

24. Зазначте область України, у якій розміщене одне з найбільших в Європі родовищ графіту:

- А. Харківська.
- Б. Сумська.
- В. Волинська.
- Г. Кіровоградська.

А	Б	В	Г
<input type="checkbox"/>	<input type="checkbox"/>	<input type="checkbox"/>	<input type="checkbox"/>

25. Яке явище часто повторюється в Україні теплої пори року під час проходження холодного фронту або за дуже сильної конвекції, триває воно кілька хвилин і проявляється у вигляді сильного поривчастого вітру?

- А. Суховій.
- Б. Шквал.
- В. Смерч.
- Г. Ураган.

А	Б	В	Г
<input type="checkbox"/>	<input type="checkbox"/>	<input type="checkbox"/>	<input type="checkbox"/>

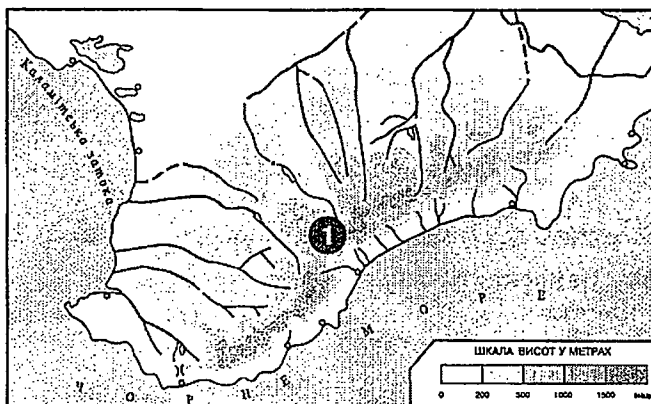
26. Вкажіть типи природної рослинності, що переважають на території України:

- А. Чагарники, солончаки.
- Б. Пустощі, степи.
- В. Ліси, луки.
- Г. Лісостепи, болота.

А	Б	В	Г
<input type="checkbox"/>	<input type="checkbox"/>	<input type="checkbox"/>	<input type="checkbox"/>

27. Визначте, яка природна область Кримських гір позначена на карті цифрою 1:

- А. Роман-Кош.
- Б. Карадаг.
- В. Ай-Петрі.
- Г. Екклізі-Бурун.



А	Б	В	Г
<input type="checkbox"/>	<input type="checkbox"/>	<input type="checkbox"/>	<input type="checkbox"/>

28. Зазначте природний комплекс України, у якому біосферний заповідник є світовою спадщиною ЮНЕСКО:

- А. Кримські гори.
- Б. Українські Карпати.

А Б В Г

--	--	--	--

- В. Полісся.
Г. Лісостеп.

29. Вкажіть область, у якій спостерігається найвищий в Україні рівень урбанізації:

- А. Донецька.
Б. Київська.
В. Одеська.
Г. Харківська.

А Б В Г

--	--	--	--

30. Вкажіть один з найбільших вузлів хімічної промисловості, що сформувався у Прикарпатті:

- А. Слов'янсько-Артемівський.
Б. Калусько-Долинський.
В. Краснопереконський.
Г. Криворізький.

А Б В Г

--	--	--	--

31. Оберіть найбільші за концентрацією виробництва промислові райони України:

- А. Львівський, Харківський.
Б. Причорноморський, Київський.
В. Донецький, Придніпровський.
Г. Подільський, Волинський.

А Б В Г

--	--	--	--

32. Оберіть економічний район України, який є лідером у розвитку рекреаційно-туристичної галузі щодо обсягу іноземних туристів:

- А. Центральний.
Б. Причорноморський.
В. Північно-Східний.
Г. Подільський.

А Б В Г

--	--	--	--

33. Зазначте одну з найважливіших тенденцій у міжнародному поділі праці:

- А. Концентрація виробництва і зовнішньої торгівлі в ТНК.
Б. Системний розвиток традиційних виробництв.
В. Ресурсний підхід до розвитку галузей міжнародної спеціалізації.
Г. Концентрація виробничих операцій в одному географічному регіоні.

А Б В Г

--	--	--	--

34. Визначте рівень безробіття в країні (у відсотках), якщо кількість трудових ресурсів становить 21 млн осіб, а кількість офіційно зареєстрованих безробітних – 1,5 млн осіб.

- А. 8 %.
Б. 7 %.
В. 6 %.
Г. 2 %.

А Б В Г

--	--	--	--

35. Оберіть країну, яка не входить до складу СНД:

- А. Росія.
Б. Грузія.
В. Казахстан.
Г. Молдова.

А Б В Г

--	--	--	--

36. Оберіть країни, що входять до складу регіональної організації АСЕАН:

- А. Саудівська Аравія, Бахрейн, Кувейт.
Б. Індія, Китай, Пакистан.
В. Папуа-Нова Гвінея, В'єтнам, Венесуела.
Г. Індонезія, Малайзія, Сінгапур.

А Б В Г

--	--	--	--

37. Зазначте країни, які є лідерами з виробництва сталі у світі:

- А. Росія, Україна, Польща.
Б. Німеччина, Велика Британія, Франція.
В. Китай, Японія, США.
Г. Індія, Австралія, Південна Корея.

А Б В Г

--	--	--	--

38. Зазначте країни, що є основними виробниками кукурудзи у світі:

- А. Японія, Франція, Індія.
- Б. США, Аргентина, Китай.
- В. Бразилія, Росія, Австралія.
- Г. Туреччина, Іспанія, Італія.

А	Б	В	Г

39. Зазначте європейський субрегіон, який налічує найбільше країн, що стали членами ЄС у 2004 р.:

- А. Північна Європа.
- Б. Східна Європа.
- В. Південна Європа.
- Г. Західна Європа.

А	Б	В	Г

40. Назвіть країни, які є лідерами туристичної галузі в Африці:

- А. Єгипет, Туніс, ПАР.
- Б. Чад, Нігер, Ліберія.
- В. Лівія, Уганда, Сомалі.
- Г. Алжир, ЦАР, Ефіопія.

А	Б	В	Г

41. Визначте країну за наведеним нижче описом:

Це давня держава, розміщена на півострові. Є конституційною монархією. Більше 1/3 території розташовано за полярним колом. Має значні запаси гідроенергетичних та лісових ресурсів. Країна посідає перше місце у світі за виробництвом на душу населення електроенергії, целюлозно-паперової маси, алюмінію і феросплавів.

- А. Фінляндія.
- Б. Данія.
- В. Норвегія.
- Г. Швеція.

А	Б	В	Г

42. Визначте країну за наведеним нижче описом:

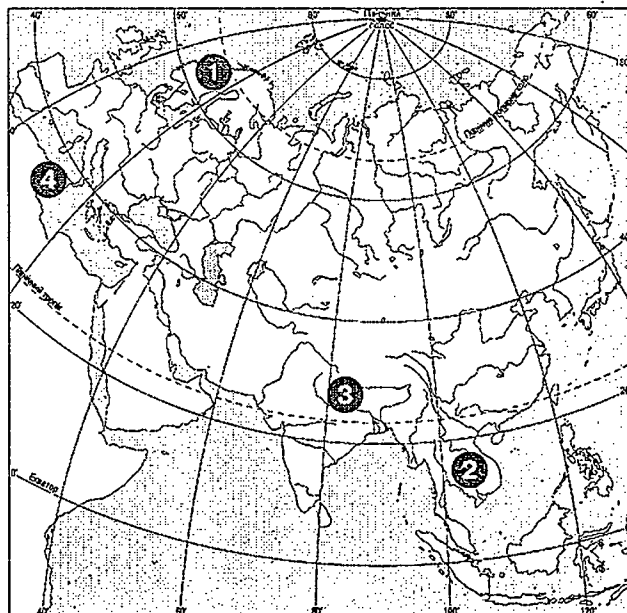
Це федеративна республіка, країна давніх цивілізацій, а нині – одна з головних нафтовидобувних і нафтоекспортуючих країн світу; за запасами нафти вона посідає 4-те місце у світі. За рівнем розвитку країна помітно випереджає інші країни свого регіону. Головними партнерами країни є дві великі держави, що розміщені на північ від неї.

- А. Венесуела.
- Б. Бразилія.
- В. Іран.
- Г. Мексика.

А	Б	В	Г

43. Знайдіть відповідність між об'єктами, позначеними на карті Євразії, та їхніми назвами:

- А. Гімалаї.
- Б. Біле море.
- В. Скандинавський півострів.
- Г. о. Сицилія.
- Д. Півострів Індокитай.



	А	Б	В	Г	Д
1					
2					
3					
4					

44. Визначте відповідність між містами в Євразії і кліматичними областями, в яких ці міста розташовані:

1. Тегеран.
 2. Лондон.
 3. Делі.
 4. Владивосток.
- А. Помірний морський.
 Б. Субекваторіальний.
 В. Помірно континентальний.
 Г. Помірний мусонний.
 Д. Субтропічний континентальний.

	А	Б	В	Г	Д
1					
2					
3					
4					

45. Вкажіть відповідність між областями України і об'єктами природно-заповідного фонду у їхніх межах:

1. Волинська.
 2. Херсонська.
 3. Закарпатська.
 4. Донецька.
- А. Гранітно-Степове Побужжя.
 Б. Диканський.
 В. Половецький степ.
 Г. Трахтемирів.
 Д. Печенізьке поле.

	А	Б	В	Г	Д
1					
2					
3					
4					

46. Вкажіть відповідність між країнами та їхніми столицями:

1. Польща.
 2. Японія.
 3. Туреччина.
 4. Малайзія.
- А. Куала-Лумпур.
 Б. Аддис-Абеба.
 В. Варшава.
 Г. Токіо.
 Д. Анкара.

	А	Б	В	Г	Д
1					
2					
3					
4					

47. Визначте відповідність між шарами атмосфери та їхніми межами (в км):

1. Стратосфера.
 2. Термосфера.
 3. Тропосфера.
 4. Мезосфера.
- А. 10–12.
 Б. 12–50.
 В. 50–90.
 Г. 90–700.
 Д. Понад 700.

	А	Б	В	Г	Д
1					
2					
3					
4					

48. Знайдіть відповідність між країнами Європи та їхніми портами:

1. Велика Британія.
 2. Італія.
 3. Німеччина.
 4. Франція.
- А. Гамбург.
 Б. Роттердам.
 В. Ліверпуль.
 Г. Генуя.
 Д. Марсель.

	А	Б	В	Г	Д
1					
2					
3					
4					

49. Оберіть з переліку продукцію чорної металургії, яку виробляють підприємства цієї галузі в Україні:

1. Алюміній.
2. Сталь.
3. Титано-магнієве виробництво.

--	--	--

4. Прокат.
5. Труби.
6. Мідь.
7. Ртуть.

50. Оберіть галузі промислової спеціалізації Придніпровського економічного району України:

1. Металургійна промисловість.
2. Лісозаготівля та деревообробна промисловість.
3. Авіакосмічне машинобудування.
4. Електроенергетика.
5. Нафтова промисловість.
6. Молочно-м'ясне скотарство.
7. Гірничо-хімічна промисловість.

--	--	--

51. Виберіть чинники, які зумовлюють мінливість погоди:

1. Кількість і режим випадання опадів.
2. Зміна кута падіння сонячних променів протягом року.
3. Розподіл температури повітря протягом доби.
4. Господарська діяльність людей.
5. Проходження циклонів та антициклонів.
6. Рух повітряних мас.
7. Велика хмарність.

--	--	--

52. Оберіть галузі господарства України, в яких присутні транснаціональні корпорації (ТНК):

1. Нафтопереробна.
2. Чорна металургія.
3. Кольорова металургія.
4. Оптово-роздрібна торгівля.
5. Хлібопекарська.
6. Вугільна промисловість.
7. Лісова промисловість.

--	--	--

53. Вкажіть три країни, які є світовими економічними лідерами за показником ВВП:

1. Бразилія.
2. США.
3. Японія.
4. Німеччина.
5. Китай.
6. Росія.
7. Україна.

--	--	--

54. Зазначте напрямки нових демографічних викликів у світі:

1. Нелегальна міграція.
2. Зменшення приросту населення.
3. Псевдоурбанізація.
4. Криза великих міст.
5. Міжетнічні конфлікти.
6. Стрімке зростання кількості населення.
7. Зменшення кількості сільського населення.

--	--	--

55. Обчисліть, користуючись таблицею, коефіцієнт зволоження в певному пункті:

Пункт	Сум. рад. ккал/см ²	Річна кількість опадів, мм	Випаровуваність
Джакарта	180	3000	1500

--	--	--	--	--

56. Визначте поясний час у Нью-Йорку (номер поясу – 19), якщо в Києві полудень.

--	--	--	--	--

Увага!

Цей бланк перевіряє комп'ютер! Ваші відповіді в бланку є результатом Вашої роботи.

Географія

1 2 3 4 5 6 7 8 9 10 11 12 13 14 15

Позначте номер Вашого зошита так:

Правильну відповідь у завданнях позначаєте тільки так:

Неправильну відповідь можна виправити, замалювавши попередню позначку та поставивши нову.

А Б В Г

1 <input type="checkbox"/> <input type="checkbox"/> <input type="checkbox"/> <input type="checkbox"/>	8 <input type="checkbox"/> <input type="checkbox"/> <input type="checkbox"/> <input type="checkbox"/>	15 <input type="checkbox"/> <input type="checkbox"/> <input type="checkbox"/> <input type="checkbox"/>	22 <input type="checkbox"/> <input type="checkbox"/> <input type="checkbox"/> <input type="checkbox"/>	29 <input type="checkbox"/> <input type="checkbox"/> <input type="checkbox"/> <input type="checkbox"/>	36 <input type="checkbox"/> <input type="checkbox"/> <input type="checkbox"/> <input type="checkbox"/>
2 <input type="checkbox"/> <input type="checkbox"/> <input type="checkbox"/> <input type="checkbox"/>	9 <input type="checkbox"/> <input type="checkbox"/> <input type="checkbox"/> <input type="checkbox"/>	16 <input type="checkbox"/> <input type="checkbox"/> <input type="checkbox"/> <input type="checkbox"/>	23 <input type="checkbox"/> <input type="checkbox"/> <input type="checkbox"/> <input type="checkbox"/>	30 <input type="checkbox"/> <input type="checkbox"/> <input type="checkbox"/> <input type="checkbox"/>	37 <input type="checkbox"/> <input type="checkbox"/> <input type="checkbox"/> <input type="checkbox"/>
3 <input type="checkbox"/> <input type="checkbox"/> <input type="checkbox"/> <input type="checkbox"/>	10 <input type="checkbox"/> <input type="checkbox"/> <input type="checkbox"/> <input type="checkbox"/>	17 <input type="checkbox"/> <input type="checkbox"/> <input type="checkbox"/> <input type="checkbox"/>	24 <input type="checkbox"/> <input type="checkbox"/> <input type="checkbox"/> <input type="checkbox"/>	31 <input type="checkbox"/> <input type="checkbox"/> <input type="checkbox"/> <input type="checkbox"/>	38 <input type="checkbox"/> <input type="checkbox"/> <input type="checkbox"/> <input type="checkbox"/>
4 <input type="checkbox"/> <input type="checkbox"/> <input type="checkbox"/> <input type="checkbox"/>	11 <input type="checkbox"/> <input type="checkbox"/> <input type="checkbox"/> <input type="checkbox"/>	18 <input type="checkbox"/> <input type="checkbox"/> <input type="checkbox"/> <input type="checkbox"/>	25 <input type="checkbox"/> <input type="checkbox"/> <input type="checkbox"/> <input type="checkbox"/>	32 <input type="checkbox"/> <input type="checkbox"/> <input type="checkbox"/> <input type="checkbox"/>	39 <input type="checkbox"/> <input type="checkbox"/> <input type="checkbox"/> <input type="checkbox"/>
5 <input type="checkbox"/> <input type="checkbox"/> <input type="checkbox"/> <input type="checkbox"/>	12 <input type="checkbox"/> <input type="checkbox"/> <input type="checkbox"/> <input type="checkbox"/>	19 <input type="checkbox"/> <input type="checkbox"/> <input type="checkbox"/> <input type="checkbox"/>	26 <input type="checkbox"/> <input type="checkbox"/> <input type="checkbox"/> <input type="checkbox"/>	33 <input type="checkbox"/> <input type="checkbox"/> <input type="checkbox"/> <input type="checkbox"/>	40 <input type="checkbox"/> <input type="checkbox"/> <input type="checkbox"/> <input type="checkbox"/>
6 <input type="checkbox"/> <input type="checkbox"/> <input type="checkbox"/> <input type="checkbox"/>	13 <input type="checkbox"/> <input type="checkbox"/> <input type="checkbox"/> <input type="checkbox"/>	20 <input type="checkbox"/> <input type="checkbox"/> <input type="checkbox"/> <input type="checkbox"/>	27 <input type="checkbox"/> <input type="checkbox"/> <input type="checkbox"/> <input type="checkbox"/>	34 <input type="checkbox"/> <input type="checkbox"/> <input type="checkbox"/> <input type="checkbox"/>	41 <input type="checkbox"/> <input type="checkbox"/> <input type="checkbox"/> <input type="checkbox"/>
7 <input type="checkbox"/> <input type="checkbox"/> <input type="checkbox"/> <input type="checkbox"/>	14 <input type="checkbox"/> <input type="checkbox"/> <input type="checkbox"/> <input type="checkbox"/>	21 <input type="checkbox"/> <input type="checkbox"/> <input type="checkbox"/> <input type="checkbox"/>	28 <input type="checkbox"/> <input type="checkbox"/> <input type="checkbox"/> <input type="checkbox"/>	35 <input type="checkbox"/> <input type="checkbox"/> <input type="checkbox"/> <input type="checkbox"/>	42 <input type="checkbox"/> <input type="checkbox"/> <input type="checkbox"/> <input type="checkbox"/>

43 1 <input type="checkbox"/> <input type="checkbox"/> <input type="checkbox"/> <input type="checkbox"/> <input type="checkbox"/> <input type="checkbox"/>	44 1 <input type="checkbox"/> <input type="checkbox"/> <input type="checkbox"/> <input type="checkbox"/> <input type="checkbox"/> <input type="checkbox"/>	45 1 <input type="checkbox"/> <input type="checkbox"/> <input type="checkbox"/> <input type="checkbox"/> <input type="checkbox"/> <input type="checkbox"/>	46 1 <input type="checkbox"/> <input type="checkbox"/> <input type="checkbox"/> <input type="checkbox"/> <input type="checkbox"/> <input type="checkbox"/>
2 <input type="checkbox"/> <input type="checkbox"/> <input type="checkbox"/> <input type="checkbox"/> <input type="checkbox"/> <input type="checkbox"/>	2 <input type="checkbox"/> <input type="checkbox"/> <input type="checkbox"/> <input type="checkbox"/> <input type="checkbox"/> <input type="checkbox"/>	2 <input type="checkbox"/> <input type="checkbox"/> <input type="checkbox"/> <input type="checkbox"/> <input type="checkbox"/> <input type="checkbox"/>	2 <input type="checkbox"/> <input type="checkbox"/> <input type="checkbox"/> <input type="checkbox"/> <input type="checkbox"/> <input type="checkbox"/>
3 <input type="checkbox"/> <input type="checkbox"/> <input type="checkbox"/> <input type="checkbox"/> <input type="checkbox"/> <input type="checkbox"/>	3 <input type="checkbox"/> <input type="checkbox"/> <input type="checkbox"/> <input type="checkbox"/> <input type="checkbox"/> <input type="checkbox"/>	3 <input type="checkbox"/> <input type="checkbox"/> <input type="checkbox"/> <input type="checkbox"/> <input type="checkbox"/> <input type="checkbox"/>	3 <input type="checkbox"/> <input type="checkbox"/> <input type="checkbox"/> <input type="checkbox"/> <input type="checkbox"/> <input type="checkbox"/>
4 <input type="checkbox"/> <input type="checkbox"/> <input type="checkbox"/> <input type="checkbox"/> <input type="checkbox"/> <input type="checkbox"/>	4 <input type="checkbox"/> <input type="checkbox"/> <input type="checkbox"/> <input type="checkbox"/> <input type="checkbox"/> <input type="checkbox"/>	4 <input type="checkbox"/> <input type="checkbox"/> <input type="checkbox"/> <input type="checkbox"/> <input type="checkbox"/> <input type="checkbox"/>	4 <input type="checkbox"/> <input type="checkbox"/> <input type="checkbox"/> <input type="checkbox"/> <input type="checkbox"/> <input type="checkbox"/>

47 1 <input type="checkbox"/> <input type="checkbox"/> <input type="checkbox"/> <input type="checkbox"/> <input type="checkbox"/> <input type="checkbox"/>	48 1 <input type="checkbox"/> <input type="checkbox"/> <input type="checkbox"/> <input type="checkbox"/> <input type="checkbox"/> <input type="checkbox"/>
2 <input type="checkbox"/> <input type="checkbox"/> <input type="checkbox"/> <input type="checkbox"/> <input type="checkbox"/> <input type="checkbox"/>	2 <input type="checkbox"/> <input type="checkbox"/> <input type="checkbox"/> <input type="checkbox"/> <input type="checkbox"/> <input type="checkbox"/>
3 <input type="checkbox"/> <input type="checkbox"/> <input type="checkbox"/> <input type="checkbox"/> <input type="checkbox"/> <input type="checkbox"/>	3 <input type="checkbox"/> <input type="checkbox"/> <input type="checkbox"/> <input type="checkbox"/> <input type="checkbox"/> <input type="checkbox"/>
4 <input type="checkbox"/> <input type="checkbox"/> <input type="checkbox"/> <input type="checkbox"/> <input type="checkbox"/> <input type="checkbox"/>	4 <input type="checkbox"/> <input type="checkbox"/> <input type="checkbox"/> <input type="checkbox"/> <input type="checkbox"/> <input type="checkbox"/>

Приклад написання цифр для заповнення бланку відповідей: 1 2 3 4 5 6 7 8 9 0

Увага! Кожна записана цифра не має виходити за межі білого прямокутника

49 50 51 52 53 54

Приклад написання чисел у завданнях 49-56: число 1: 1 число 17: 1 7 число 123: 1 2 3

55 56

Місце для виправлення помилкової відповіді до завдань 49-56

Запишіть новий варіант відповіді праворуч відповідного номера завдання

49 50 51 52 53 54

55 56

ВАРІАНТ 10

1. Зазначте, що вивчає фізична географія:

- А. Клімат і погоду.
- Б. Води Світового океану.
- В. Географічну оболонку.
- Г. Будову земної кори і рельєф.

А	Б	В	Г
<input type="checkbox"/>	<input type="checkbox"/>	<input type="checkbox"/>	<input type="checkbox"/>

2. Вкажіть кліматичний пояс, у якому протягом усього року спостерігається значна хмарність:

- А. Арктичний.
- Б. Помірний.
- В. Тропічний.
- Г. Екваторіальний.

А	Б	В	Г
<input type="checkbox"/>	<input type="checkbox"/>	<input type="checkbox"/>	<input type="checkbox"/>

3. Вкажіть процес, який призводить до накопичення мінералів і гірських порід:

- А. Вулканізм.
- Б. Акумуляція.
- В. Вивітрювання.
- Г. Денудація.

А	Б	В	Г
<input type="checkbox"/>	<input type="checkbox"/>	<input type="checkbox"/>	<input type="checkbox"/>

4. Назвіть обласний центр України, у якому 22 грудня спостерігається нижчий порівняно з іншими містами кут падіння сонячних променів:

- А. Львів.
- Б. Вінниця.
- В. Миколаїв.
- Г. Чернігів.

А	Б	В	Г
<input type="checkbox"/>	<input type="checkbox"/>	<input type="checkbox"/>	<input type="checkbox"/>

5. Вкажіть меридіан, від якого починають відлік географічної довготи:

- А. Пулковський.
- Б. Київський.
- В. Московський.
- Г. Гринвіцький.

А	Б	В	Г
<input type="checkbox"/>	<input type="checkbox"/>	<input type="checkbox"/>	<input type="checkbox"/>

6. Зазначте назву майданчика, на якому ведуть спостереження за погодою:

- А. Метеорологічний.
- Б. Кліматичний.
- В. Синоптичний.
- Г. Геодезичний.

А	Б	В	Г
<input type="checkbox"/>	<input type="checkbox"/>	<input type="checkbox"/>	<input type="checkbox"/>

7. Зазначте причини великої кількості опадів в екваторіальних широтах Землі:

- А. Висхідні рухи вологого повітря.
- Б. Низхідні рухи вологого повітря.
- В. Переважання атмосферних фронтів і циклонів.
- Г. Високий атмосферний тиск при високій температурі.

А	Б	В	Г
<input type="checkbox"/>	<input type="checkbox"/>	<input type="checkbox"/>	<input type="checkbox"/>

8. Назвіть характерну рису антициклональної погоди:

- А. Вітряно.
- Б. Без опадів.
- В. Сльотава.
- Г. Безморозна.

А	Б	В	Г
<input type="checkbox"/>	<input type="checkbox"/>	<input type="checkbox"/>	<input type="checkbox"/>

9. Оберіть причини глобальних і тривалих змін кліматичних умов на Землі:

- А. Зміна кута падіння сонячних променів протягом доби.
- Б. Зміна співвідношення площ суходолу й океану.
- В. Рух повітряних мас у циклонах та антициклонах.
- Г. Положення Землі відносно Сонця протягом року.

А	Б	В	Г
<input type="checkbox"/>	<input type="checkbox"/>	<input type="checkbox"/>	<input type="checkbox"/>

10. Назвіть найбільш заселені живими організмами частини акваторії Світового океану:

- А. Приповерхневі води.
- Б. Придонні води.
- В. Глибинні води.
- Г. Води проток і заток.

А	Б	В	Г
<input type="checkbox"/>	<input type="checkbox"/>	<input type="checkbox"/>	<input type="checkbox"/>

11. Назвіть океан, у якому розташований найбільший у світі острів.

- А. Тихий.
- Б. Атлантичний.
- В. Індійський.
- Г. Північний Льодовитий.

А	Б	В	Г
<input type="checkbox"/>	<input type="checkbox"/>	<input type="checkbox"/>	<input type="checkbox"/>

12. Вкажіть місце поширення серединно-океанічних хребтів:

- А. Перехідні зони.
- Б. Рифтові зони.
- В. Області складчастостей.
- Г. Океанічні платформи.

А	Б	В	Г
<input type="checkbox"/>	<input type="checkbox"/>	<input type="checkbox"/>	<input type="checkbox"/>

13. Визначте найпівнічніше з перелічених морів:

- А. Бофорта.
- Б. Баренцове.
- В. Тасманове.
- Г. Північне.

А	Б	В	Г
<input type="checkbox"/>	<input type="checkbox"/>	<input type="checkbox"/>	<input type="checkbox"/>

14. Зазначте океан, у який несуть свої води більшість річок світу:

- А. Північний Льодовитий.
- Б. Індійський.
- В. Атлантичний.
- Г. Тихий.

А	Б	В	Г
<input type="checkbox"/>	<input type="checkbox"/>	<input type="checkbox"/>	<input type="checkbox"/>

15. Укажіть форму рельєфу Північної Америки, яка відповідає наймолодшій тектонічній структурі:

- А. Центральні і Великі рівнини.
- Б. Кордильєри.
- В. Гори Аппалачі.
- Г. Скелясті гори.

А	Б	В	Г
<input type="checkbox"/>	<input type="checkbox"/>	<input type="checkbox"/>	<input type="checkbox"/>

16. Зазначте материк з найбільшою площею багаторічної мерзлоти:

- А. Євразія.
- Б. Антарктида.
- В. Південна Америка.
- Г. Північна Америка.

А	Б	В	Г
<input type="checkbox"/>	<input type="checkbox"/>	<input type="checkbox"/>	<input type="checkbox"/>

17. Виберіть причини формування значної кількості озер у Північній Америці:

- А. Робота річок і підземних вод.
- Б. Робота моря і значна кількість опадів.
- В. Діяльність льодовика і наявність прогинів у земній корі.
- Г. Близькість океанів і діяльність людини.

А	Б	В	Г
<input type="checkbox"/>	<input type="checkbox"/>	<input type="checkbox"/>	<input type="checkbox"/>

18. Зазначте материк, на якому площа внутрішнього стоку є найбільшою і переважають ваді.

- А. Євразія.
- Б. Африка.
- В. Австралія.
- Г. Антарктида.

А	Б	В	Г
<input type="checkbox"/>	<input type="checkbox"/>	<input type="checkbox"/>	<input type="checkbox"/>

19. Вкажіть найбільшу за площею басейну і довжиною річку Європи:

- А. Рейн.
- Б. Дунай.
- В. Дніпро.
- Г. Волга.

А	Б	В	Г
<input type="checkbox"/>	<input type="checkbox"/>	<input type="checkbox"/>	<input type="checkbox"/>

20. Зазначте регіон України, у якому зосереджені родовища самородної сірки:

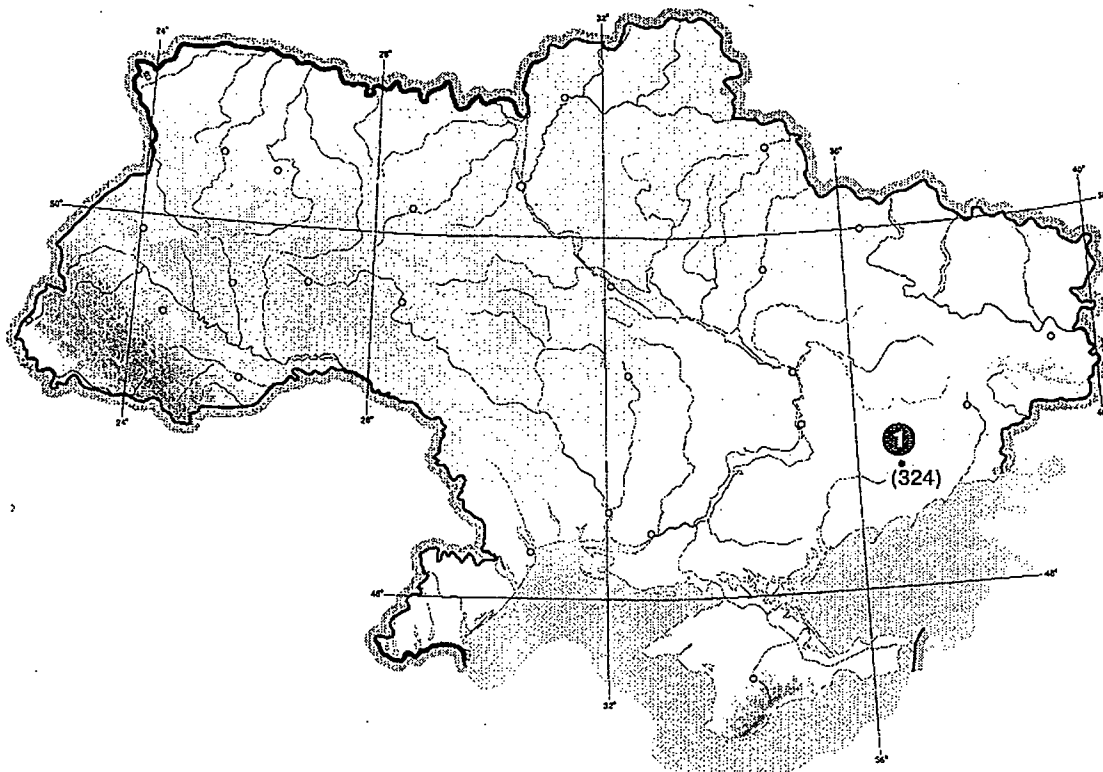
- А. Полісся.
- Б. Передкарпаття.
- В. Приазов'я.
- Г. Побужжя.

А	Б	В	Г
<input type="checkbox"/>	<input type="checkbox"/>	<input type="checkbox"/>	<input type="checkbox"/>

21. Визначте, яка вершина рівнинної частини території України позначена на карті цифрою 1:

- А. Берда.
- Б. Могила-Мечетна.
- В. Бельмак-Могила.
- Г. Камула.

А	Б	В	Г
<input type="checkbox"/>	<input type="checkbox"/>	<input type="checkbox"/>	<input type="checkbox"/>



22. Зазначте природну зону України, у якій густота річкової мережі найменша:

- А. Мішані ліси.
- Б. Широколисті ліси.
- В. Лісостеп.
- Г. Степ.

А	Б	В	Г
<input type="checkbox"/>	<input type="checkbox"/>	<input type="checkbox"/>	<input type="checkbox"/>

23. Зазначте річки басейну Дніпра:

- А. Молочна, Салгир.
- Б. Стрий, Сан.
- В. Прут, Тиса.
- Г. Десна, Прип'ять.

А	Б	В	Г
<input type="checkbox"/>	<input type="checkbox"/>	<input type="checkbox"/>	<input type="checkbox"/>

24. Оберіть заповідник, розташований у лісостеповій зоні України:

- А. Луганський.
- Б. «Медобори».
- В. «Горгани».
- Г. «Мис Мартьян».

А	Б	В	Г
<input type="checkbox"/>	<input type="checkbox"/>	<input type="checkbox"/>	<input type="checkbox"/>

25. Визначте за описом назву процесу, який часто відбувається в Україні внаслідок нерозумної господарської діяльності, коли збільшується навантаження на схил через нові споруди, підризується схил унаслідок прокладання доріг тощо; цей процес характеризується зміщенням униз по схилу гірських порід:

- А. Осип.
- Б. Зсув.
- В. Ерозія.
- Г. Каменепад.

А	Б	В	Г
<input type="checkbox"/>	<input type="checkbox"/>	<input type="checkbox"/>	<input type="checkbox"/>

26. Зазначте область України, яку часто називають «західними воротами країни»:

- А. Харківська.
- Б. Волинська.
- В. Львівська.
- Г. Івано-Франківська.

А Б В Г

--	--	--	--

27. Зазначте найменш заселений економічний район України:

- А. Столичний.
- Б. Причорноморський.
- В. Донецький.
- Г. Центральний.

А Б В Г

--	--	--	--

28. Оберіть області України з найбільшою концентрацією мінеральних ресурсів:

- А. Київська, Херсонська.
- Б. Дніпропетровська, Донецька.
- В. Запорізька, Сумська.
- Г. Львівська, Вінницька.

А Б В Г

--	--	--	--

29. Зазначте причини падіння промислового виробництва в Україні за роки незалежності:

- А. Розвиток наукоємних галузей, значне споживання продукції на внутрішньому ринку.
- Б. Низький технічний рівень підприємств, зменшення попиту на продукцію.
- В. Структурна перебудова промислового виробництва, оновлений асортимент продукції.
- Г. Високий рівень енергоємності промислового виробництва, розширення ринків збуту промислової продукції.

А Б В Г

--	--	--	--

30. Назвіть область України, яка посідає провідне місце у виробництві соняшникової олії:

- А. Дніпропетровська.
- Б. Житомирська.
- В. Чернігівська.
- Г. Волинська.

А Б В Г

--	--	--	--

31. Зазначте області України з найбільшою густотою залізниць:

- А. Волинська, Чернігівська, Сумська.
- Б. Львівська, Кіровоградська, Одеська.
- В. Донецька, Дніпропетровська, Харківська.
- Г. Луганська, Херсонська, Закарпатська.

А Б В Г

--	--	--	--

32. Зазначте економічні райони України, у яких виробляють понад 50 % товарної продукції машинобудування:

- А. Столичний, Причорноморський, Подільський.
- Б. Донецький, Придніпровський, Північно-Східний.
- В. Причорноморський, Донецький, Поліський.
- Г. Карпатський, Подільський, Центральний.

А Б В Г

--	--	--	--

33. Зазначте державу, що є найбільшою за площею в Євразії і на Землі:

- А. Росія.
- Б. Китай.
- В. США.
- Г. Саудівська Аравія.

А Б В Г

--	--	--	--

34. Обчисліть, користуючись даними таблиці, показник природного приросту населення (у проміле) однієї з африканських країн за рік:

Рік	Народжуваність, на 1 тис. осіб	Смертність, на 1 тис. осіб	Еміграція, тис. осіб	Імміграція, тис. осіб	Населення, тис. осіб
2007	40	33	10	15	300

- А. +5.
- Б. -5.
- В. +7.
- Г. -7.

А Б В Г

--	--	--	--

35. Оберіть країну, яка випереджає більшість країн щодо виробництва робототехніки:

- А. Велика Британія.
- Б. Німеччина.
- В. США.
- Г. Японія.

А	Б	В	Г
<input type="checkbox"/>	<input type="checkbox"/>	<input type="checkbox"/>	<input type="checkbox"/>

36. Вкажіть основні статті імпорту Польщі з України:

- А. Морські судна, автомобілі.
- Б. Вугілля, мідь, срібло.
- В. Паливо, продукція хімічної промисловості.
- Г. Кокс, продукція легкої промисловості.

А	Б	В	Г
<input type="checkbox"/>	<input type="checkbox"/>	<input type="checkbox"/>	<input type="checkbox"/>

37. Зазначте країни, у яких основною виробничою одиницею в агробізнесі є сімейна ферма значних розмірів:

- А. Німеччина, Італія, Франція.
- Б. Австралія, США, Канада.
- В. Японія, Китай, Індія.
- Г. Росія, Україна, Білорусь.

А	Б	В	Г
<input type="checkbox"/>	<input type="checkbox"/>	<input type="checkbox"/>	<input type="checkbox"/>

38. Вкажіть вид транспорту, який забезпечує 80 % світових вантажоперевезень:

- А. Залізничний.
- Б. Авіаційний.
- В. Автомобільний.
- Г. Морський.

А	Б	В	Г
<input type="checkbox"/>	<input type="checkbox"/>	<input type="checkbox"/>	<input type="checkbox"/>

39. Зазначте причини швидких темпів розвитку господарства в державах – нових членах ЄС:

- А. Розвиток науки, значна ресурсна база.
- Б. Вступ до СОТ, розширення ринків збуту готової продукції.
- В. Розвиток ринкових відносин.
- Г. Дешева робоча сила, внутрішні інвестиції.

А	Б	В	Г
<input type="checkbox"/>	<input type="checkbox"/>	<input type="checkbox"/>	<input type="checkbox"/>

40. Визначте країну за наведеним нижче описом:

Країна розпочала новий період свого розвитку у 90-ті роки ХХ ст. після відокремлення від сусідньої республіки. Є індустріальною країною, що виробляє традиційно якісні і конкурентоспроможні товари. Кожне місто і містечко країни – це музей під відкритим небом. Але справжніми перлами є 111 фортець і замків. Столиця країни визнана об'єктом Всесвітньої спадщини ЮНЕСКО:

- А. Чорногорія.
- Б. Сербія.
- В. Словаччина.
- Г. Чехія.

А	Б	В	Г
<input type="checkbox"/>	<input type="checkbox"/>	<input type="checkbox"/>	<input type="checkbox"/>

41. Визначте країну за наведеним нижче описом:

Країна розташована на більш ніж 13 000 островів, з яких заселені лише 922. Країну населяють понад 150 народів, які розмовляють 1000 мов і діалектів. На деяких островах збереглися риси первісного ладу, хоча за статусом ООН держава є новою індустріальною країною.

- А. Індонезія.
- Б. Мальдівська Республіка.
- В. Нова Зеландія.
- Г. Японія.

А	Б	В	Г
<input type="checkbox"/>	<input type="checkbox"/>	<input type="checkbox"/>	<input type="checkbox"/>

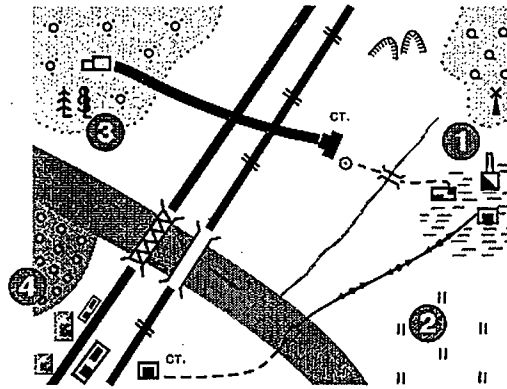
42. Назвіть форму міжнародного співробітництва, яка в Україні розпочала інтенсивно розвиватися за часів незалежності і характеризується довгостроковими вкладаннями як вітчизняного, так й іноземного капіталу в галузі економіки:

- А. Спільне підприємництво.
- Б. Кредитування.
- В. Інвестування.
- Г. Лізинг.

А	Б	В	Г
<input type="checkbox"/>	<input type="checkbox"/>	<input type="checkbox"/>	<input type="checkbox"/>

43. Знайдіть відповідність між об'єктами, показаними на плані цифрами, та їхніми назвами:

- А. Ліс.
- Б. Фруктовий сад.
- В. Болото.
- Г. Луки.
- Д. Яр.



	А	Б	В	Г	Д
1					
2					
3					
4					

44. Визначте відповідність між формами рельєфу та їхніми ознаками:

- 1. Трапи.
- 2. Вулкани.
- 3. «Баранячі лоби».
- 4. Рифи.
- А. Природні виходи підземних вод.
- Б. Скелясті виступи корінних порід, згладжені і відполіровані льодовиком.
- В. Вивержені гірські породи, які часто утворюють східці в рельєфі.
- Г. Пасмо підводних або невисоких надводних скель.
- Д. Геологічні утворення, що формуються внаслідок підняття з надр Землі й виверження на її поверхню магми.

	А	Б	В	Г	Д
1					
2					
3					
4					

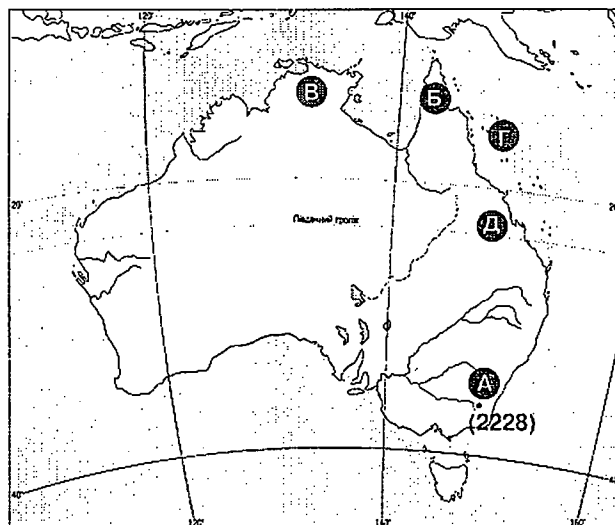
45. Установіть відповідність між містами України і видами промислової продукції, яка виробляється на їхніх підприємствах:

- 1. Кременчук.
- 2. Черкаси.
- 3. Біла Церква.
- 4. Северодонецьк.
- А. Шини.
- Б. Вантажні автомобілі.
- В. Синтетичні смоли і пластмаси.
- Г. Труби.
- Д. Азотні добрива.

	А	Б	В	Г	Д
1					
2					
3					
4					

46. Знайдіть відповідність між об'єктами, позначеними на карті Австралії, та вказаними назвами:

- 1. Гора Костюшко.
- 2. Півострів Кейп-Йорк.
- 3. Півострів Арнем-Ленд.
- 4. Великий Бар'єрний риф.



	А	Б	В	Г	Д
1					
2					
3					
4					

47. Установіть відповідність між природними зонами Північної Америки та їхніми зональними особливостями:


1. Напівпустелі і пустелі.
2. Савани і рідколісся.
3. Стени.
4. Перемінно-вологі ліси.
- А. Подекуди трапляється густий трав'яний покрив, хоча більшість території зони розорана.
- Б. Поряд із сосною трапляються пальми та вічнозелені дуби, у пониженнях – зарості магнолії.
- В. Не утворює суцільної смуги, поширені кактуси, агави.
- Г. Чагарники чергуються з деревами – акаціями та мімозами.
- Д. Поряд із хвойними породами є численні листяні породи – дуб, бук, клен.

	А	Б	В	Г	Д
1					
2					
3					
4					

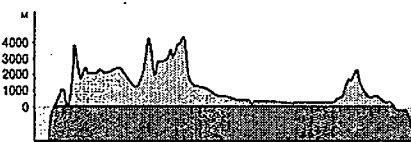
48. Установіть відповідність між материками та профілями їхньої поверхні:

1. Африка.
2. Австралія.
3. Антарктика.
4. Південна Америка.

	А	Б	В	Г	Д
1					
2					
3					
4					



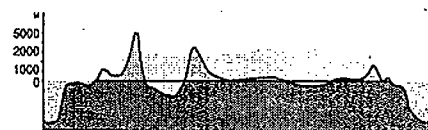
А



Б



В



Г



Д

49. Оберіть області України, в яких діють атомні електростанції:

- | | |
|----------------|------------------|
| 1. Вінницька. | 5. Миколаївська. |
| 2. Запорізька. | 6. Донецька. |
| 3. Черкаська. | 7. Київська. |
| 4. Рівненська. | |

--	--	--

50. Оберіть країни світу, які є конституційними монархіями:

- | | |
|-------------|------------|
| 1. Японія. | 5. ОАЕ. |
| 2. Китай. | 6. Швеція. |
| 3. Іспанія. | 7. Індія. |
| 4. США. | |

--	--	--

51. Зазначте причини формування туману:

1. Поступове охолодження земної поверхні вночі.
2. Бризова циркуляція.
3. Випадання дощу.
4. Випаровування з теплої водної поверхні в тепле повітря.
5. Перемішування двох повітряних мас, які мають різну температуру, але близькі до стану насичення.
6. Переміщення теплого повітря над холодною поверхнею.
7. Наявність роси.

--	--	--

52. Назвіть ґрунти, які поширені на різних широтах, але під лісовими рослинними угрупованнями:

- | | |
|-------------------|----------------|
| 1. Червоно-жовті. | 3. Сіроземи. |
| 2. Чорноземи. | 4. Підзолисті. |

--	--	--

- 5. Каштанові.
- 6. Дерново-підзолисті.
- 7. Буроземи.

53. Вкажіть регіони України, де трапляються вулканогенні типи рельєфу:

- 1. Крим.
- 2. Закарпаття.
- 3. Волинь.
- 4. Причорномор'я.
- 5. Полісся.
- 6. Карпати.
- 7. Приазов'я.

--	--	--

54. Назвіть країни – лідери виробництва зерна у світі:

- 1. Аргентина.
- 2. Росія.
- 3. США.
- 4. Україна.
- 5. Китай.
- 6. Індія.
- 7. Японія.

--	--	--

55. Визначте, скільки горизонталей проведено на карті між береговою лінією Чорного моря і найвищою вершиною Кримських гір, якщо висота перерізу рельєфу становить 100 м.

--	--	--	--	--

56. Обчисліть різницю в місцевому часі (в годинах) між двома пунктами, якщо довгота пункту А становить 24° сх. д., а довгота пункту В дорівнює 39° сх. д.

--	--	--	--	--

Увага!

Цей бланк перевіряє комп'ютер! Ваші відповіді в бланку є результатом Вашої роботи.

Географія

1 2 3 4 5 6 7 8 9 10 11 12 13 14 15

Позначте номер Вашого зошита так:

Правильну відповідь у завданнях позначайте тільки так:

Неправильну відповідь можна виправити, замалювавши попередню позначку та поставивши нову.

А Б В Г

1 <input type="checkbox"/> <input type="checkbox"/> <input type="checkbox"/> <input type="checkbox"/>	8 <input type="checkbox"/> <input type="checkbox"/> <input type="checkbox"/> <input type="checkbox"/>	15 <input type="checkbox"/> <input type="checkbox"/> <input type="checkbox"/> <input type="checkbox"/>	22 <input type="checkbox"/> <input type="checkbox"/> <input type="checkbox"/> <input type="checkbox"/>	29 <input type="checkbox"/> <input type="checkbox"/> <input type="checkbox"/> <input type="checkbox"/>	36 <input type="checkbox"/> <input type="checkbox"/> <input type="checkbox"/> <input type="checkbox"/>
2 <input type="checkbox"/> <input type="checkbox"/> <input type="checkbox"/> <input type="checkbox"/>	9 <input type="checkbox"/> <input type="checkbox"/> <input type="checkbox"/> <input type="checkbox"/>	16 <input type="checkbox"/> <input type="checkbox"/> <input type="checkbox"/> <input type="checkbox"/>	23 <input type="checkbox"/> <input type="checkbox"/> <input type="checkbox"/> <input type="checkbox"/>	30 <input type="checkbox"/> <input type="checkbox"/> <input type="checkbox"/> <input type="checkbox"/>	37 <input type="checkbox"/> <input type="checkbox"/> <input type="checkbox"/> <input type="checkbox"/>
3 <input type="checkbox"/> <input type="checkbox"/> <input type="checkbox"/> <input type="checkbox"/>	10 <input type="checkbox"/> <input type="checkbox"/> <input type="checkbox"/> <input type="checkbox"/>	17 <input type="checkbox"/> <input type="checkbox"/> <input type="checkbox"/> <input type="checkbox"/>	24 <input type="checkbox"/> <input type="checkbox"/> <input type="checkbox"/> <input type="checkbox"/>	31 <input type="checkbox"/> <input type="checkbox"/> <input type="checkbox"/> <input type="checkbox"/>	38 <input type="checkbox"/> <input type="checkbox"/> <input type="checkbox"/> <input type="checkbox"/>
4 <input type="checkbox"/> <input type="checkbox"/> <input type="checkbox"/> <input type="checkbox"/>	11 <input type="checkbox"/> <input type="checkbox"/> <input type="checkbox"/> <input type="checkbox"/>	18 <input type="checkbox"/> <input type="checkbox"/> <input type="checkbox"/> <input type="checkbox"/>	25 <input type="checkbox"/> <input type="checkbox"/> <input type="checkbox"/> <input type="checkbox"/>	32 <input type="checkbox"/> <input type="checkbox"/> <input type="checkbox"/> <input type="checkbox"/>	39 <input type="checkbox"/> <input type="checkbox"/> <input type="checkbox"/> <input type="checkbox"/>
5 <input type="checkbox"/> <input type="checkbox"/> <input type="checkbox"/> <input type="checkbox"/>	12 <input type="checkbox"/> <input type="checkbox"/> <input type="checkbox"/> <input type="checkbox"/>	19 <input type="checkbox"/> <input type="checkbox"/> <input type="checkbox"/> <input type="checkbox"/>	26 <input type="checkbox"/> <input type="checkbox"/> <input type="checkbox"/> <input type="checkbox"/>	33 <input type="checkbox"/> <input type="checkbox"/> <input type="checkbox"/> <input type="checkbox"/>	40 <input type="checkbox"/> <input type="checkbox"/> <input type="checkbox"/> <input type="checkbox"/>
6 <input type="checkbox"/> <input type="checkbox"/> <input type="checkbox"/> <input type="checkbox"/>	13 <input type="checkbox"/> <input type="checkbox"/> <input type="checkbox"/> <input type="checkbox"/>	20 <input type="checkbox"/> <input type="checkbox"/> <input type="checkbox"/> <input type="checkbox"/>	27 <input type="checkbox"/> <input type="checkbox"/> <input type="checkbox"/> <input type="checkbox"/>	34 <input type="checkbox"/> <input type="checkbox"/> <input type="checkbox"/> <input type="checkbox"/>	41 <input type="checkbox"/> <input type="checkbox"/> <input type="checkbox"/> <input type="checkbox"/>
7 <input type="checkbox"/> <input type="checkbox"/> <input type="checkbox"/> <input type="checkbox"/>	14 <input type="checkbox"/> <input type="checkbox"/> <input type="checkbox"/> <input type="checkbox"/>	21 <input type="checkbox"/> <input type="checkbox"/> <input type="checkbox"/> <input type="checkbox"/>	28 <input type="checkbox"/> <input type="checkbox"/> <input type="checkbox"/> <input type="checkbox"/>	35 <input type="checkbox"/> <input type="checkbox"/> <input type="checkbox"/> <input type="checkbox"/>	42 <input type="checkbox"/> <input type="checkbox"/> <input type="checkbox"/> <input type="checkbox"/>

43 1 <input type="checkbox"/> <input type="checkbox"/> <input type="checkbox"/> <input type="checkbox"/> <input type="checkbox"/> <input type="checkbox"/>	44 1 <input type="checkbox"/> <input type="checkbox"/> <input type="checkbox"/> <input type="checkbox"/> <input type="checkbox"/> <input type="checkbox"/>	45 1 <input type="checkbox"/> <input type="checkbox"/> <input type="checkbox"/> <input type="checkbox"/> <input type="checkbox"/> <input type="checkbox"/>	46 1 <input type="checkbox"/> <input type="checkbox"/> <input type="checkbox"/> <input type="checkbox"/> <input type="checkbox"/> <input type="checkbox"/>
2 <input type="checkbox"/> <input type="checkbox"/> <input type="checkbox"/> <input type="checkbox"/> <input type="checkbox"/> <input type="checkbox"/>	2 <input type="checkbox"/> <input type="checkbox"/> <input type="checkbox"/> <input type="checkbox"/> <input type="checkbox"/> <input type="checkbox"/>	2 <input type="checkbox"/> <input type="checkbox"/> <input type="checkbox"/> <input type="checkbox"/> <input type="checkbox"/> <input type="checkbox"/>	2 <input type="checkbox"/> <input type="checkbox"/> <input type="checkbox"/> <input type="checkbox"/> <input type="checkbox"/> <input type="checkbox"/>
3 <input type="checkbox"/> <input type="checkbox"/> <input type="checkbox"/> <input type="checkbox"/> <input type="checkbox"/> <input type="checkbox"/>	3 <input type="checkbox"/> <input type="checkbox"/> <input type="checkbox"/> <input type="checkbox"/> <input type="checkbox"/> <input type="checkbox"/>	3 <input type="checkbox"/> <input type="checkbox"/> <input type="checkbox"/> <input type="checkbox"/> <input type="checkbox"/> <input type="checkbox"/>	3 <input type="checkbox"/> <input type="checkbox"/> <input type="checkbox"/> <input type="checkbox"/> <input type="checkbox"/> <input type="checkbox"/>
4 <input type="checkbox"/> <input type="checkbox"/> <input type="checkbox"/> <input type="checkbox"/> <input type="checkbox"/> <input type="checkbox"/>	4 <input type="checkbox"/> <input type="checkbox"/> <input type="checkbox"/> <input type="checkbox"/> <input type="checkbox"/> <input type="checkbox"/>	4 <input type="checkbox"/> <input type="checkbox"/> <input type="checkbox"/> <input type="checkbox"/> <input type="checkbox"/> <input type="checkbox"/>	4 <input type="checkbox"/> <input type="checkbox"/> <input type="checkbox"/> <input type="checkbox"/> <input type="checkbox"/> <input type="checkbox"/>

47 1 <input type="checkbox"/> <input type="checkbox"/> <input type="checkbox"/> <input type="checkbox"/> <input type="checkbox"/> <input type="checkbox"/>	48 1 <input type="checkbox"/> <input type="checkbox"/> <input type="checkbox"/> <input type="checkbox"/> <input type="checkbox"/> <input type="checkbox"/>
2 <input type="checkbox"/> <input type="checkbox"/> <input type="checkbox"/> <input type="checkbox"/> <input type="checkbox"/> <input type="checkbox"/>	2 <input type="checkbox"/> <input type="checkbox"/> <input type="checkbox"/> <input type="checkbox"/> <input type="checkbox"/> <input type="checkbox"/>
3 <input type="checkbox"/> <input type="checkbox"/> <input type="checkbox"/> <input type="checkbox"/> <input type="checkbox"/> <input type="checkbox"/>	3 <input type="checkbox"/> <input type="checkbox"/> <input type="checkbox"/> <input type="checkbox"/> <input type="checkbox"/> <input type="checkbox"/>
4 <input type="checkbox"/> <input type="checkbox"/> <input type="checkbox"/> <input type="checkbox"/> <input type="checkbox"/> <input type="checkbox"/>	4 <input type="checkbox"/> <input type="checkbox"/> <input type="checkbox"/> <input type="checkbox"/> <input type="checkbox"/> <input type="checkbox"/>

Приклад написання цифр для заповнення бланку відповідей: 1 2 3 4 5 6 7 8 9 0

Увага! Кожна записана цифра не має виходити за межі білого прямокутника

49 <input type="checkbox"/> <input type="checkbox"/> <input type="checkbox"/> <input type="checkbox"/>	50 <input type="checkbox"/> <input type="checkbox"/> <input type="checkbox"/> <input type="checkbox"/>	51 <input type="checkbox"/> <input type="checkbox"/> <input type="checkbox"/> <input type="checkbox"/>	52 <input type="checkbox"/> <input type="checkbox"/> <input type="checkbox"/> <input type="checkbox"/>	53 <input type="checkbox"/> <input type="checkbox"/> <input type="checkbox"/> <input type="checkbox"/>	54 <input type="checkbox"/> <input type="checkbox"/> <input type="checkbox"/> <input type="checkbox"/>
--	--	--	--	--	--

Приклад написання чисел у завданнях 49-56: число 1: 1 число 17: 1 7 число 123: 1 2 3

55 56

Місце для виправлення помилкової відповіді до завдань 49-56

Запишіть новий варіант відповіді праворуч відповідного номера завдання

49 <input type="checkbox"/> <input type="checkbox"/> <input type="checkbox"/> <input type="checkbox"/>	50 <input type="checkbox"/> <input type="checkbox"/> <input type="checkbox"/> <input type="checkbox"/>	51 <input type="checkbox"/> <input type="checkbox"/> <input type="checkbox"/> <input type="checkbox"/>	52 <input type="checkbox"/> <input type="checkbox"/> <input type="checkbox"/> <input type="checkbox"/>	53 <input type="checkbox"/> <input type="checkbox"/> <input type="checkbox"/> <input type="checkbox"/>	54 <input type="checkbox"/> <input type="checkbox"/> <input type="checkbox"/> <input type="checkbox"/>
	55 <input type="checkbox"/> <input type="checkbox"/> <input type="checkbox"/> <input type="checkbox"/>	56 <input type="checkbox"/> <input type="checkbox"/> <input type="checkbox"/> <input type="checkbox"/>			

Увага!

Цей бланк перевіряє комп'ютер! Ваші відповіді в бланку є результатом Вашої роботи.

Географія

1 2 3 4 5 6 7 8 9 10 11 12 13 14 15

Позначте номер Вашого зошита так:

Правильну відповідь у завданнях позначаєте тільки так:

Неправильну відповідь можна виправити, замалювавши попередню позначку та поставивши нову:

А Б В Г

А Б В Г	А Б В Г	А Б В Г	А Б В Г	А Б В Г	А Б В Г
1 <input type="checkbox"/>	8 <input type="checkbox"/>	15 <input type="checkbox"/>	22 <input type="checkbox"/>	29 <input type="checkbox"/>	36 <input type="checkbox"/>
2 <input type="checkbox"/>	9 <input type="checkbox"/>	16 <input type="checkbox"/>	23 <input type="checkbox"/>	30 <input type="checkbox"/>	37 <input type="checkbox"/>
3 <input type="checkbox"/>	10 <input type="checkbox"/>	17 <input type="checkbox"/>	24 <input type="checkbox"/>	31 <input type="checkbox"/>	38 <input type="checkbox"/>
4 <input type="checkbox"/>	11 <input type="checkbox"/>	18 <input type="checkbox"/>	25 <input type="checkbox"/>	32 <input type="checkbox"/>	39 <input type="checkbox"/>
5 <input type="checkbox"/>	12 <input type="checkbox"/>	19 <input type="checkbox"/>	26 <input type="checkbox"/>	33 <input type="checkbox"/>	40 <input type="checkbox"/>
6 <input type="checkbox"/>	13 <input type="checkbox"/>	20 <input type="checkbox"/>	27 <input type="checkbox"/>	34 <input type="checkbox"/>	41 <input type="checkbox"/>
7 <input type="checkbox"/>	14 <input type="checkbox"/>	21 <input type="checkbox"/>	28 <input type="checkbox"/>	35 <input type="checkbox"/>	42 <input type="checkbox"/>

А Б В Г Д	А Б В Г Д	А Б В Г Д	А Б В Г Д
43 1 <input type="checkbox"/>	44 1 <input type="checkbox"/>	45 1 <input type="checkbox"/>	46 1 <input type="checkbox"/>
2 <input type="checkbox"/>	2 <input type="checkbox"/>	2 <input type="checkbox"/>	2 <input type="checkbox"/>
3 <input type="checkbox"/>	3 <input type="checkbox"/>	3 <input type="checkbox"/>	3 <input type="checkbox"/>
4 <input type="checkbox"/>	4 <input type="checkbox"/>	4 <input type="checkbox"/>	4 <input type="checkbox"/>

А Б В Г Д	А Б В Г Д
47 1 <input type="checkbox"/>	48 1 <input type="checkbox"/>
2 <input type="checkbox"/>	2 <input type="checkbox"/>
3 <input type="checkbox"/>	3 <input type="checkbox"/>
4 <input type="checkbox"/>	4 <input type="checkbox"/>

Приклад написання цифр для заповнення бланку відповідей: 1 2 3 4 5 6 7 8 9 0

Увага! Кожна записана цифра не має виходити за межі білого прямокутника

49 50 51 52 53 54

Приклад написання чисел у завданнях 49–56: число 1: 1 число 17: 1 7 число 123: 1 2 3

55 56

Місце для виправлення помилкової відповіді до завдань 49–56

Запишіть новий варіант відповіді праворуч відповідного номера завдання

49 50 51 52 53 54

55 56

Увага!
Цей бланк перевіряє комп'ютер! Ваші відповіді в бланку є результатом Вашої роботи.

Географія

1 2 3 4 5 6 7 8 9 10 11 12 13 14 15

Позначте номер Вашого зошита так:

Правильну відповідь у завданнях позначайте тільки так:

Неправильну відповідь можна виправити, замалювавши попередню позначку та поставивши нову.

А Б В Г

1	А Б В Г	8	А Б В Г	15	А Б В Г	22	А Б В Г	29	А Б В Г	36	А Б В Г
2		9		16		23		30		37	
3		10		17		24		31		38	
4		11		18		25		32		39	
5		12		19		26		33		40	
6		13		20		27		34		41	
7		14		21		28		35		42	

43	1	А Б В Г Д	44	1	А Б В Г Д	45	1	А Б В Г Д	46	1	А Б В Г Д
	2			2			2			2	
	3			3			3			3	
	4			4			4			4	

47	1	А Б В Г Д	48	1	А Б В Г Д
	2			2	
	3			3	
	4			4	

Приклад написання цифр для заповнення бланка відповідей: 1 2 3 4 5 6 7 8 9 0

Увага! Кожна записана цифра не має виходити за межі білого прямокутника

49 50 51 52 53 54

Приклад написання чисел у завданнях 49-56: число 1: 1 число 17: 1 7 число 123: 1 2 3

55 56

Місце для виправлення помилкової відповіді до завдань 49-56

Запишіть новий варіант відповіді праворуч відповідного номера завдання

49 50 51 52 53 54

55 56

A

Увага!

Цей бланк перевіряє комп'ютер! Ваші відповіді в бланку є результатом Вашої роботи.

Географія

1 2 3 4 5 6 7 8 9 10 11 12 13 14 15

Позначте номер Вашого зошита так:

Правильну відповідь у завданнях позначайте тільки так:

Неправильну відповідь можна виправити, замалювавши попередню позначку та поставивши нову.

А Б В Г

А Б В Г	А Б В Г	А Б В Г	А Б В Г	А Б В Г	А Б В Г
1 <input type="checkbox"/>	8 <input type="checkbox"/>	15 <input type="checkbox"/>	22 <input type="checkbox"/>	29 <input type="checkbox"/>	36 <input type="checkbox"/>
2 <input type="checkbox"/>	9 <input type="checkbox"/>	16 <input type="checkbox"/>	23 <input type="checkbox"/>	30 <input type="checkbox"/>	37 <input type="checkbox"/>
3 <input type="checkbox"/>	10 <input type="checkbox"/>	17 <input type="checkbox"/>	24 <input type="checkbox"/>	31 <input type="checkbox"/>	38 <input type="checkbox"/>
4 <input type="checkbox"/>	11 <input type="checkbox"/>	18 <input type="checkbox"/>	25 <input type="checkbox"/>	32 <input type="checkbox"/>	39 <input type="checkbox"/>
5 <input type="checkbox"/>	12 <input type="checkbox"/>	19 <input type="checkbox"/>	26 <input type="checkbox"/>	33 <input type="checkbox"/>	40 <input type="checkbox"/>
6 <input type="checkbox"/>	13 <input type="checkbox"/>	20 <input type="checkbox"/>	27 <input type="checkbox"/>	34 <input type="checkbox"/>	41 <input type="checkbox"/>
7 <input type="checkbox"/>	14 <input type="checkbox"/>	21 <input type="checkbox"/>	28 <input type="checkbox"/>	35 <input type="checkbox"/>	42 <input type="checkbox"/>

А Б В Г Д	А Б В Г Д	А Б В Г Д	А Б В Г Д
43 1 <input type="checkbox"/>	44 1 <input type="checkbox"/>	45 1 <input type="checkbox"/>	46 1 <input type="checkbox"/>
2 <input type="checkbox"/>	2 <input type="checkbox"/>	2 <input type="checkbox"/>	2 <input type="checkbox"/>
3 <input type="checkbox"/>	3 <input type="checkbox"/>	3 <input type="checkbox"/>	3 <input type="checkbox"/>
4 <input type="checkbox"/>	4 <input type="checkbox"/>	4 <input type="checkbox"/>	4 <input type="checkbox"/>

А Б В Г Д	А Б В Г Д
47 1 <input type="checkbox"/>	48 1 <input type="checkbox"/>
2 <input type="checkbox"/>	2 <input type="checkbox"/>
3 <input type="checkbox"/>	3 <input type="checkbox"/>
4 <input type="checkbox"/>	4 <input type="checkbox"/>

Приклад написання цифр для заповнення бланка відповідей: 1 2 3 4 5 6 7 8 9 0

Увага! Кожна записана цифра не має виходити за межі білого прямокутника.

49 50 51 52 53 54

Приклад написання чисел у завданнях 49-56: число 1 1 число 17 17 число 123 123

55 56

Місце для виправлення помилкової відповіді до завдань 49-56

Запишіть новий варіант відповіді праворуч відповідного номера завдання

49 50 51 52 53 54
 55 56

ВІДПОВІДІ НА ТЕСТИ

Варіант 1

1. Б	2. Г	3. В	4. Б	5. Г	6. А	7. А
8. В	9. Б	10. Б	11. Б	12. Г	13. Г	14. А
15. Б	16. Г	17. А	18. Б	19. В	20. А	21. Б
22. Г	23. Г	24. Г	25. Б	26. Б	27. Г	28. Г
29. А	30. Б	31. Б	32. В	33. Б	34. В	35. В
36. А	37. Б	38. Г	39. В	40. В	41. Г	42. А
43. 1-В, 2-Д, 3-Б, 4-Г		44. 1-В, 2-Г, 3-А, 4-Б		45. 1-Б, 2-А, 3-Д, 4-Г		46. 1-В, 2-Д, 3-А, 4-Б
47. 1-В, 2-А, 3-Б, 4-Д		48. 1-Г, 2-Д, 3-А, 4-Б		49. 137		50. 235
51. 236		52. 146		53. 245		54. 246
55. -6,2		56. 750 м				

Варіант 2

1. В	2. Б	3. А	4. А	5. Б	6. Г	7. Б
8. В	9. Г	10. В	11. Б	12. А	13. В	14. Г
15. Б	16. А	17. Б	18. В	19. Г	20. В	21. Г
22. Б	23. Г	24. А	25. А	26. Б	27. Б	28. Б
29. В	30. А	31. В	32. Б	33. А	34. Б	35. Г
36. В	37. Б	38. В	39. Б	40. А	41. Б	42. Г
43. 1-В, 2-Г, 3-А, 4-Б		44. 1-Г, 2-В, 3-Д, 4-А		45. 1-Г, 2-Д, 3-Б, 4-А		46. 1-Г, 2-Д, 3-А, 4-В
47. 1-В, 2-Д, 3-Г, 4-А		48. 1-Г, 2-А, 3-Д, 4-Б		49. 257		50. 146
51. 124		52. 356		53. 246		54. 246
55. 15 год		56. 9 %				

Варіант 3

1. В	2. В	3. Г	4. А	5. Б	6. Б	7. А
8. Б	9. Б	10. Б	11. В	12. А	13. В	14. Б
15. Г	16. А	17. Б	18. Г	19. А	20. В	21. В
22. А	23. В	24. Б	25. В	26. Г	27. Г	28. В
29. Б	30. Г	31. Г	32. А	33. А	34. В	35. В
36. В	37. А	38. В	39. Б	40. А	41. Б	42. Г
43. 1-Д, 2-Б, 3-А, 4-В		44. 1-Б, 2-Д, 3-А, 4-Г		45. 1-Г, 2-В, 3-Д, 4-А		46. 1-Б, 2-Г, 3-А, 4-Д
47. 1-Б, 2-Д, 3-В, 4-А		48. 1-В, 2-А, 3-Д, 4-Б		49. 457		50. 367
51. 345		52. 256		53. 256		54. 246
55. -9 ‰		56. 100				

Варіант 4

1. В	2. Г	3. В	4. Г	5. Б	6. Б	7. В
8. Б	9. В	10. А	11. Б	12. Б	13. Б	14. В
15. Б	16. А	17. Г	18. В	19. Г	20. Г	21. Г
22. Б	23. Г	24. Б	25. Б	26. А	27. Г	28. Б
29. В	30. Г	31. В	32. Б	33. Б	34. В	35. Г
36. А	37. В	38. А	39. Б	40. Г	41. Г	42. В
43. 1-В, 2-Д, 3-Г, 4-Б	44. 1-Д, 2-А, 3-Г, 4-В	45. 1-Г, 2-Д, 3-А, 4-Б	46. 1-В, 2-А, 3-Б, 4-Д			
47. 1-В, 2-Д, 3-А, 4-Б	48. 1-Д, 2-В, 3-А, 4-Г	49. 246	50. 147			
51. 136	52. 235	53. 146	54. 146			
55. 7	56. 7 год					

Варіант 5

1. А	2. В	3. Б	4. Г	5. Г	6. А	7. Г
8. А	9. А	10. Б	11. Г	12. Б	13. Г	14. В
15. Б	16. Г	17. Б	18. Г	19. В	20. Б	21. Г
22. А	23. В	24. Б	25. А	26. Б	27. Б	28. В
29. Г	30. Г	31. Г	32. А	33. Б	34. Б	35. А
36. В	37. Г	38. Б	39. Г	40. А	41. В	42. Б
43. 1-Б, 2-А, 3-В, 4-Г	44. 1-А, 2-Д, 3-Б, 4-В	45. 1-Б, 2-Д, 3-А, 4-В	46. 1-Д, 2-А, 3-Г, 4-Б			
47. 1-Д, 2-Г, 3-А, 4-В	48. 1-Г, 2-А, 3-Д, 4-Б	49. 245	50. 135			
51. 145	52. 125	53. 356	54. 145			
55. 52 %	56. 17 год					

Варіант 6

1. Г	2. В	3. Б	4. В	5. А	6. В	7. А
8. Б	9. В	10. Б	11. А	12. Г	13. Г	14. Б
15. В	16. Б	17. Г	18. А	19. Б	20. В	21. В
22. Г	23. Г	24. Б	25. Б	26. В	27. Б	28. Б
29. Г	30. А	31. Б	32. В	33. Б	34. Г	35. В
36. Г	37. А	38. Г	39. Б	40. В	41. Б	42. Г
43. 1-Д, 2-В, 3-Б, 4-Г	44. 1-В, 2-Г, 3-А, 4-Д	45. 1-Б, 2-А, 3-В, 4-Г	46. 1-Г, 2-Д, 3-А, 4-Б			
47. 1-Б, 2-В, 3-А, 4-Д	48. 1-В, 2-Д, 3-А, 4-Б	49. 157	50. 245			
51. 236	52. 256	53. 235	54. 134			
55. 700 м	56. 69 %					

Варіант 7

1. Б	2. А	3. А	4. Б	5. Б	6. Г	7. В
8. А	9. Г	10. А	11. В	12. А	13. Г	14. А
15. Б	16. В	17. В	18. В	19. Г	20. Б	21. А
22. Б	23. А	24. Г	25. Б	26. В	27. Б	28. Б
29. В	30. В	31. Г	32. Б	33. В	34. Г	35. Б
36. В	37. Г	38. Б	39. А	40. В	41. Г	42. Б
43. 1-Б, 2-А, 3-В, 4-Д		44. 1-В, 2-Г, 3-А, 4-Б		45. 1-Г, 2-Б, 3-А, 4-В		46. 1-В, 2-Д, 3-Г, 4-А
47. 1-В, 2-Г, 3-А, 4-Б		48. 1-В, 2-Д, 3-А, 4-Б		49. 357		50. 245
51. 135		52. 245		53. 124		54. 246
55. 2 год		56. 250 м				

Варіант 8

1. Г	2. В	3. Б	4. В	5. А	6. А	7. Б
8. В	9. Б	10. Б	11. Г	12. В	13. Г	14. В
15. А	16. А	17. В	18. Б	19. А	20. В	21. Г
22. Б	23. Б	24. В	25. Б	26. В	27. В	28. Г
29. Б	30. А	31. Г	32. Б	33. Г	34. В	35. А
36. Г	37. Б	38. Г	39. Б	40. А	41. В	42. Г
43. 1-В, 2-Б, 3-Г, 4-Д		44. 1-В, 2-Д, 3-А, 4-Б		45. 1-В, 2-Д, 3-Г, 4-Б		46. 1-Д, 2-Б, 3-А, 4-В
47. 1-А, 2-Д, 3-Г, 4-В		48. 1-Г, 2-Д, 3-А, 4-Б		49. 147		50. 347
51. 356		52. 346		53. 126		54. 236
55. 1546 м		56. 5 млн осіб				

Варіант 9

1. В	2. В	3. Г	4. В	5. В	6. Г	7. А
8. Б	9. Г	10. Б	11. А	12. Б	13. Г	14. Г
15. Б	16. А	17. Г	18. В	19. В	20. А	21. В
22. Г	23. В	24. Г	25. Б	26. В	27. Б	28. Б
29. А	30. Б	31. В	32. Б	33. А	34. Б	35. Б
36. Г	37. В	38. Б	39. Б	40. А	41. В	42. Г
43. 1-В, 2-Д, 3-А, 4-Г		44. 1-Д, 2-А, 3-Б, 4-Г		45. 1-Г, 2-Д, 3-Б, 4-В		46. 1-В, 2-Г, 3-Д, 4-А
47. 1-Б, 2-Г, 3-А, 4-В		48. 1-В, 2-Г, 3-А, 4-Д		49. 245		50. 134
51. 256		52. 124		53. 235		54. 134
55. 2		56. 5 год				

Варіант 10

1. В	2. В	3. В	4. Г	5. Г	6. А	7. А
8. Б	9. Б	10. А	11. Г	12. Б	13. А	14. В
15. Б	16. А	17. В	18. Б	19. Г	20. Б	21. В
22. Г	23. Г	24. Б	25. Б	26. В	27. Г	28. Б
29. Б	30. А	31. В	32. Б	33. А	34. В	35. Г
36. В	37. Б	38. Г	39. В	40. Г	41. А	42. В
43. 1-В, 2-Г, 3-А, 4-Б	44. 1-В, 2-Д, 3-Б, 4-Г	45. 1-Б, 2-Д, 3-А, 4-В	46. 1-А, 2-Б, 3-В, 4-Г			
47. 1-В, 2-Г, 3-А, 4-Б	48. 1-А, 2-В, 3-Г, 4-Д	49. 245	50. 136			
51. 156	52. 146	53. 126	54. 135			
55. 15	56. 1 год					

ЗМІСТ

Варіант 1	4
Варіант 2	13
Варіант 3	23
Варіант 4	31
Варіант 5	39
Варіант 6	47
Варіант 7	55
Варіант 8	63
Варіант 9	71
Варіант 10	79
Бланки відповідей	87
Відповіді на тести	91

ББК 74.262.6
К53

*Рекомендовано Міністерством освіти і науки, молоді та спорту України
(Лист МОНмолодьспорту України від 05.11.12 р. № 1/11-17198)*

Колісніченко В.М.

К53 Географія : Тренувальні тести / В.М. Колісніченко,
В.І. Солод. – К. : Генеза, 2013. – 96 с. : іл.

ISBN 978-966-11-0187-5.

Цей збірник містить 10 варіантів тестів, укладених відповідно до програми, рекомендованої Міністерством освіти і науки, молоді та спорту України. Кожен варіант тесту містить тестові завдання різних типів і рівнів складності.

Пропонований посібник допоможе вчителю кваліфіковано оцінити навчальні досягнення учнів і підготувати випускника школи до зовнішнього тестування з географії. Цей посібник буде корисним і учневі для якісної самостійної підготовки до майбутнього зовнішнього незалежного оцінювання знань з географії.

ББК 74.262.6

ISBN 978-966-11-0187-5

© Колісніченко В.М.,
Солод В.І., 2013
© Видавництво «Генеза»,
оригінал-макет, 2013